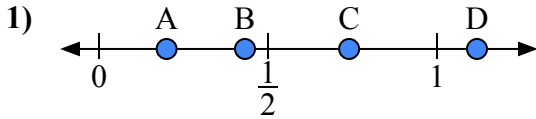
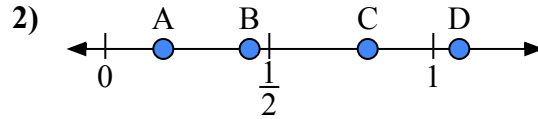




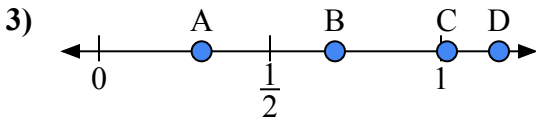
Используйте числовую прямую для ответа на вопрос.

**ОТВЕТЫ**

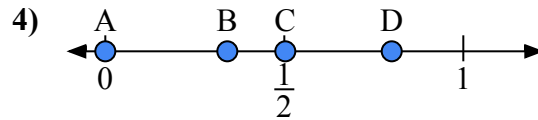
- a) Какая буква наилучшим образом отражает значение 0,20?  
b) Какая буква наилучшим образом отражает значение 0,74?



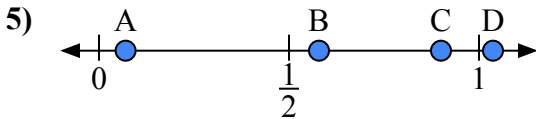
- a) Какая буква наилучшим образом отражает значение 0,8?  
b) Какая буква наилучшим образом отражает значение 0,44?



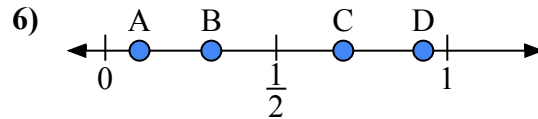
- a) Какая буква наилучшим образом отражает значение 0,30?  
b) Какая буква наилучшим образом отражает значение 0,69?



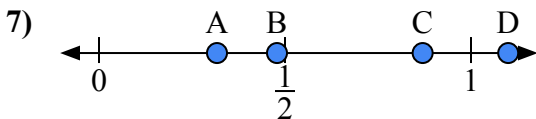
- a) Какая буква наилучшим образом отражает значение 0,0?  
b) Какая буква наилучшим образом отражает значение 0,80?



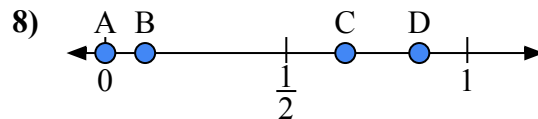
- a) Какая буква наилучшим образом отражает значение 0,90?  
b) Какая буква наилучшим образом отражает значение 0,07?



- a) Какая буква наилучшим образом отражает значение 0,10?  
b) Какая буква наилучшим образом отражает значение 0,31?



- a) Какая буква наилучшим образом отражает значение 1,10?  
b) Какая буква наилучшим образом отражает значение 0,87?

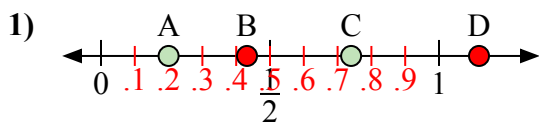


- a) Какая буква наилучшим образом отражает значение 0,00?  
b) Какая буква наилучшим образом отражает значение 0,11?

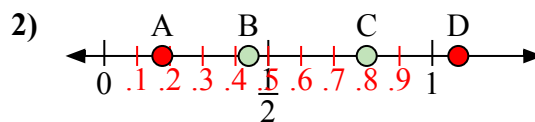
1. \_\_\_\_\_  
2. \_\_\_\_\_  
3. \_\_\_\_\_  
4. \_\_\_\_\_  
5. \_\_\_\_\_  
6. \_\_\_\_\_  
7. \_\_\_\_\_  
8. \_\_\_\_\_



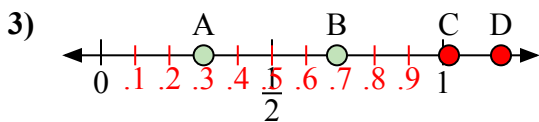
Используйте числовую прямую для ответа на вопрос.

**ОТВЕТЫ**

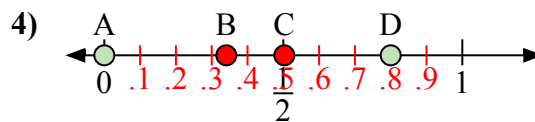
- a) Какая буква наилучшим образом отражает значение 0,20?  
b) Какая буква наилучшим образом отражает значение 0,74?



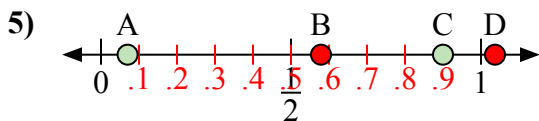
- a) Какая буква наилучшим образом отражает значение 0,8?  
b) Какая буква наилучшим образом отражает значение 0,44?



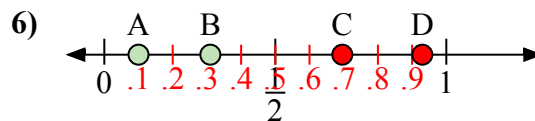
- a) Какая буква наилучшим образом отражает значение 0,30?  
b) Какая буква наилучшим образом отражает значение 0,69?



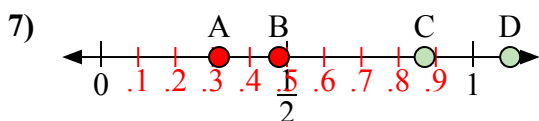
- a) Какая буква наилучшим образом отражает значение 0,0?  
b) Какая буква наилучшим образом отражает значение 0,80?



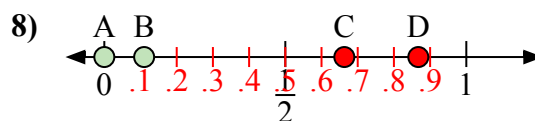
- a) Какая буква наилучшим образом отражает значение 0,90?  
b) Какая буква наилучшим образом отражает значение 0,07?



- a) Какая буква наилучшим образом отражает значение 0,10?  
b) Какая буква наилучшим образом отражает значение 0,31?



- a) Какая буква наилучшим образом отражает значение 1,10?  
b) Какая буква наилучшим образом отражает значение 0,87?



- a) Какая буква наилучшим образом отражает значение 0,00?  
b) Какая буква наилучшим образом отражает значение 0,11?

1. A C2. C B3. A B4. A D5. C A6. A B7. D C8. A B