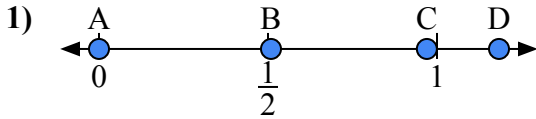
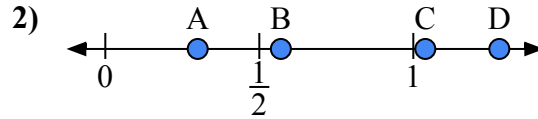




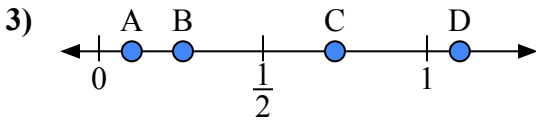
Используйте числовую прямую для ответа на вопрос.

**ОТВЕТЫ**

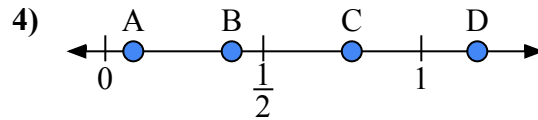
- a) Какая буква наилучшим образом отражает значение 0,00?  
b) Какая буква наилучшим образом отражает значение 0,97?



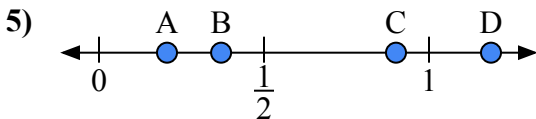
- a) Какая буква наилучшим образом отражает значение 0,30?  
b) Какая буква наилучшим образом отражает значение 0,57?



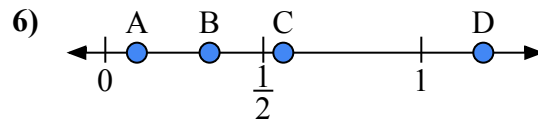
- a) Какая буква наилучшим образом отражает значение 1,10?  
b) Какая буква наилучшим образом отражает значение 0,10?



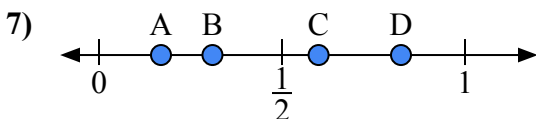
- a) Какая буква наилучшим образом отражает значение 0,4?  
b) Какая буква наилучшим образом отражает значение 0,78?



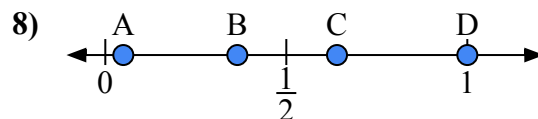
- a) Какая буква наилучшим образом отражает значение 0,90?  
b) Какая буква наилучшим образом отражает значение 0,37?



- a) Какая буква наилучшим образом отражает значение 0,1?  
b) Какая буква наилучшим образом отражает значение 0,33?



- a) Какая буква наилучшим образом отражает значение 0,6?  
b) Какая буква наилучшим образом отражает значение 0,31?

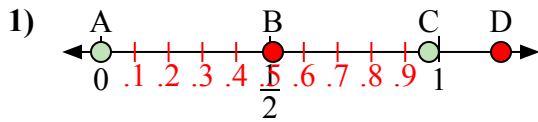


- a) Какая буква наилучшим образом отражает значение 1,0?  
b) Какая буква наилучшим образом отражает значение 0,64?

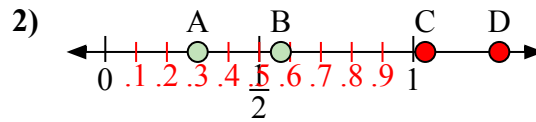
1. \_\_\_\_\_  
2. \_\_\_\_\_  
3. \_\_\_\_\_  
4. \_\_\_\_\_  
5. \_\_\_\_\_  
6. \_\_\_\_\_  
7. \_\_\_\_\_  
8. \_\_\_\_\_



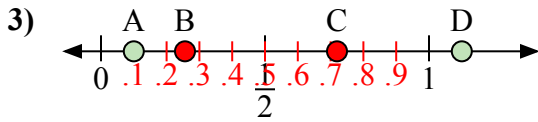
Используйте числовую прямую для ответа на вопрос.



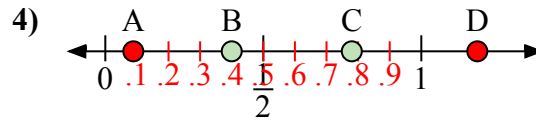
- a) Какая буква наилучшим образом отражает значение 0,00?  
b) Какая буква наилучшим образом отражает значение 0,97?



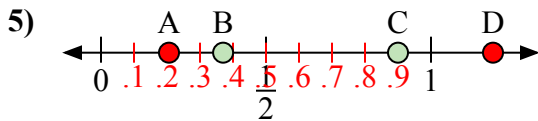
- a) Какая буква наилучшим образом отражает значение 0,30?  
b) Какая буква наилучшим образом отражает значение 0,57?



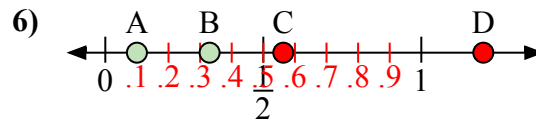
- a) Какая буква наилучшим образом отражает значение 1,10?  
b) Какая буква наилучшим образом отражает значение 0,10?



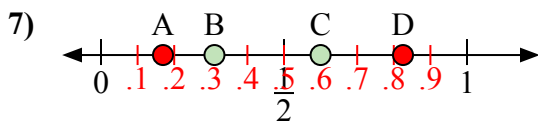
- a) Какая буква наилучшим образом отражает значение 0,4?  
b) Какая буква наилучшим образом отражает значение 0,78?



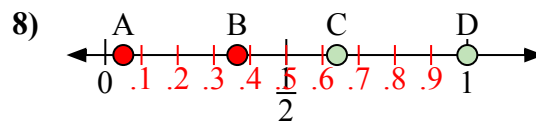
- a) Какая буква наилучшим образом отражает значение 0,90?  
b) Какая буква наилучшим образом отражает значение 0,37?



- a) Какая буква наилучшим образом отражает значение 0,1?  
b) Какая буква наилучшим образом отражает значение 0,33?



- a) Какая буква наилучшим образом отражает значение 0,6?  
b) Какая буква наилучшим образом отражает значение 0,31?



- a) Какая буква наилучшим образом отражает значение 1,0?  
b) Какая буква наилучшим образом отражает значение 0,64?

**ОТВЕТЫ**

1. A C  
2. A B  
3. D A  
4. B C  
5. C B  
6. A B  
7. C B  
8. D C