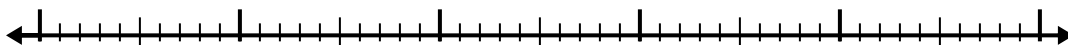


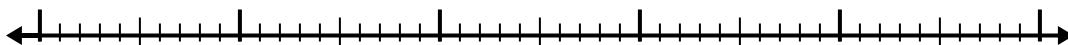


Используйте числовую линию для решения каждой проблемы.

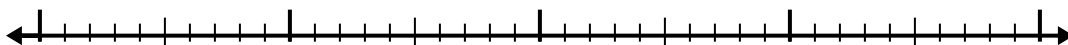
1) $6,2 - 3,6 =$



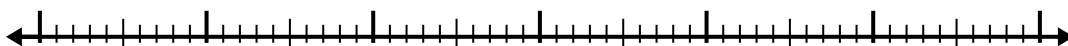
2) $5,2 - 2,2 =$



3) $3,3 - 2,2 =$



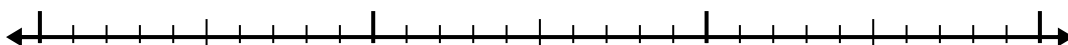
4) $7,6 - 3,9 =$



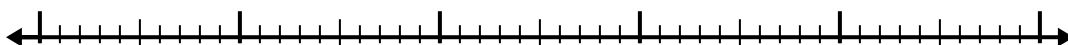
5) $10,4 - 2,2 =$




6) $7,2 - 1,8 =$




7) $5,8 - 3,6 =$



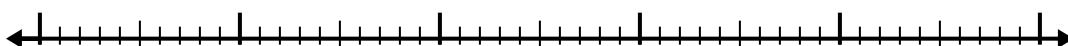
8) $8,2 - 2,8 =$



9) $5,7 - 2,2 =$



10) $4,1 - 2,2 =$



Ответы

1. _____

2. _____

3. _____

4. _____

5. _____

6. _____

7. _____

8. _____

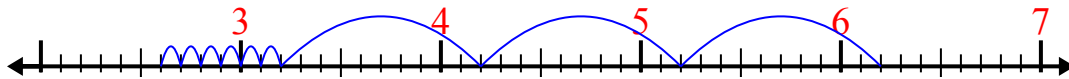
9. _____

10. _____

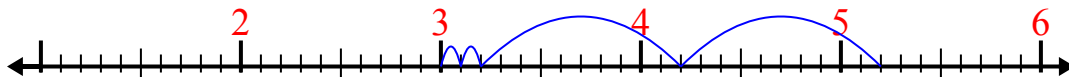


Используйте числовую линию для решения каждой проблемы.

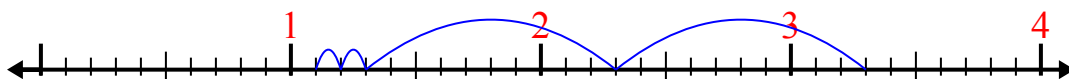
1) $6,2 - 3,6 =$



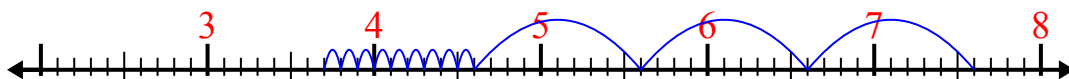
2) $5,2 - 2,2 =$



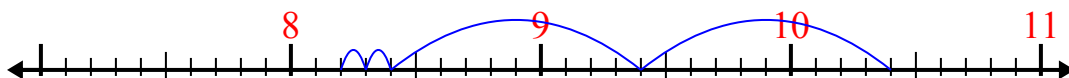
3) $3,3 - 2,2 =$



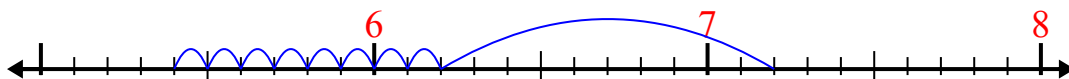
4) $7,6 - 3,9 =$



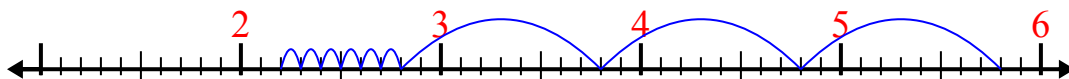
5) $10,4 - 2,2 =$



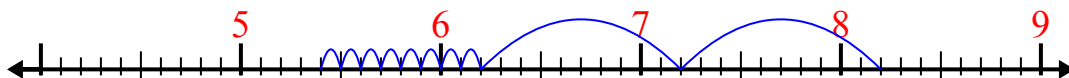
6) $7,2 - 1,8 =$



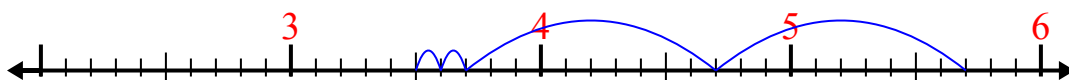
7) $5,8 - 3,6 =$



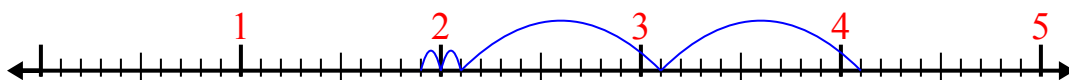
8) $8,2 - 2,8 =$



9) $5,7 - 2,2 =$



10) $4,1 - 2,2 =$



ОТВЕТЫ

1. 2,6

2. 3

3. 1,1

4. 3,7

5. 8,2

6. 5,4

7. 2,2

8. 5,4

9. 3,5

10. 1,9