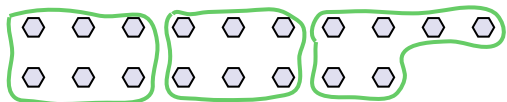







Используйте фигуры, чтобы получить ответ на вопрос.


об) Сколько групп по 6 вы можете выделить из 18 данных фигур?




2) Сколько групп по 3 вы можете выделить из 33 данных фигур?




4) Сколько групп по 7 вы можете выделить из 14 данных фигур?



6) Сколько групп по 4 вы можете выделить из 40 данных фигур?



8) Сколько групп по 7 вы можете выделить из 28 данных фигур?



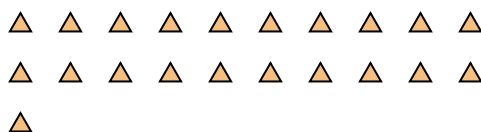
10) Сколько групп по 4 вы можете выделить из 12 данных фигур?



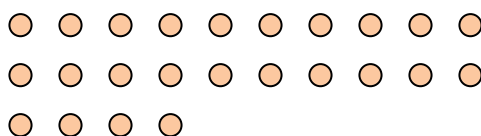
1) Сколько групп по 3 вы можете выделить из 27 данных фигур?




3) Сколько групп по 7 вы можете выделить из 21 данных фигур?



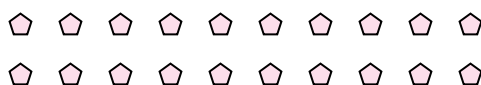
5) Сколько групп по 8 вы можете выделить из 24 данных фигур?



7) Сколько групп по 8 вы можете выделить из 32 данных фигур?



9) Сколько групп по 5 вы можете выделить из 20 данных фигур?



11) Сколько групп по 7 вы можете выделить из 21 данных фигур?



Ответы

об. 3

1. 9

2. 11

3. 3

4. 2

5. 3

6. 10

7. 4

8. 4

9. 4

10. 3

11. 3