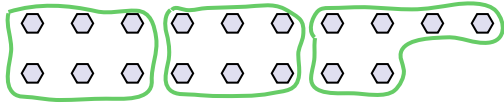




Используйте фигуры, чтобы получить ответ на вопрос.

об) Сколько групп по 6 вы можете выделить из 18 данных фигур?

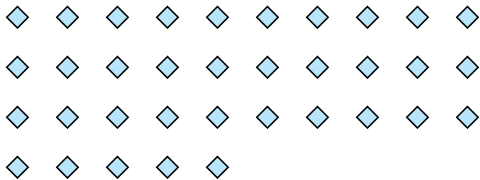


1) Сколько групп по 6 вы можете выделить из 12 данных фигур?



об. 3

2) Сколько групп по 7 вы можете выделить из 35 данных фигур?




3) Сколько групп по 4 вы можете выделить из 8 данных фигур?



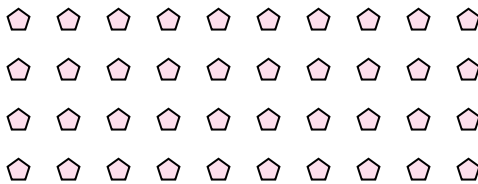
1. _____

2. _____

4) Сколько групп по 8 вы можете выделить из 24 данных фигур?



5) Сколько групп по 4 вы можете выделить из 40 данных фигур?




3. _____

4. _____

5. _____

6. _____

6) Сколько групп по 6 вы можете выделить из 36 данных фигур?



7) Сколько групп по 5 вы можете выделить из 10 данных фигур?



7. _____


8. _____

9. _____


10. _____

11. _____

8) Сколько групп по 9 вы можете выделить из 27 данных фигур?



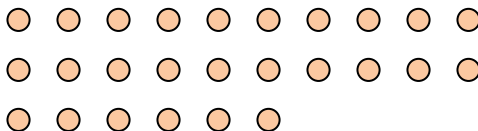
9) Сколько групп по 8 вы можете выделить из 32 данных фигур?



10) Сколько групп по 6 вы можете выделить из 18 данных фигур?



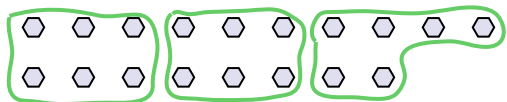
11) Сколько групп по 2 вы можете выделить из 26 данных фигур?






Используйте фигуры, чтобы получить ответ на вопрос.


об) Сколько групп по 6 вы можете выделить из 18 данных фигур?




2) Сколько групп по 7 вы можете выделить из 35 данных фигур?




4) Сколько групп по 8 вы можете выделить из 24 данных фигур?



6) Сколько групп по 6 вы можете выделить из 36 данных фигур?



8) Сколько групп по 9 вы можете выделить из 27 данных фигур?



10) Сколько групп по 6 вы можете выделить из 18 данных фигур?



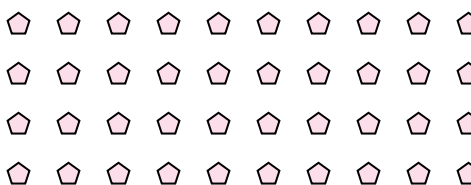
1) Сколько групп по 6 вы можете выделить из 12 данных фигур?



3) Сколько групп по 4 вы можете выделить из 8 данных фигур?




5) Сколько групп по 4 вы можете выделить из 40 данных фигур?



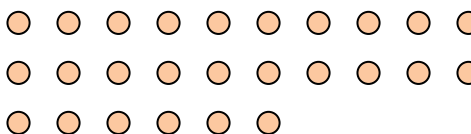
7) Сколько групп по 5 вы можете выделить из 10 данных фигур?



9) Сколько групп по 8 вы можете выделить из 32 данных фигур?



11) Сколько групп по 2 вы можете выделить из 26 данных фигур?



Ответы

об. 3

1. 2

2. 5

3. 2

4. 3

5. 10

6. 6

7. 2

8. 3

9. 4

10. 3

11. 13