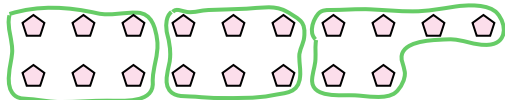






Используйте фигуры, чтобы получить ответ на вопрос.

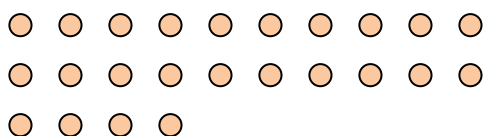
об) Сколько групп по 6 вы можете выделить из 18 данных фигур?



2) Сколько групп по 3 вы можете выделить из 6 данных фигур?



4) Сколько групп по 8 вы можете выделить из 24 данных фигур?



6) Сколько групп по 4 вы можете выделить из 16 данных фигур?



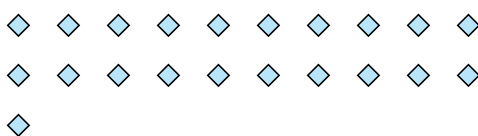
8) Сколько групп по 3 вы можете выделить из 15 данных фигур?



10) Сколько групп по 4 вы можете выделить из 8 данных фигур?



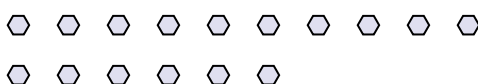
1) Сколько групп по 7 вы можете выделить из 21 данных фигур?




3) Сколько групп по 6 вы можете выделить из 18 данных фигур?



5) Сколько групп по 8 вы можете выделить из 16 данных фигур?



7) Сколько групп по 7 вы можете выделить из 35 данных фигур?



9) Сколько групп по 2 вы можете выделить из 18 данных фигур?



11) Сколько групп по 7 вы можете выделить из 14 данных фигур?



Ответы

об. 3

1. 3

2. 2

3. 3

4. 3

5. 2

6. 4

7. 5

8. 5

9. 9

10. 2

11. 2