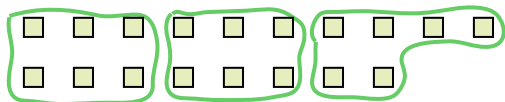







Используйте фигуры, чтобы получить ответ на вопрос.

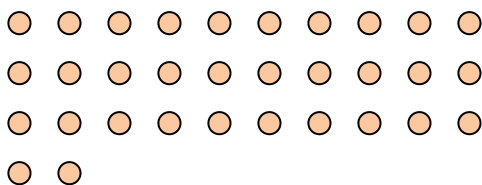
об) Сколько групп по 6 вы можете выделить из 18 данных фигур?



2) Сколько групп по 4 вы можете выделить из 28 данных фигур?




4) Сколько групп по 4 вы можете выделить из 32 данных фигур?



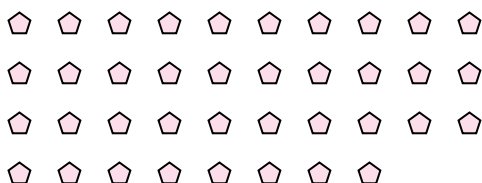
6) Сколько групп по 6 вы можете выделить из 36 данных фигур?




8) Сколько групп по 6 вы можете выделить из 36 данных фигур?




10) Сколько групп по 2 вы можете выделить из 38 данных фигур?



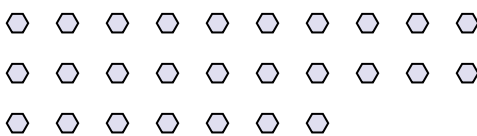
1) Сколько групп по 3 вы можете выделить из 30 данных фигур?




3) Сколько групп по 2 вы можете выделить из 40 данных фигур?



5) Сколько групп по 9 вы можете выделить из 27 данных фигур?



7) Сколько групп по 3 вы можете выделить из 36 данных фигур?



9) Сколько групп по 4 вы можете выделить из 36 данных фигур?



11) Сколько групп по 7 вы можете выделить из 14 данных фигур?



ОТВЕТЫ

об. 3

1. 10

2. 7

3. 20

4. 8

5. 3

6. 6

7. 12

8. 6

9. 9

10. 19

11. 2