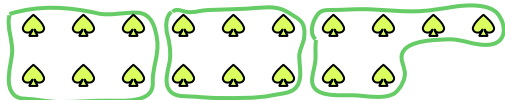






Используйте фигуры, чтобы получить ответ на вопрос.

об) Сколько групп по 6 вы можете выделить из 18 данных фигур?



2) Сколько групп по 6 вы можете выделить из 18 данных фигур?




4) Сколько групп по 4 вы можете выделить из 8 данных фигур?



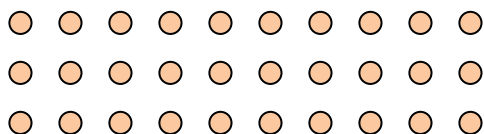
6) Сколько групп по 2 вы можете выделить из 24 данных фигур?



8) Сколько групп по 9 вы можете выделить из 27 данных фигур?



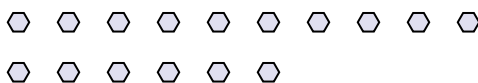
10) Сколько групп по 6 вы можете выделить из 30 данных фигур?



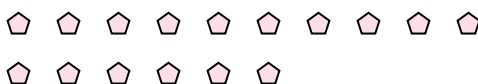
1) Сколько групп по 3 вы можете выделить из 9 данных фигур?



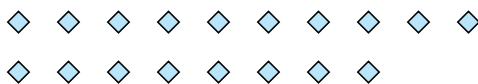
3) Сколько групп по 8 вы можете выделить из 16 данных фигур?




5) Сколько групп по 8 вы можете выделить из 16 данных фигур?



7) Сколько групп по 2 вы можете выделить из 18 данных фигур?



9) Сколько групп по 9 вы можете выделить из 36 данных фигур?



11) Сколько групп по 3 вы можете выделить из 39 данных фигур?



Ответы

об. 3

1. 3

2. 3

3. 2

4. 2

5. 2

6. 12

7. 9

8. 3

9. 4

10. 5

11. 13