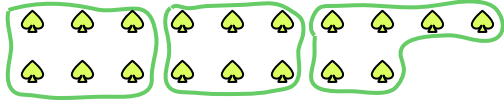






Используйте фигуры, чтобы получить ответ на вопрос.


об) Сколько групп по 6 вы можете выделить из 18 данных фигур?



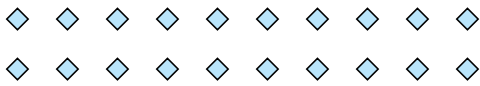
2) Сколько групп по 7 вы можете выделить из 21 данных фигур?




4) Сколько групп по 3 вы можете выделить из 24 данных фигур?



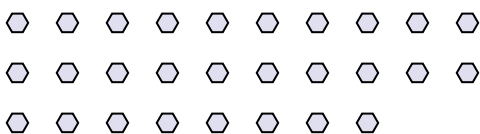
6) Сколько групп по 5 вы можете выделить из 20 данных фигур?



8) Сколько групп по 9 вы можете выделить из 36 данных фигур?



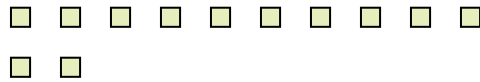
10) Сколько групп по 2 вы можете выделить из 28 данных фигур?



1) Сколько групп по 5 вы можете выделить из 40 данных фигур?



3) Сколько групп по 6 вы можете выделить из 12 данных фигур?



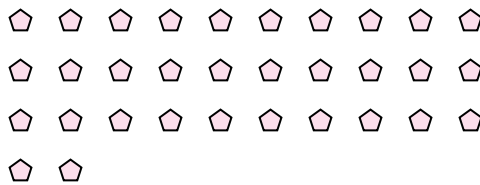
5) Сколько групп по 2 вы можете выделить из 4 данных фигур?



7) Сколько групп по 9 вы можете выделить из 18 данных фигур?



9) Сколько групп по 2 вы можете выделить из 32 данных фигур?



11) Сколько групп по 8 вы можете выделить из 24 данных фигур?



Ответы

об. 3

1. 8

2. 3

3. 2

4. 8

5. 2

6. 4

7. 2

8. 4

9. 16

10. 14

11. 3