




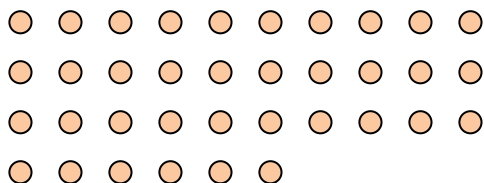


Используйте фигуры, чтобы получить ответ на вопрос.


об) Сколько групп по 6 вы можете выделить из 18 данных фигур?



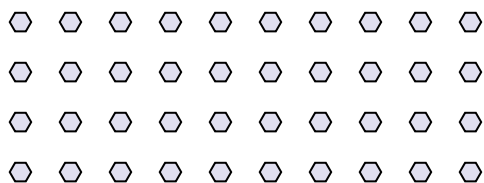
2) Сколько групп по 9 вы можете выделить из 36 данных фигур?



4) Сколько групп по 7 вы можете выделить из 35 данных фигур?



6) Сколько групп по 8 вы можете выделить из 40 данных фигур?



8) Сколько групп по 4 вы можете выделить из 40 данных фигур?




10) Сколько групп по 5 вы можете выделить из 10 данных фигур?



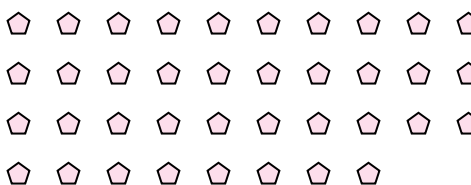
1) Сколько групп по 2 вы можете выделить из 26 данных фигур?




3) Сколько групп по 3 вы можете выделить из 24 данных фигур?



5) Сколько групп по 2 вы можете выделить из 38 данных фигур?




7) Сколько групп по 9 вы можете выделить из 36 данных фигур?



9) Сколько групп по 7 вы можете выделить из 35 данных фигур?



11) Сколько групп по 9 вы можете выделить из 27 данных фигур?



Ответы

об. 3

1. 13

2. 4

3. 8

4. 5

5. 19

6. 5

7. 4

8. 10

9. 5

10. 2

11. 3