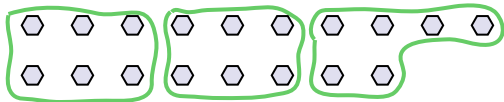




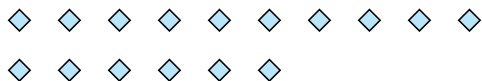


Используйте фигуры, чтобы получить ответ на вопрос.


об) Сколько групп по 6 вы можете выделить из 18 данных фигур?



2) Сколько групп по 4 вы можете выделить из 16 данных фигур?



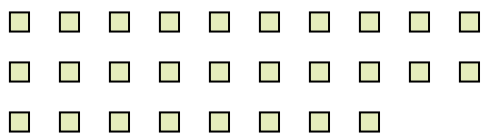
4) Сколько групп по 4 вы можете выделить из 28 данных фигур?



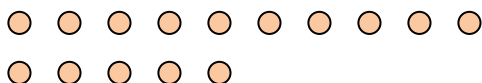
6) Сколько групп по 9 вы можете выделить из 27 данных фигур?



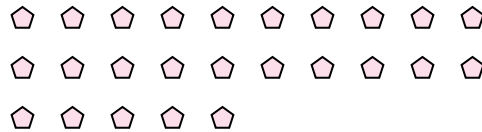
8) Сколько групп по 2 вы можете выделить из 28 данных фигур?



10) Сколько групп по 5 вы можете выделить из 15 данных фигур?




1) Сколько групп по 5 вы можете выделить из 25 данных фигур?



3) Сколько групп по 2 вы можете выделить из 14 данных фигур?



5) Сколько групп по 9 вы можете выделить из 36 данных фигур?




7) Сколько групп по 6 вы можете выделить из 30 данных фигур?



9) Сколько групп по 9 вы можете выделить из 27 данных фигур?



11) Сколько групп по 4 вы можете выделить из 36 данных фигур?



Ответы

об. 3

1. 5

2. 4

3. 7

4. 7

5. 4

6. 3

7. 5

8. 14

9. 3

10. 3

11. 9