




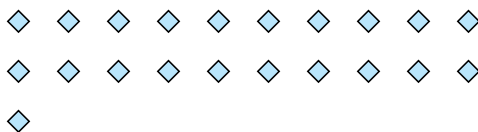
Используйте фигуры, чтобы получить ответ на вопрос.

Ответы

об) Сколько групп по 6 вы можете выделить из 18 данных фигур?




1) Сколько групп по 7 вы можете выделить из 21 данных фигур?



об. 3

2) Сколько групп по 6 вы можете выделить из 30 данных фигур?



3) Сколько групп по 4 вы можете выделить из 28 данных фигур?



1. \_\_\_\_\_

2. \_\_\_\_\_

3. \_\_\_\_\_

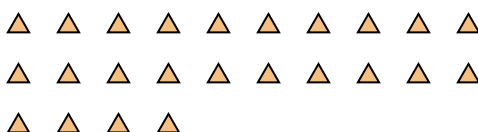
4. \_\_\_\_\_

5. \_\_\_\_\_

4) Сколько групп по 9 вы можете выделить из 27 данных фигур?



5) Сколько групп по 6 вы можете выделить из 24 данных фигур?




6. \_\_\_\_\_

7. \_\_\_\_\_

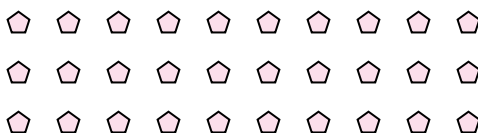
8. \_\_\_\_\_

9. \_\_\_\_\_

6) Сколько групп по 3 вы можете выделить из 30 данных фигур?



7) Сколько групп по 5 вы можете выделить из 30 данных фигур?



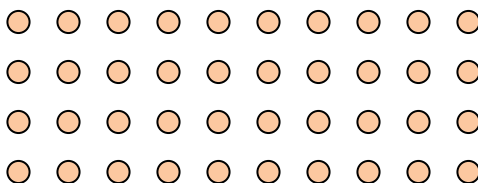
10. \_\_\_\_\_

11. \_\_\_\_\_

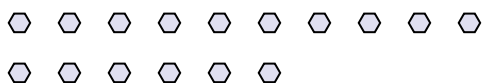
8) Сколько групп по 7 вы можете выделить из 14 данных фигур?




9) Сколько групп по 5 вы можете выделить из 40 данных фигур?



10) Сколько групп по 2 вы можете выделить из 16 данных фигур?




11) Сколько групп по 5 вы можете выделить из 30 данных фигур?






Используйте фигуры, чтобы получить ответ на вопрос.

об) Сколько групп по 6 вы можете выделить из 18 данных фигур?




2) Сколько групп по 6 вы можете выделить из 30 данных фигур?



4) Сколько групп по 9 вы можете выделить из 27 данных фигур?



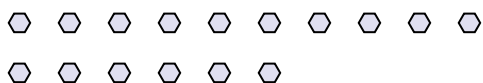
6) Сколько групп по 3 вы можете выделить из 30 данных фигур?



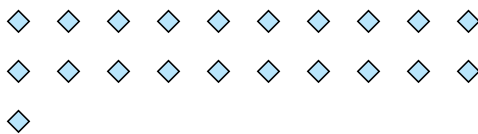
8) Сколько групп по 7 вы можете выделить из 14 данных фигур?



10) Сколько групп по 2 вы можете выделить из 16 данных фигур?




1) Сколько групп по 7 вы можете выделить из 21 данных фигур?



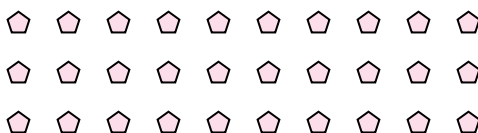
3) Сколько групп по 4 вы можете выделить из 28 данных фигур?



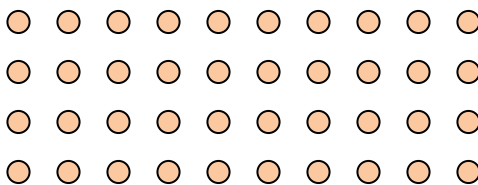
5) Сколько групп по 6 вы можете выделить из 24 данных фигур?




7) Сколько групп по 5 вы можете выделить из 30 данных фигур?



9) Сколько групп по 5 вы можете выделить из 40 данных фигур?



11) Сколько групп по 5 вы можете выделить из 30 данных фигур?



Ответы

об. 3

1. 3

2. 5

3. 7

4. 3

5. 4

6. 10

7. 6

8. 2

9. 8

10. 8

11. 6