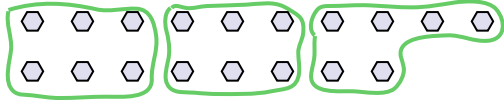




Используйте фигуры, чтобы получить ответ на вопрос.

Ответы

об) Сколько групп по 6 вы можете выделить из 18 данных фигур?

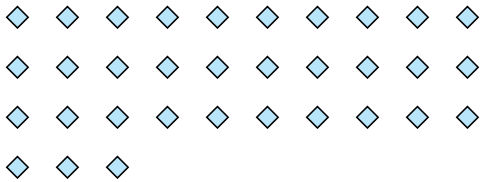


1) Сколько групп по 3 вы можете выделить из 27 данных фигур?

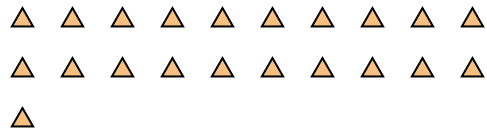


об. 3

2) Сколько групп по 3 вы можете выделить из 33 данных фигур?




3) Сколько групп по 7 вы можете выделить из 21 данных фигур?



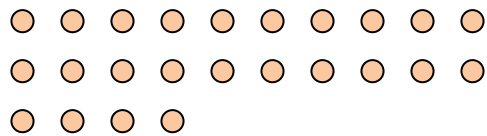
1. _____

2. _____

4) Сколько групп по 7 вы можете выделить из 14 данных фигур?



5) Сколько групп по 8 вы можете выделить из 24 данных фигур?



3. _____

4. _____

5. _____


6. _____

7. _____


8. _____

9. _____

6) Сколько групп по 4 вы можете выделить из 40 данных фигур?




7) Сколько групп по 8 вы можете выделить из 32 данных фигур?



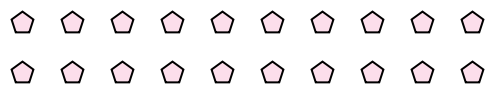
10. _____

11. _____

8) Сколько групп по 7 вы можете выделить из 28 данных фигур?



9) Сколько групп по 5 вы можете выделить из 20 данных фигур?



10) Сколько групп по 4 вы можете выделить из 12 данных фигур?



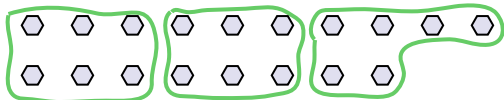
11) Сколько групп по 7 вы можете выделить из 21 данных фигур?






Используйте фигуры, чтобы получить ответ на вопрос.


об) Сколько групп по 6 вы можете выделить из 18 данных фигур?




2) Сколько групп по 3 вы можете выделить из 33 данных фигур?



4) Сколько групп по 7 вы можете выделить из 14 данных фигур?



6) Сколько групп по 4 вы можете выделить из 40 данных фигур?



8) Сколько групп по 7 вы можете выделить из 28 данных фигур?



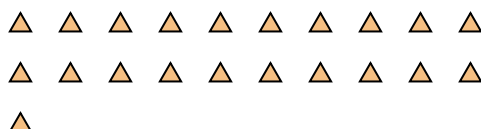
10) Сколько групп по 4 вы можете выделить из 12 данных фигур?



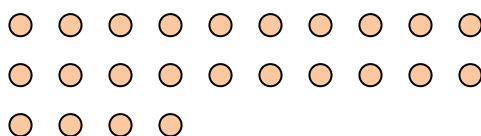
1) Сколько групп по 3 вы можете выделить из 27 данных фигур?




3) Сколько групп по 7 вы можете выделить из 21 данных фигур?



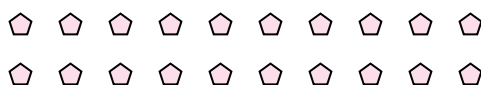
5) Сколько групп по 8 вы можете выделить из 24 данных фигур?



7) Сколько групп по 8 вы можете выделить из 32 данных фигур?



9) Сколько групп по 5 вы можете выделить из 20 данных фигур?



11) Сколько групп по 7 вы можете выделить из 21 данных фигур?



Ответы

об. 3

1. 9

2. 11

3. 3

4. 2

5. 3

6. 10

7. 4

8. 4

9. 4

10. 3

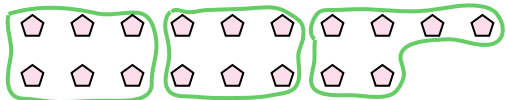
11. 3



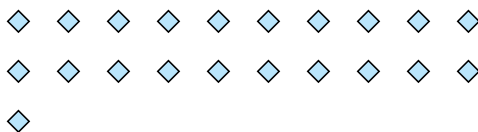
Используйте фигуры, чтобы получить ответ на вопрос.

Ответы

об) Сколько групп по 6 вы можете выделить из 18 данных фигур?



1) Сколько групп по 7 вы можете выделить из 21 данных фигур?



об. 3

2) Сколько групп по 3 вы можете выделить из 6 данных фигур?



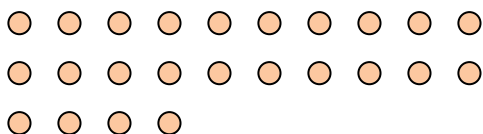
3) Сколько групп по 6 вы можете выделить из 18 данных фигур?



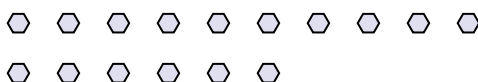
1. _____

2. _____

4) Сколько групп по 8 вы можете выделить из 24 данных фигур?



5) Сколько групп по 8 вы можете выделить из 16 данных фигур?



3. _____

4. _____

5. _____

6. _____

7. _____


8. _____

9. _____

6) Сколько групп по 4 вы можете выделить из 16 данных фигур?



7) Сколько групп по 7 вы можете выделить из 35 данных фигур?



10. _____

11. _____

8) Сколько групп по 3 вы можете выделить из 15 данных фигур?



9) Сколько групп по 2 вы можете выделить из 18 данных фигур?



10) Сколько групп по 4 вы можете выделить из 8 данных фигур?



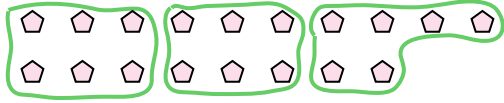
11) Сколько групп по 7 вы можете выделить из 14 данных фигур?





Используйте фигуры, чтобы получить ответ на вопрос.

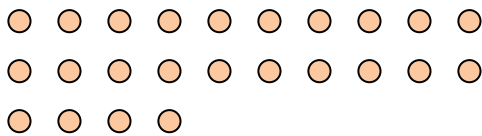
об) Сколько групп по 6 вы можете выделить из 18 данных фигур?




2) Сколько групп по 3 вы можете выделить из 6 данных фигур?



4) Сколько групп по 8 вы можете выделить из 24 данных фигур?



6) Сколько групп по 4 вы можете выделить из 16 данных фигур?



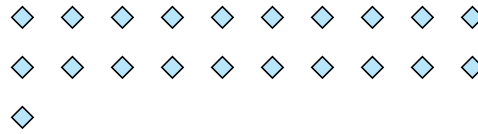
8) Сколько групп по 3 вы можете выделить из 15 данных фигур?



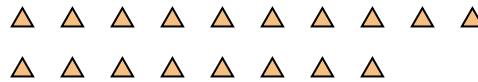
10) Сколько групп по 4 вы можете выделить из 8 данных фигур?



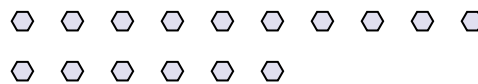
1) Сколько групп по 7 вы можете выделить из 21 данных фигур?




3) Сколько групп по 6 вы можете выделить из 18 данных фигур?



5) Сколько групп по 8 вы можете выделить из 16 данных фигур?



7) Сколько групп по 7 вы можете выделить из 35 данных фигур?



9) Сколько групп по 2 вы можете выделить из 18 данных фигур?



11) Сколько групп по 7 вы можете выделить из 14 данных фигур?



Ответы

об. 3

1. 3

2. 2

3. 3

4. 3

5. 2

6. 4

7. 5

8. 5

9. 9

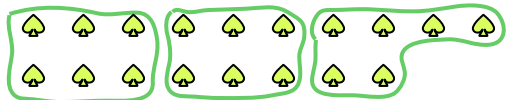
10. 2

11. 2




Используйте фигуры, чтобы получить ответ на вопрос.

об) Сколько групп по 6 вы можете выделить из 18 данных фигур?



2) Сколько групп по 6 вы можете выделить из 18 данных фигур?




4) Сколько групп по 4 вы можете выделить из 8 данных фигур?



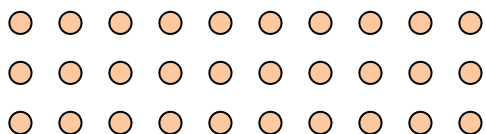
6) Сколько групп по 2 вы можете выделить из 24 данных фигур?



8) Сколько групп по 9 вы можете выделить из 27 данных фигур?



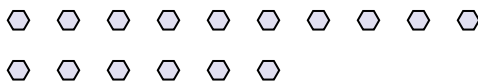
10) Сколько групп по 6 вы можете выделить из 30 данных фигур?



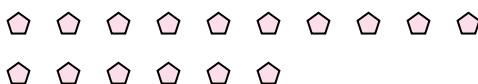
1) Сколько групп по 3 вы можете выделить из 9 данных фигур?



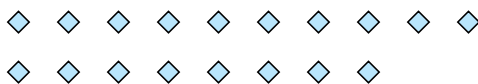
3) Сколько групп по 8 вы можете выделить из 16 данных фигур?




5) Сколько групп по 8 вы можете выделить из 16 данных фигур?



7) Сколько групп по 2 вы можете выделить из 18 данных фигур?



9) Сколько групп по 9 вы можете выделить из 36 данных фигур?



11) Сколько групп по 3 вы можете выделить из 39 данных фигур?



Ответы

об. 3

1. _____

2. _____

3. _____

4. _____

5. _____

6. _____

7. _____

8. _____

9. _____

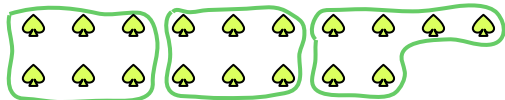
10. _____

11. _____



Используйте фигуры, чтобы получить ответ на вопрос.

об) Сколько групп по 6 вы можете выделить из 18 данных фигур?



2) Сколько групп по 6 вы можете выделить из 18 данных фигур?




4) Сколько групп по 4 вы можете выделить из 8 данных фигур?



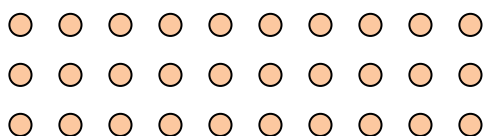
6) Сколько групп по 2 вы можете выделить из 24 данных фигур?



8) Сколько групп по 9 вы можете выделить из 27 данных фигур?



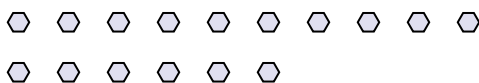
10) Сколько групп по 6 вы можете выделить из 30 данных фигур?



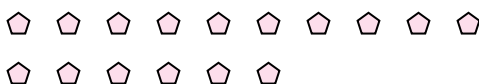
1) Сколько групп по 3 вы можете выделить из 9 данных фигур?



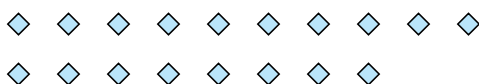
3) Сколько групп по 8 вы можете выделить из 16 данных фигур?




5) Сколько групп по 8 вы можете выделить из 16 данных фигур?



7) Сколько групп по 2 вы можете выделить из 18 данных фигур?



9) Сколько групп по 9 вы можете выделить из 36 данных фигур?



11) Сколько групп по 3 вы можете выделить из 39 данных фигур?



Ответы

об. 3

1. 3

2. 3

3. 2

4. 2

5. 2

6. 12

7. 9

8. 3

9. 4

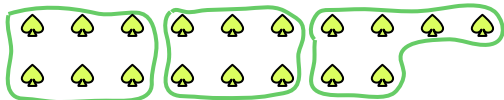
10. 5

11. 13



Используйте фигуры, чтобы получить ответ на вопрос.


об) Сколько групп по 6 вы можете выделить из 18 данных фигур?



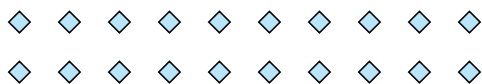
2) Сколько групп по 7 вы можете выделить из 21 данных фигур?




4) Сколько групп по 3 вы можете выделить из 24 данных фигур?



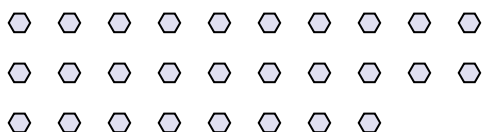
6) Сколько групп по 5 вы можете выделить из 20 данных фигур?



8) Сколько групп по 9 вы можете выделить из 36 данных фигур?



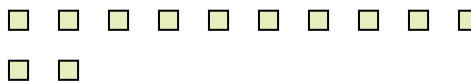
10) Сколько групп по 2 вы можете выделить из 28 данных фигур?



1) Сколько групп по 5 вы можете выделить из 40 данных фигур?



3) Сколько групп по 6 вы можете выделить из 12 данных фигур?



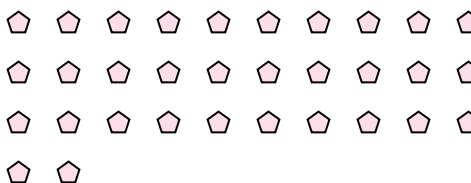
5) Сколько групп по 2 вы можете выделить из 4 данных фигур?



7) Сколько групп по 9 вы можете выделить из 18 данных фигур?



9) Сколько групп по 2 вы можете выделить из 32 данных фигур?



11) Сколько групп по 8 вы можете выделить из 24 данных фигур?



Ответы

об. 3

1. 8

2. 3

3. 2

4. 8

5. 2

6. 4

7. 2

8. 4

9. 16

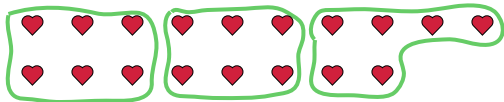
10. 14

11. 3

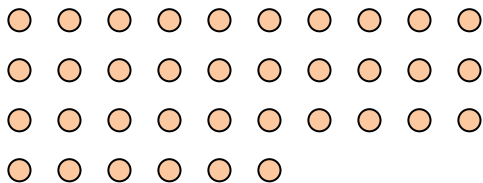


Используйте фигуры, чтобы получить ответ на вопрос.

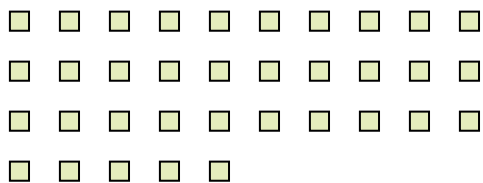
об) Сколько групп по 6 вы можете выделить из 18 данных фигур?



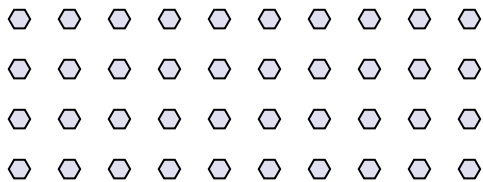
2) Сколько групп по 9 вы можете выделить из 36 данных фигур?



4) Сколько групп по 7 вы можете выделить из 35 данных фигур?



6) Сколько групп по 8 вы можете выделить из 40 данных фигур?



8) Сколько групп по 4 вы можете выделить из 40 данных фигур?




10) Сколько групп по 5 вы можете выделить из 10 данных фигур?



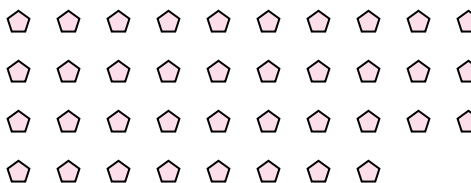
1) Сколько групп по 2 вы можете выделить из 26 данных фигур?




3) Сколько групп по 3 вы можете выделить из 24 данных фигур?



5) Сколько групп по 2 вы можете выделить из 38 данных фигур?




7) Сколько групп по 9 вы можете выделить из 36 данных фигур?



9) Сколько групп по 7 вы можете выделить из 35 данных фигур?



11) Сколько групп по 9 вы можете выделить из 27 данных фигур?



Ответы

об. 3

1. 13

2. 4

3. 8

4. 5

5. 19

6. 5

7. 4

8. 10

9. 5


10. 2

11. 3




Используйте фигуры, чтобы получить ответ на вопрос.

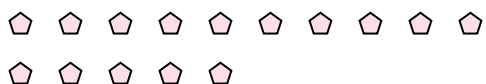
об) Сколько групп по 6 вы можете выделить из 18 данных фигур?




2) Сколько групп по 6 вы можете выделить из 36 данных фигур?




4) Сколько групп по 5 вы можете выделить из 15 данных фигур?



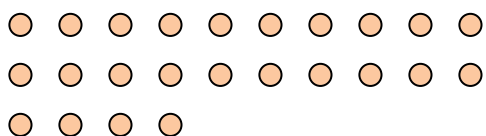
6) Сколько групп по 4 вы можете выделить из 40 данных фигур?



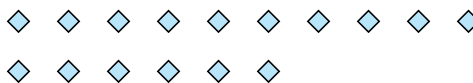
8) Сколько групп по 6 вы можете выделить из 30 данных фигур?



10) Сколько групп по 8 вы можете выделить из 24 данных фигур?



1) Сколько групп по 8 вы можете выделить из 16 данных фигур?



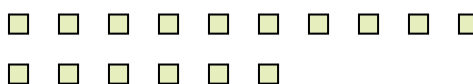
3) Сколько групп по 5 вы можете выделить из 25 данных фигур?




5) Сколько групп по 3 вы можете выделить из 6 данных фигур?




7) Сколько групп по 2 вы можете выделить из 16 данных фигур?



9) Сколько групп по 7 вы можете выделить из 21 данных фигур?



11) Сколько групп по 2 вы можете выделить из 22 данных фигур?



Ответы

об. 3

1. 2

2. 6

3. 5

4. 3

5. 2

6. 10

7. 8

8. 5

9. 3

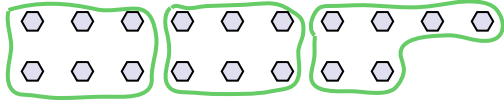
10. 3

11. 11

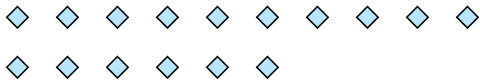


Используйте фигуры, чтобы получить ответ на вопрос.


об) Сколько групп по 6 вы можете выделить из 18 данных фигур?



2) Сколько групп по 4 вы можете выделить из 16 данных фигур?



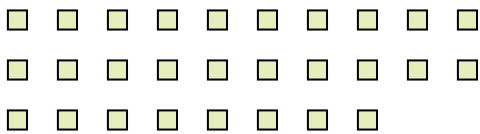
4) Сколько групп по 4 вы можете выделить из 28 данных фигур?



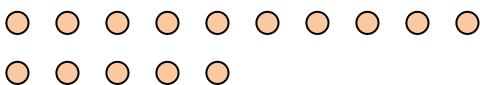
6) Сколько групп по 9 вы можете выделить из 27 данных фигур?



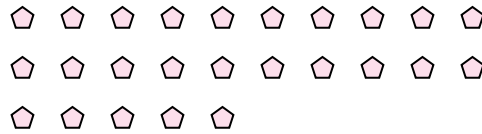
8) Сколько групп по 2 вы можете выделить из 28 данных фигур?



10) Сколько групп по 5 вы можете выделить из 15 данных фигур?




1) Сколько групп по 5 вы можете выделить из 25 данных фигур?



3) Сколько групп по 2 вы можете выделить из 14 данных фигур?



5) Сколько групп по 9 вы можете выделить из 36 данных фигур?




7) Сколько групп по 6 вы можете выделить из 30 данных фигур?



9) Сколько групп по 9 вы можете выделить из 27 данных фигур?



11) Сколько групп по 4 вы можете выделить из 36 данных фигур?



Ответы

об. 3

1. 5

2. 4

3. 7

4. 7

5. 4

6. 3

7. 5

8. 14

9. 3


10. 3

11. 9




Используйте фигуры, чтобы получить ответ на вопрос.

об) Сколько групп по 6 вы можете выделить из 18 данных фигур?



2) Сколько групп по 6 вы можете выделить из 30 данных фигур?



4) Сколько групп по 9 вы можете выделить из 27 данных фигур?



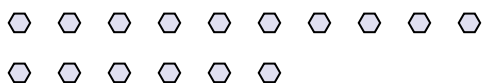
6) Сколько групп по 3 вы можете выделить из 30 данных фигур?



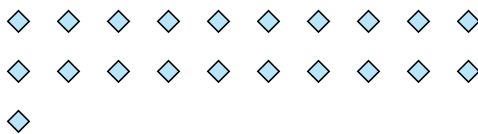
8) Сколько групп по 7 вы можете выделить из 14 данных фигур?



10) Сколько групп по 2 вы можете выделить из 16 данных фигур?




1) Сколько групп по 7 вы можете выделить из 21 данных фигур?



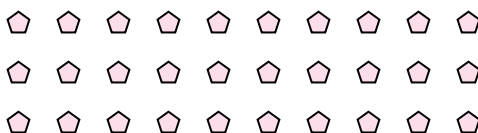
3) Сколько групп по 4 вы можете выделить из 28 данных фигур?



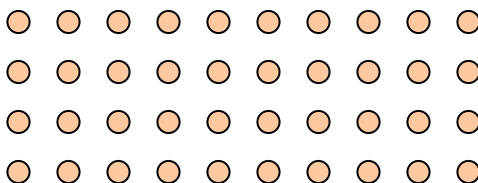
5) Сколько групп по 6 вы можете выделить из 24 данных фигур?




7) Сколько групп по 5 вы можете выделить из 30 данных фигур?



9) Сколько групп по 5 вы можете выделить из 40 данных фигур?



11) Сколько групп по 5 вы можете выделить из 30 данных фигур?



Ответы

об. 3

1. _____

2. _____

3. _____

4. _____

5. _____

6. _____

7. _____

8. _____

9. _____


10. _____

11. _____




Используйте фигуры, чтобы получить ответ на вопрос.

об) Сколько групп по 6 вы можете выделить из 18 данных фигур?




2) Сколько групп по 6 вы можете выделить из 30 данных фигур?



4) Сколько групп по 9 вы можете выделить из 27 данных фигур?



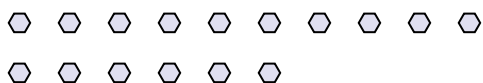
6) Сколько групп по 3 вы можете выделить из 30 данных фигур?



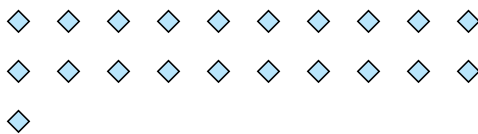
8) Сколько групп по 7 вы можете выделить из 14 данных фигур?



10) Сколько групп по 2 вы можете выделить из 16 данных фигур?




1) Сколько групп по 7 вы можете выделить из 21 данных фигур?



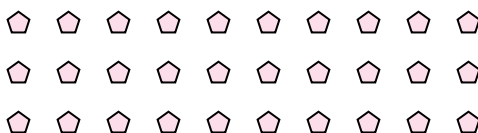
3) Сколько групп по 4 вы можете выделить из 28 данных фигур?



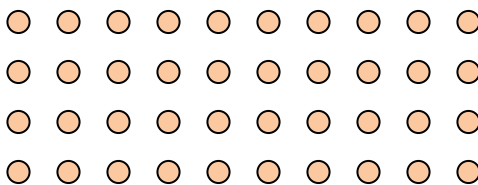
5) Сколько групп по 6 вы можете выделить из 24 данных фигур?




7) Сколько групп по 5 вы можете выделить из 30 данных фигур?



9) Сколько групп по 5 вы можете выделить из 40 данных фигур?



11) Сколько групп по 5 вы можете выделить из 30 данных фигур?



Ответы

об. 3

1. 3

2. 5

3. 7

4. 3

5. 4

6. 10

7. 6

8. 2

9. 8

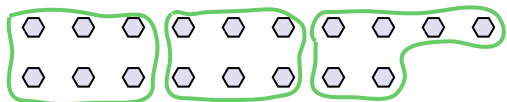
10. 8

11. 6




Используйте фигуры, чтобы получить ответ на вопрос.


об) Сколько групп по 6 вы можете выделить из 18 данных фигур?




2) Сколько групп по 7 вы можете выделить из 35 данных фигур?




4) Сколько групп по 8 вы можете выделить из 24 данных фигур?



6) Сколько групп по 6 вы можете выделить из 36 данных фигур?



8) Сколько групп по 9 вы можете выделить из 27 данных фигур?



10) Сколько групп по 6 вы можете выделить из 18 данных фигур?



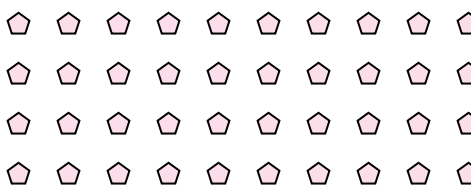
1) Сколько групп по 6 вы можете выделить из 12 данных фигур?



3) Сколько групп по 4 вы можете выделить из 8 данных фигур?




5) Сколько групп по 4 вы можете выделить из 40 данных фигур?



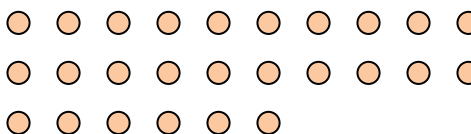
7) Сколько групп по 5 вы можете выделить из 10 данных фигур?



9) Сколько групп по 8 вы можете выделить из 32 данных фигур?



11) Сколько групп по 2 вы можете выделить из 26 данных фигур?



Ответы

об. 3

1. 2

2. 5

3. 2

4. 3

5. 10

6. 6

7. 2

8. 3

9. 4

10. 3

11. 13