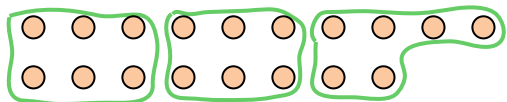







Используйте фигуры, чтобы получить ответ на вопрос.

об) Сколько групп по 6 вы можете выделить из 18 данных фигур?




2) Сколько групп по 4 вы можете выделить из 28 данных фигур?



4) Сколько групп по 6 вы можете выделить из 12 данных фигур?




6) Сколько групп по 9 вы можете выделить из 36 данных фигур?



8) Сколько групп по 5 вы можете выделить из 10 данных фигур?



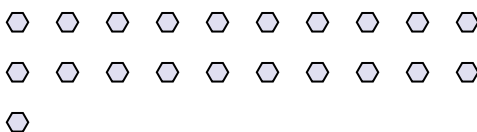
10) Сколько групп по 6 вы можете выделить из 30 данных фигур?




1) Сколько групп по 3 вы можете выделить из 15 данных фигур?



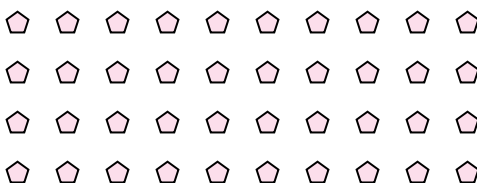
3) Сколько групп по 7 вы можете выделить из 21 данных фигур?




5) Сколько групп по 8 вы можете выделить из 16 данных фигур?



7) Сколько групп по 8 вы можете выделить из 40 данных фигур?



9) Сколько групп по 9 вы можете выделить из 36 данных фигур?



11) Сколько групп по 4 вы можете выделить из 8 данных фигур?



**Ответы**

об. 3

1. 5

2. 7

3. 3

4. 2

5. 2

6. 4

7. 5

8. 2

9. 4

10. 5

11. 2