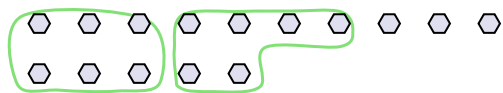


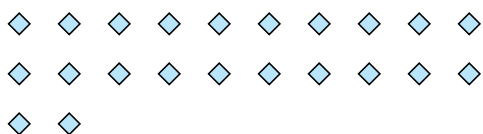


Используйте примеры, чтобы ответить на вопрос.

об) Ниже находится 15 фигур(ы).Сколько групп по 6 можно из них выделить?Сколько фигур останется?




2) Ниже находится 22 фигур(ы).Сколько групп по 7 можно из них выделить?Сколько фигур останется?




4) Ниже находится 18 фигур(ы).Сколько групп по 8 можно из них выделить?Сколько фигур останется?



6) Ниже находится 13 фигур(ы).Сколько групп по 6 можно из них выделить?Сколько фигур останется?



8) Ниже находится 29 фигур(ы).Сколько групп по 9 можно из них выделить?Сколько фигур останется?



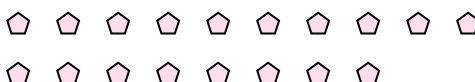
1) Ниже находится 14 фигур(ы).Сколько групп по 6 можно из них выделить?Сколько фигур останется?



3) Ниже находится 16 фигур(ы).Сколько групп по 4 можно из них выделить?Сколько фигур останется?



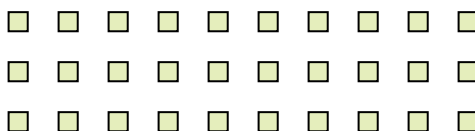
5) Ниже находится 18 фигур(ы).Сколько групп по 4 можно из них выделить?Сколько фигур останется?



7) Ниже находится 17 фигур(ы).Сколько групп по 5 можно из них выделить?Сколько фигур останется?



9) Ниже находится 30 фигур(ы).Сколько групп по 8 можно из них выделить?Сколько фигур останется?



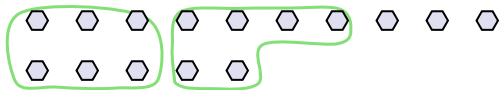
Ответы

об.	<u> 2 </u>	<u> 3 </u>
1.	_____	_____
2.	_____	_____
3.	_____	_____
4.	_____	_____
5.	_____	_____
6.	_____	_____
7.	_____	_____
8.	_____	_____
9.	_____	_____

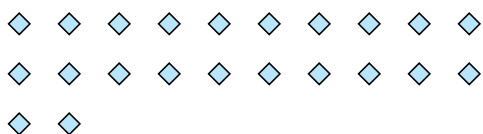


Используйте примеры, чтобы ответить на вопрос.

об) Ниже находится 15 фигур(ы).Сколько групп по 6 можно из них выделить?Сколько фигур останется?




2) Ниже находится 22 фигур(ы).Сколько групп по 7 можно из них выделить?Сколько фигур останется?




4) Ниже находится 18 фигур(ы).Сколько групп по 8 можно из них выделить?Сколько фигур останется?



6) Ниже находится 13 фигур(ы).Сколько групп по 6 можно из них выделить?Сколько фигур останется?



8) Ниже находится 29 фигур(ы).Сколько групп по 9 можно из них выделить?Сколько фигур останется?



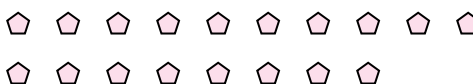
1) Ниже находится 14 фигур(ы).Сколько групп по 6 можно из них выделить?Сколько фигур останется?



3) Ниже находится 16 фигур(ы).Сколько групп по 4 можно из них выделить?Сколько фигур останется?



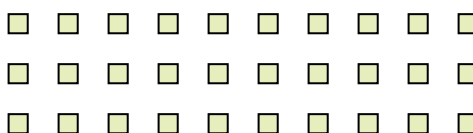
5) Ниже находится 18 фигур(ы).Сколько групп по 4 можно из них выделить?Сколько фигур останется?



7) Ниже находится 17 фигур(ы).Сколько групп по 5 можно из них выделить?Сколько фигур останется?



9) Ниже находится 30 фигур(ы).Сколько групп по 8 можно из них выделить?Сколько фигур останется?



ОТВЕТЫ

об.	<u>2</u>	<u>3</u>
1.	<u>2</u>	<u>2</u>
2.	<u>3</u>	<u>1</u>
3.	<u>4</u>	<u>0</u>
4.	<u>2</u>	<u>2</u>
5.	<u>4</u>	<u>2</u>
6.	<u>2</u>	<u>1</u>
7.	<u>3</u>	<u>2</u>
8.	<u>3</u>	<u>2</u>
9.	<u>3</u>	<u>6</u>