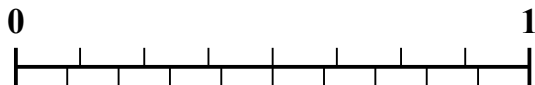


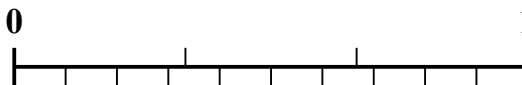


Используйте числовую линию для решения каждой проблемы.


1) Какая сумма больше: $\frac{4}{8}$ или 0,35?



2) Какая сумма больше: $\frac{1}{3}$ или 0,18?



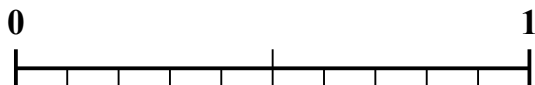
3) Какая сумма больше: $\frac{2}{5}$ или 0,56?



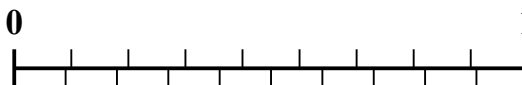
4) Какая сумма больше: $\frac{7}{10}$ или 0,53?



5) Какая сумма больше: $\frac{1}{2}$ или 0,64?



6) Какая сумма больше: $\frac{6}{9}$ или 0,57?



7) Какая сумма больше: $\frac{3}{7}$ или 0,24?



8) Какая сумма больше: $\frac{3}{8}$ или 0,24?



9) Какая сумма больше: $\frac{2}{3}$ или 0,85?



10) Какая сумма больше: $\frac{2}{9}$ или 0,11?

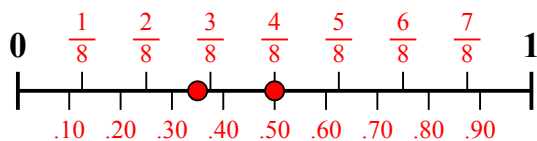
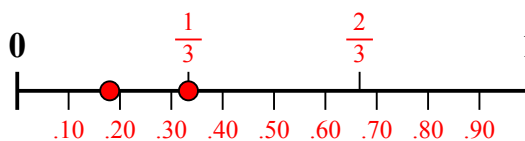
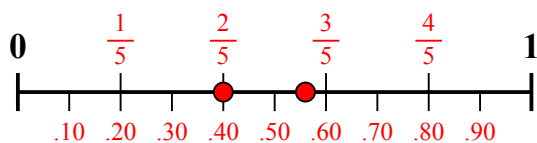
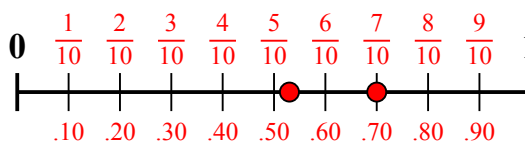
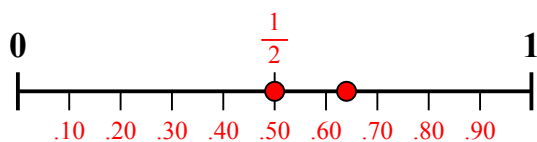
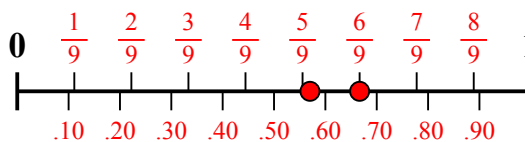
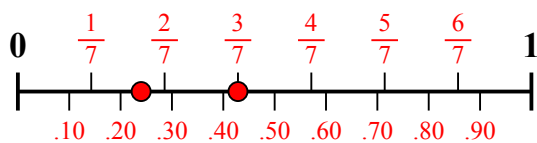
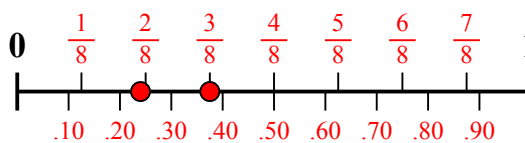
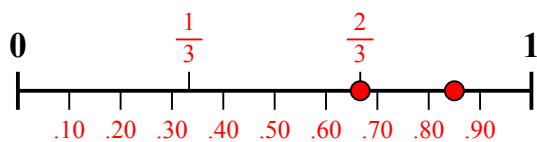
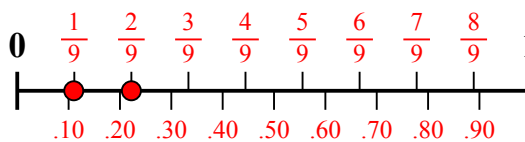


Ответы

1. _____
2. _____
3. _____
4. _____
5. _____
6. _____
7. _____
8. _____
9. _____
10. _____



Используйте числовую линию для решения каждой проблемы.

1) Какая сумма больше: $\frac{4}{8}$ или 0,35?2) Какая сумма больше: $\frac{1}{3}$ или 0,18?3) Какая сумма больше: $\frac{2}{5}$ или 0,56?4) Какая сумма больше: $\frac{7}{10}$ или 0,53?5) Какая сумма больше: $\frac{1}{2}$ или 0,64?6) Какая сумма больше: $\frac{6}{9}$ или 0,57?7) Какая сумма больше: $\frac{3}{7}$ или 0,24?8) Какая сумма больше: $\frac{3}{8}$ или 0,24?9) Какая сумма больше: $\frac{2}{3}$ или 0,85?10) Какая сумма больше: $\frac{2}{9}$ или 0,11?**Отв**1. $\frac{4}{8}$ 2. $\frac{1}{3}$

3. 0,56

4. $\frac{7}{10}$

5. 0,64

6. $\frac{6}{9}$ 7. $\frac{3}{7}$ 8. $\frac{3}{8}$

9. 0,85

10. $\frac{2}{9}$