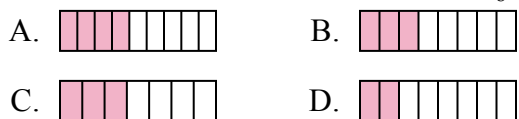




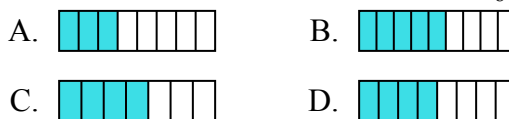
Определите под какой буквой находится правильный ответ.

ОТВЕТЫ

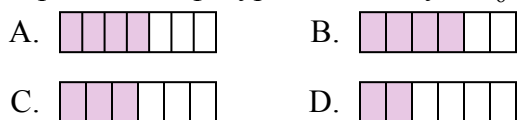
1) Какая из представленных ниже закрашенных фигур соответствует $\frac{3}{8}$?



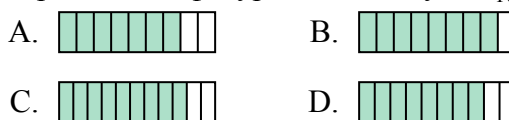
2) Какая из представленных ниже закрашенных фигур соответствует $\frac{4}{8}$?



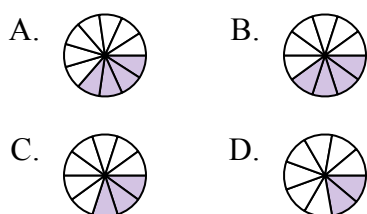
3) Какая из представленных ниже закрашенных фигур соответствует $\frac{3}{6}$?



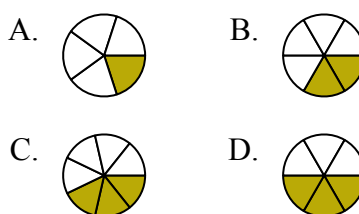
4) Какая из представленных ниже закрашенных фигур соответствует $\frac{8}{10}$?



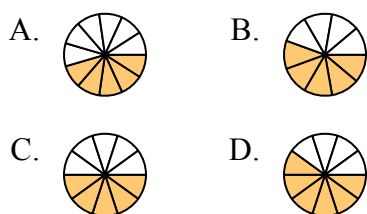
5) Какая из представленных ниже закрашенных фигур соответствует $\frac{3}{10}$?



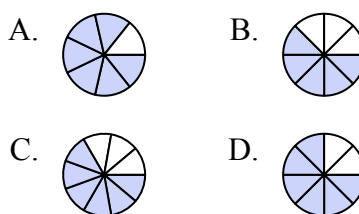
6) Какая из представленных ниже закрашенных фигур соответствует $\frac{2}{6}$?



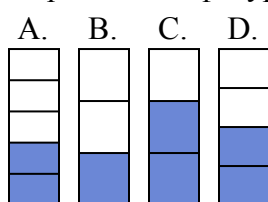
7) Какая из представленных ниже закрашенных фигур соответствует $\frac{5}{10}$?



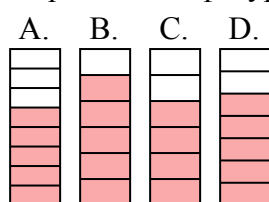
8) Какая из представленных ниже закрашенных фигур соответствует $\frac{6}{8}$?



9) Какая из представленных ниже закрашенных фигур соответствует $\frac{2}{4}$?



10) Какая из представленных ниже закрашенных фигур соответствует $\frac{5}{7}$?



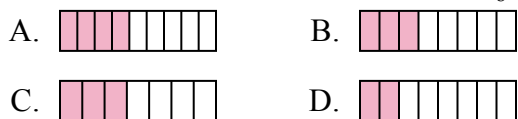
1. _____
2. _____
3. _____
4. _____
5. _____
6. _____
7. _____
8. _____
9. _____
10. _____



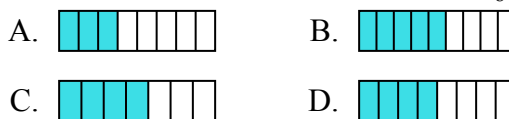
Определите под какой буквой находится правильный ответ.

ОТВЕТЫ

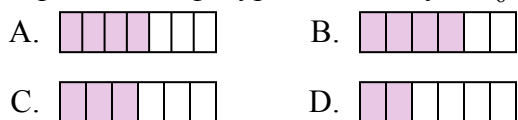
1) Какая из представленных ниже закрашенных фигур соответствует $\frac{3}{8}$?



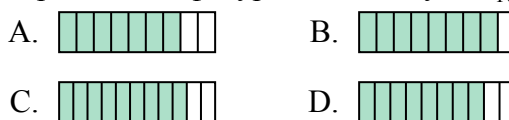
2) Какая из представленных ниже закрашенных фигур соответствует $\frac{4}{8}$?



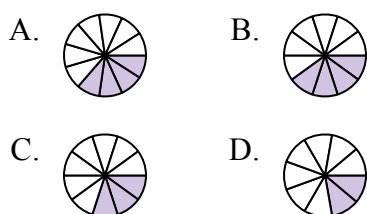
3) Какая из представленных ниже закрашенных фигур соответствует $\frac{3}{6}$?



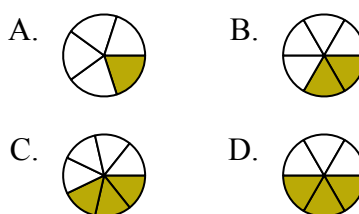
4) Какая из представленных ниже закрашенных фигур соответствует $\frac{8}{10}$?



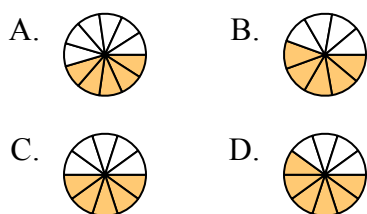
5) Какая из представленных ниже закрашенных фигур соответствует $\frac{3}{10}$?



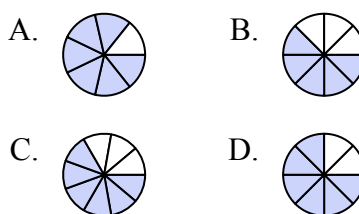
6) Какая из представленных ниже закрашенных фигур соответствует $\frac{2}{6}$?



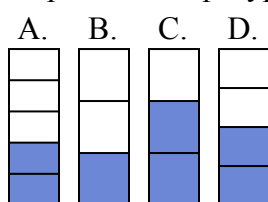
7) Какая из представленных ниже закрашенных фигур соответствует $\frac{5}{10}$?



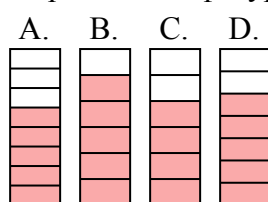
8) Какая из представленных ниже закрашенных фигур соответствует $\frac{6}{8}$?



9) Какая из представленных ниже закрашенных фигур соответствует $\frac{2}{4}$?



10) Какая из представленных ниже закрашенных фигур соответствует $\frac{5}{7}$?



- 1. **B**
- 2. **D**
- 3. **C**
- 4. **D**
- 5. **C**
- 6. **B**
- 7. **C**
- 8. **D**
- 9. **D**
- 10. **D**