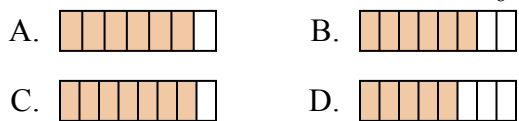




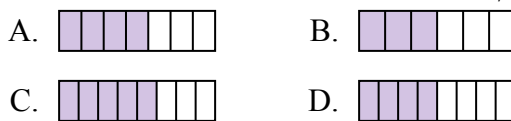
Определите под какой буквой находится правильный ответ.

**ОТВЕТЫ**

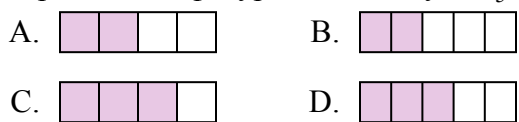
1) Какая из представленных ниже закрашенных фигур соответствует  $\frac{6}{8}$ ?



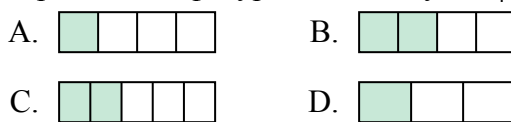
2) Какая из представленных ниже закрашенных фигур соответствует  $\frac{4}{7}$ ?



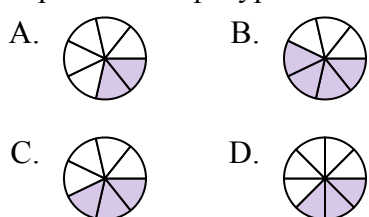
3) Какая из представленных ниже закрашенных фигур соответствует  $\frac{3}{5}$ ?



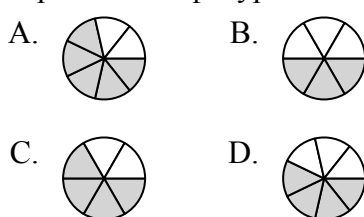
4) Какая из представленных ниже закрашенных фигур соответствует  $\frac{2}{4}$ ?



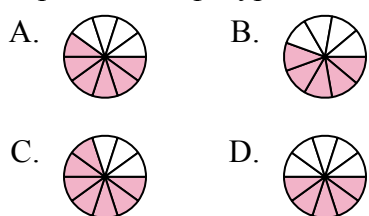
5) Какая из представленных ниже закрашенных фигур соответствует  $\frac{3}{7}$ ?



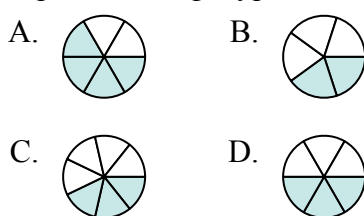
6) Какая из представленных ниже закрашенных фигур соответствует  $\frac{4}{6}$ ?



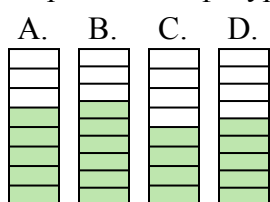
7) Какая из представленных ниже закрашенных фигур соответствует  $\frac{6}{10}$ ?



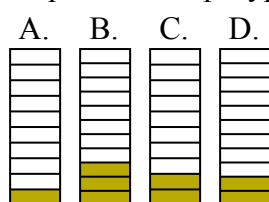
8) Какая из представленных ниже закрашенных фигур соответствует  $\frac{3}{6}$ ?



9) Какая из представленных ниже закрашенных фигур соответствует  $\frac{5}{8}$ ?



10) Какая из представленных ниже закрашенных фигур соответствует  $\frac{2}{10}$ ?



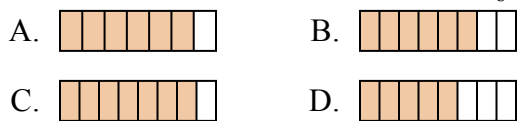
1. \_\_\_\_\_
2. \_\_\_\_\_
3. \_\_\_\_\_
4. \_\_\_\_\_
5. \_\_\_\_\_
6. \_\_\_\_\_
7. \_\_\_\_\_
8. \_\_\_\_\_
9. \_\_\_\_\_
10. \_\_\_\_\_



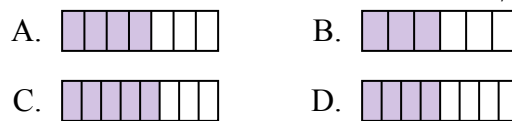
Определите под какой буквой находится правильный ответ.

**ОТВЕТЫ**

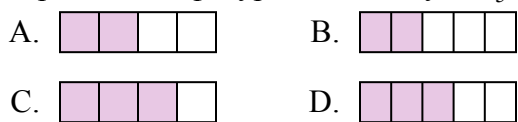
1) Какая из представленных ниже закрашенных фигур соответствует  $\frac{6}{8}$ ?



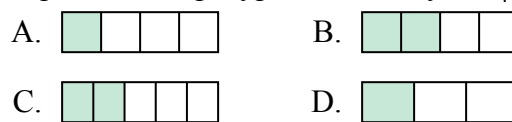
2) Какая из представленных ниже закрашенных фигур соответствует  $\frac{4}{7}$ ?



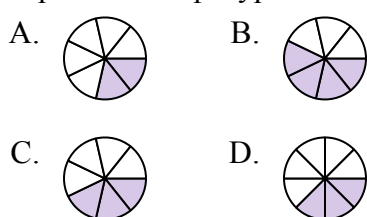
3) Какая из представленных ниже закрашенных фигур соответствует  $\frac{3}{5}$ ?



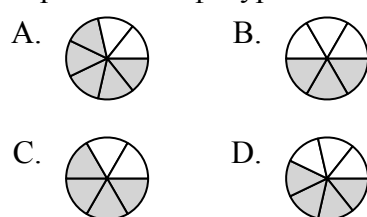
4) Какая из представленных ниже закрашенных фигур соответствует  $\frac{2}{4}$ ?



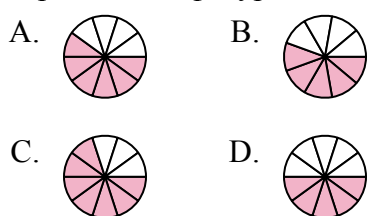
5) Какая из представленных ниже закрашенных фигур соответствует  $\frac{3}{7}$ ?



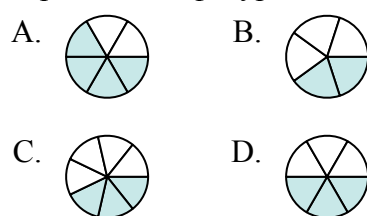
6) Какая из представленных ниже закрашенных фигур соответствует  $\frac{4}{6}$ ?



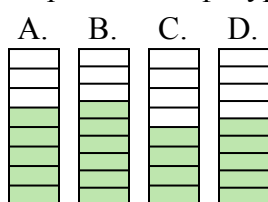
7) Какая из представленных ниже закрашенных фигур соответствует  $\frac{6}{10}$ ?



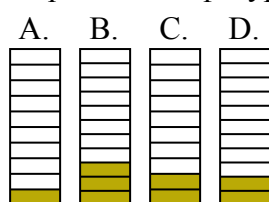
8) Какая из представленных ниже закрашенных фигур соответствует  $\frac{3}{6}$ ?



9) Какая из представленных ниже закрашенных фигур соответствует  $\frac{5}{8}$ ?



10) Какая из представленных ниже закрашенных фигур соответствует  $\frac{2}{10}$ ?



1.     **B**      
 2.     **A**      
 3.     **D**      
 4.     **B**      
 5.     **C**      
 6.     **C**      
 7.     **A**      
 8.     **D**      
 9.     **A**      
 10.     **C**