



Определите под какой буквой находится правильный ответ.

ОТВЕТЫ

1) Какая из представленных ниже закрашенных фигур соответствует $\frac{4}{6}$?



2) Какая из представленных ниже закрашенных фигур соответствует $\frac{7}{10}$?



3) Какая из представленных ниже закрашенных фигур соответствует $\frac{2}{8}$?



4) Какая из представленных ниже закрашенных фигур соответствует $\frac{2}{4}$?



5) Какая из представленных ниже закрашенных фигур соответствует $\frac{4}{10}$?



6) Какая из представленных ниже закрашенных фигур соответствует $\frac{3}{5}$?



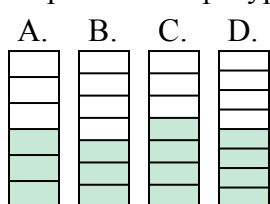
7) Какая из представленных ниже закрашенных фигур соответствует $\frac{6}{8}$?



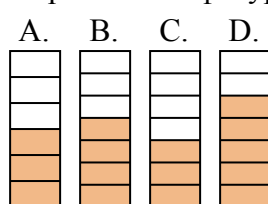
8) Какая из представленных ниже закрашенных фигур соответствует $\frac{5}{8}$?



9) Какая из представленных ниже закрашенных фигур соответствует $\frac{3}{7}$?



10) Какая из представленных ниже закрашенных фигур соответствует $\frac{4}{7}$?



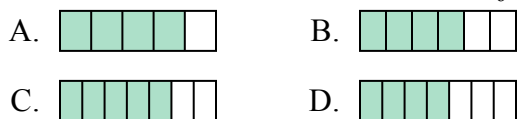
1. _____
2. _____
3. _____
4. _____
5. _____
6. _____
7. _____
8. _____
9. _____
10. _____



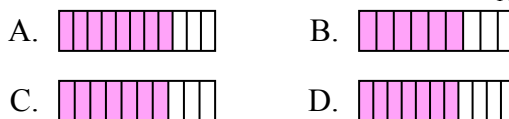
Определите под какой буквой находится правильный ответ.

ОТВЕТЫ

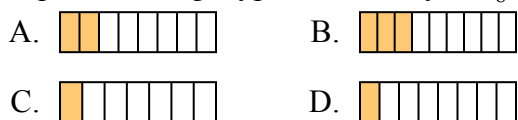
1) Какая из представленных ниже закрашенных фигур соответствует $\frac{4}{6}$?



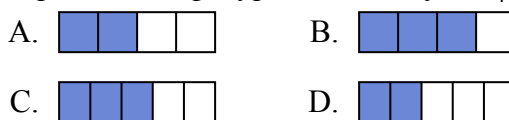
2) Какая из представленных ниже закрашенных фигур соответствует $\frac{7}{10}$?



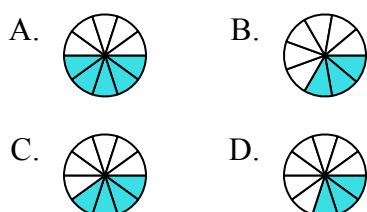
3) Какая из представленных ниже закрашенных фигур соответствует $\frac{2}{8}$?



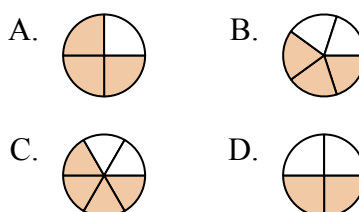
4) Какая из представленных ниже закрашенных фигур соответствует $\frac{2}{4}$?



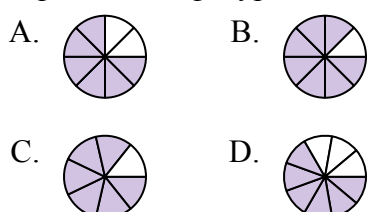
5) Какая из представленных ниже закрашенных фигур соответствует $\frac{4}{10}$?



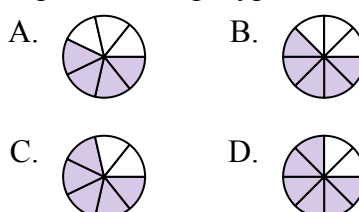
6) Какая из представленных ниже закрашенных фигур соответствует $\frac{3}{5}$?



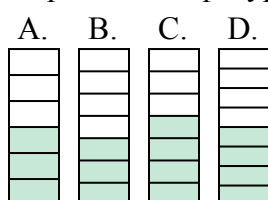
7) Какая из представленных ниже закрашенных фигур соответствует $\frac{6}{8}$?



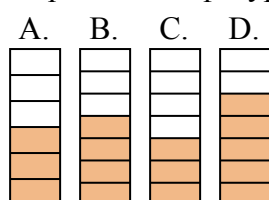
8) Какая из представленных ниже закрашенных фигур соответствует $\frac{5}{8}$?



9) Какая из представленных ниже закрашенных фигур соответствует $\frac{3}{7}$?



10) Какая из представленных ниже закрашенных фигур соответствует $\frac{4}{7}$?



1. В

2. С

3. А

4. А

5. С

6. В

7. А

8. В

9. В

10. В