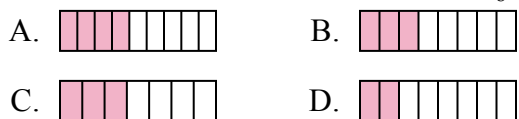




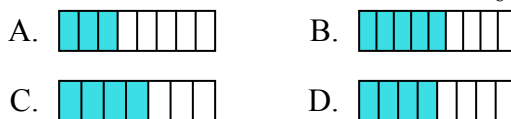
Определите под какой буквой находится правильный ответ.

ОТВЕТЫ

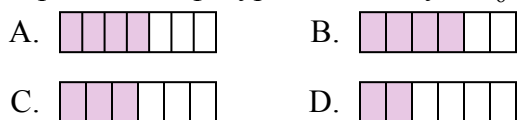
1) Какая из представленных ниже закрашенных фигур соответствует $\frac{3}{8}$?



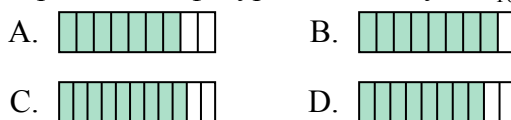
2) Какая из представленных ниже закрашенных фигур соответствует $\frac{4}{8}$?



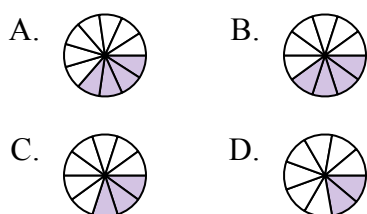
3) Какая из представленных ниже закрашенных фигур соответствует $\frac{3}{6}$?



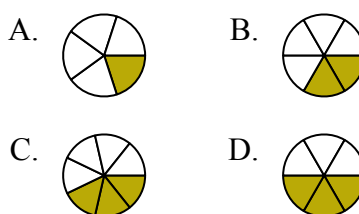
4) Какая из представленных ниже закрашенных фигур соответствует $\frac{8}{10}$?



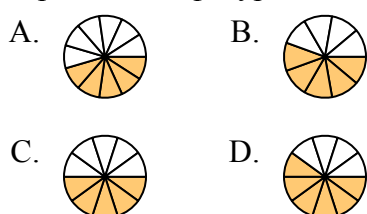
5) Какая из представленных ниже закрашенных фигур соответствует $\frac{3}{10}$?



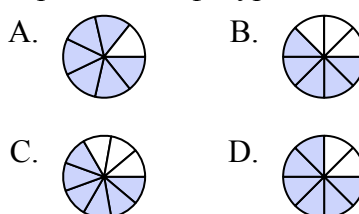
6) Какая из представленных ниже закрашенных фигур соответствует $\frac{2}{6}$?



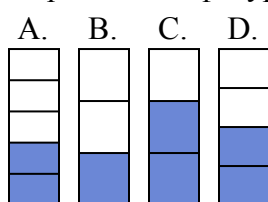
7) Какая из представленных ниже закрашенных фигур соответствует $\frac{5}{10}$?



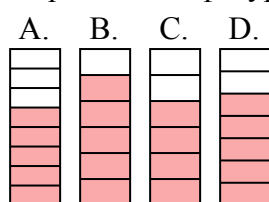
8) Какая из представленных ниже закрашенных фигур соответствует $\frac{6}{8}$?



9) Какая из представленных ниже закрашенных фигур соответствует $\frac{2}{4}$?



10) Какая из представленных ниже закрашенных фигур соответствует $\frac{5}{7}$?



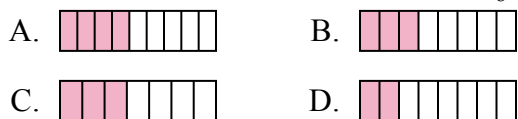
1. _____
2. _____
3. _____
4. _____
5. _____
6. _____
7. _____
8. _____
9. _____
10. _____



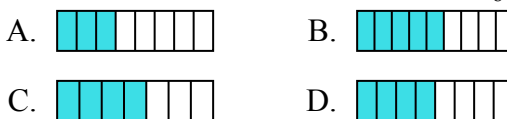
Определите под какой буквой находится правильный ответ.

ОТВЕТЫ

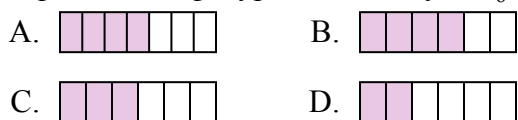
1) Какая из представленных ниже закрашенных фигур соответствует $\frac{3}{8}$?



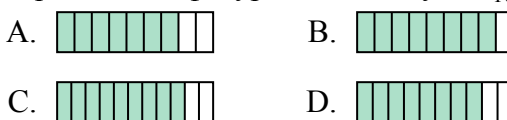
2) Какая из представленных ниже закрашенных фигур соответствует $\frac{4}{8}$?



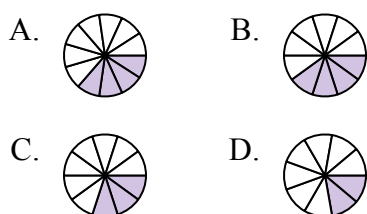
3) Какая из представленных ниже закрашенных фигур соответствует $\frac{3}{6}$?



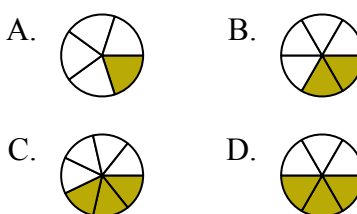
4) Какая из представленных ниже закрашенных фигур соответствует $\frac{8}{10}$?



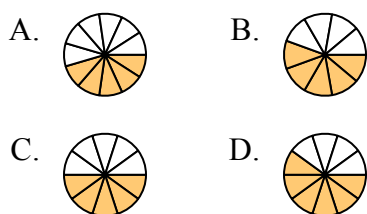
5) Какая из представленных ниже закрашенных фигур соответствует $\frac{3}{10}$?



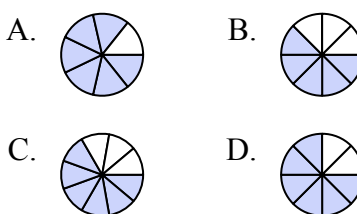
6) Какая из представленных ниже закрашенных фигур соответствует $\frac{2}{6}$?



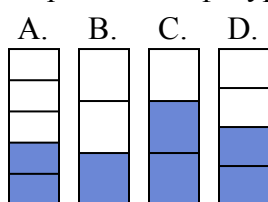
7) Какая из представленных ниже закрашенных фигур соответствует $\frac{5}{10}$?



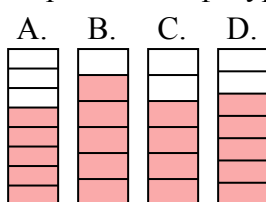
8) Какая из представленных ниже закрашенных фигур соответствует $\frac{6}{8}$?



9) Какая из представленных ниже закрашенных фигур соответствует $\frac{2}{4}$?



10) Какая из представленных ниже закрашенных фигур соответствует $\frac{5}{7}$?



1. **B**
2. **D**
3. **C**
4. **D**
5. **C**
6. **B**
7. **C**
8. **D**
9. **D**
10. **D**



Определите под какой буквой находится правильный ответ.

ОТВЕТЫ

1) Какая из представленных ниже закрашенных фигур соответствует $\frac{2}{8}$?



2) Какая из представленных ниже закрашенных фигур соответствует $\frac{6}{10}$?



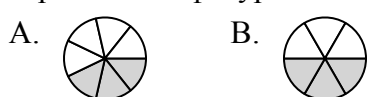
3) Какая из представленных ниже закрашенных фигур соответствует $\frac{4}{7}$?



4) Какая из представленных ниже закрашенных фигур соответствует $\frac{3}{5}$?



5) Какая из представленных ниже закрашенных фигур соответствует $\frac{3}{7}$?



6) Какая из представленных ниже закрашенных фигур соответствует $\frac{3}{10}$?



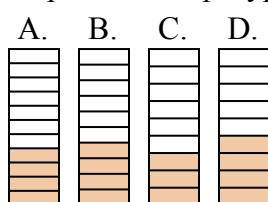
7) Какая из представленных ниже закрашенных фигур соответствует $\frac{2}{10}$?



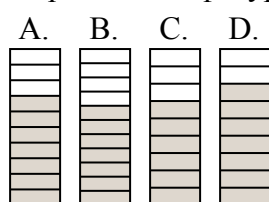
8) Какая из представленных ниже закрашенных фигур соответствует $\frac{4}{6}$?



9) Какая из представленных ниже закрашенных фигур соответствует $\frac{4}{10}$?



10) Какая из представленных ниже закрашенных фигур соответствует $\frac{7}{10}$?



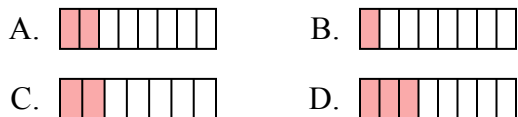
1. _____
2. _____
3. _____
4. _____
5. _____
6. _____
7. _____
8. _____
9. _____
10. _____



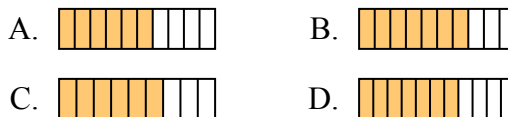
Определите под какой буквой находится правильный ответ.

ОТВЕТЫ

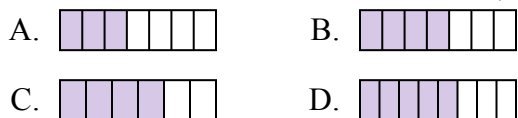
1) Какая из представленных ниже закрашенных фигур соответствует $\frac{2}{8}$?



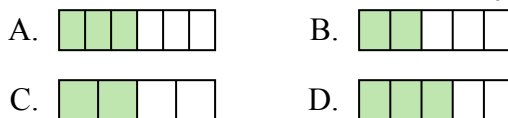
2) Какая из представленных ниже закрашенных фигур соответствует $\frac{6}{10}$?



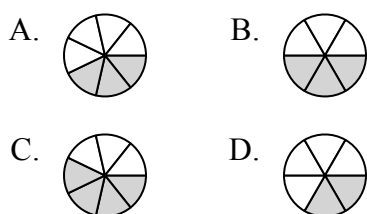
3) Какая из представленных ниже закрашенных фигур соответствует $\frac{4}{7}$?



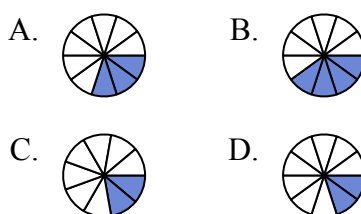
4) Какая из представленных ниже закрашенных фигур соответствует $\frac{3}{5}$?



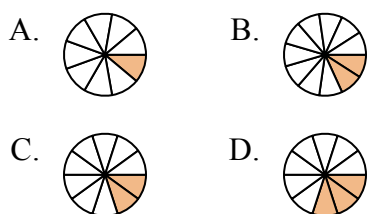
5) Какая из представленных ниже закрашенных фигур соответствует $\frac{3}{7}$?



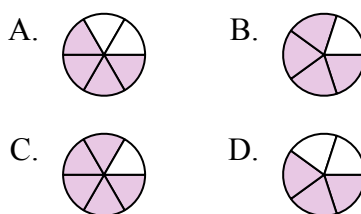
6) Какая из представленных ниже закрашенных фигур соответствует $\frac{3}{10}$?



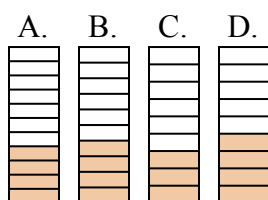
7) Какая из представленных ниже закрашенных фигур соответствует $\frac{2}{10}$?



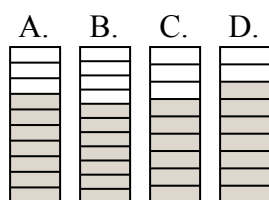
8) Какая из представленных ниже закрашенных фигур соответствует $\frac{4}{6}$?



9) Какая из представленных ниже закрашенных фигур соответствует $\frac{4}{10}$?



10) Какая из представленных ниже закрашенных фигур соответствует $\frac{7}{10}$?



1. **A**

2. **A**

3. **B**

4. **D**

5. **A**

6. **A**

7. **C**

8. **A**

9. **B**

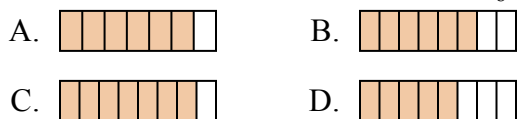
10. **A**



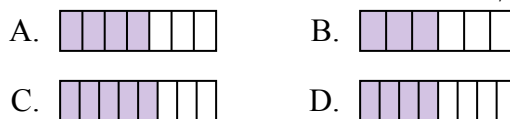
Определите под какой буквой находится правильный ответ.

ОТВЕТЫ

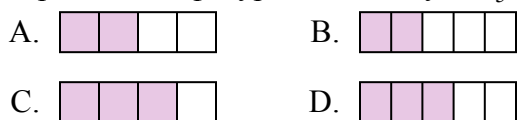
1) Какая из представленных ниже закрашенных фигур соответствует $\frac{6}{8}$?



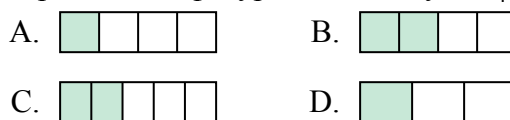
2) Какая из представленных ниже закрашенных фигур соответствует $\frac{4}{7}$?



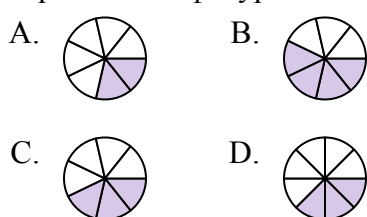
3) Какая из представленных ниже закрашенных фигур соответствует $\frac{3}{5}$?



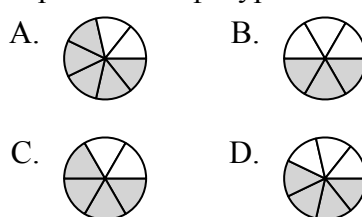
4) Какая из представленных ниже закрашенных фигур соответствует $\frac{2}{4}$?



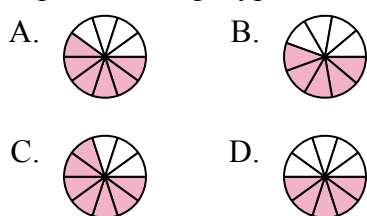
5) Какая из представленных ниже закрашенных фигур соответствует $\frac{3}{7}$?



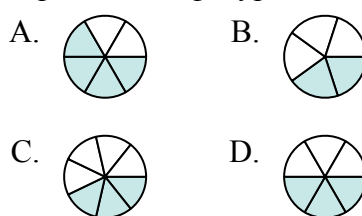
6) Какая из представленных ниже закрашенных фигур соответствует $\frac{4}{6}$?



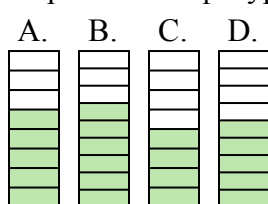
7) Какая из представленных ниже закрашенных фигур соответствует $\frac{6}{10}$?



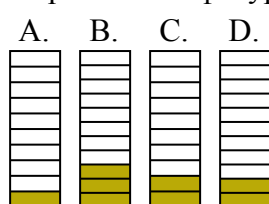
8) Какая из представленных ниже закрашенных фигур соответствует $\frac{3}{6}$?



9) Какая из представленных ниже закрашенных фигур соответствует $\frac{5}{8}$?



10) Какая из представленных ниже закрашенных фигур соответствует $\frac{2}{10}$?



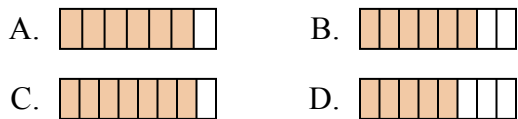
1. _____
2. _____
3. _____
4. _____
5. _____
6. _____
7. _____
8. _____
9. _____
10. _____



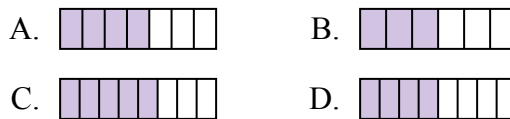
Определите под какой буквой находится правильный ответ.

ОТВЕТЫ

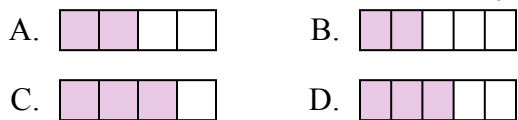
1) Какая из представленных ниже закрашенных фигур соответствует $\frac{6}{8}$?



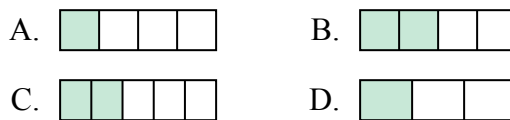
2) Какая из представленных ниже закрашенных фигур соответствует $\frac{4}{7}$?



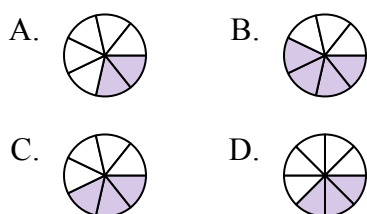
3) Какая из представленных ниже закрашенных фигур соответствует $\frac{3}{5}$?



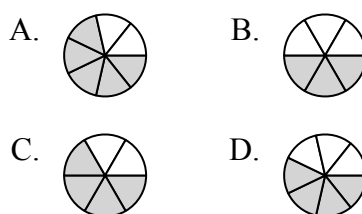
4) Какая из представленных ниже закрашенных фигур соответствует $\frac{2}{4}$?



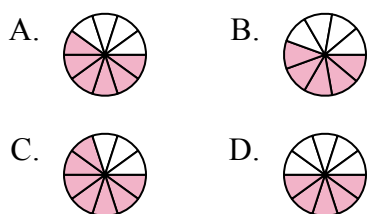
5) Какая из представленных ниже закрашенных фигур соответствует $\frac{3}{7}$?



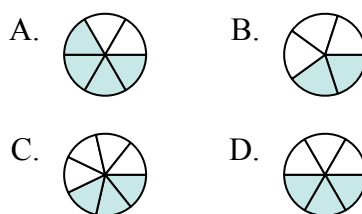
6) Какая из представленных ниже закрашенных фигур соответствует $\frac{4}{6}$?



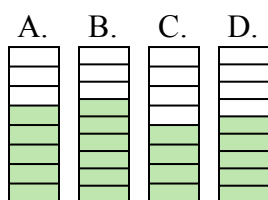
7) Какая из представленных ниже закрашенных фигур соответствует $\frac{6}{10}$?



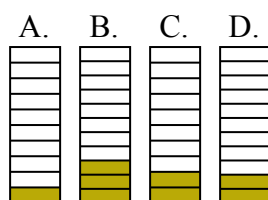
8) Какая из представленных ниже закрашенных фигур соответствует $\frac{3}{6}$?



9) Какая из представленных ниже закрашенных фигур соответствует $\frac{5}{8}$?



10) Какая из представленных ниже закрашенных фигур соответствует $\frac{2}{10}$?



1. В

2. А

3. Д

4. В

5. С

6. С

7. А

8. Д

9. А

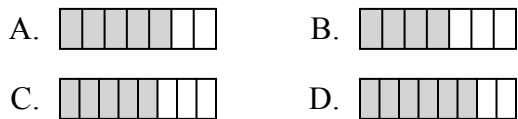
10. С



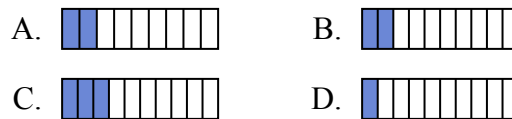
Определите под какой буквой находится правильный ответ.

ОТВЕТЫ

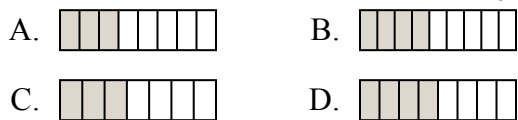
1) Какая из представленных ниже закрашенных фигур соответствует $\frac{5}{8}$?



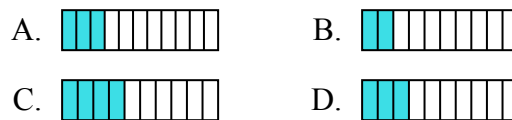
2) Какая из представленных ниже закрашенных фигур соответствует $\frac{2}{10}$?



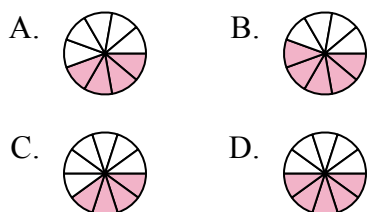
3) Какая из представленных ниже закрашенных фигур соответствует $\frac{4}{8}$?



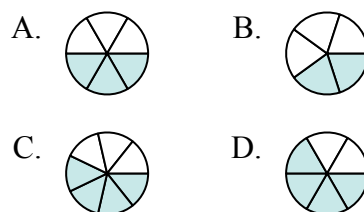
4) Какая из представленных ниже закрашенных фигур соответствует $\frac{3}{10}$?



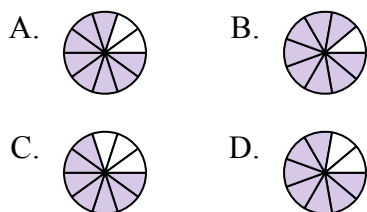
5) Какая из представленных ниже закрашенных фигур соответствует $\frac{5}{10}$?



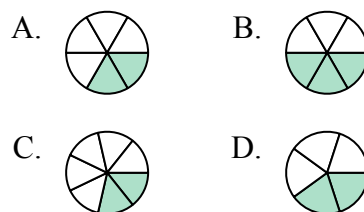
6) Какая из представленных ниже закрашенных фигур соответствует $\frac{3}{6}$?



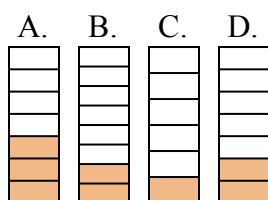
7) Какая из представленных ниже закрашенных фигур соответствует $\frac{8}{10}$?



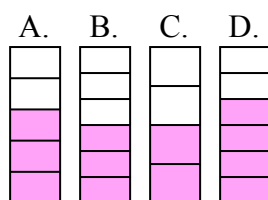
8) Какая из представленных ниже закрашенных фигур соответствует $\frac{2}{6}$?



9) Какая из представленных ниже закрашенных фигур соответствует $\frac{2}{7}$?



10) Какая из представленных ниже закрашенных фигур соответствует $\frac{3}{5}$?



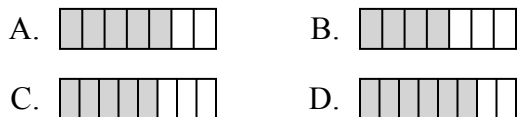
1. _____
2. _____
3. _____
4. _____
5. _____
6. _____
7. _____
8. _____
9. _____
10. _____



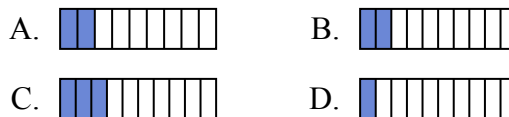
Определите под какой буквой находится правильный ответ.

ОТВЕТЫ

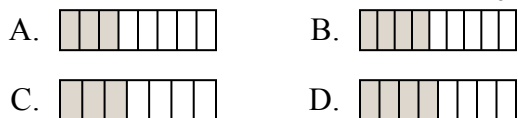
1) Какая из представленных ниже закрашенных фигур соответствует $\frac{5}{8}$?



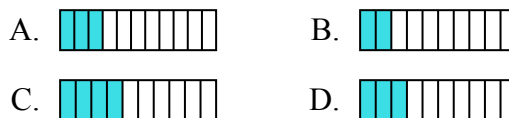
2) Какая из представленных ниже закрашенных фигур соответствует $\frac{2}{10}$?



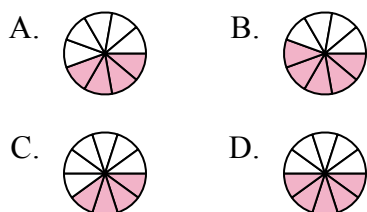
3) Какая из представленных ниже закрашенных фигур соответствует $\frac{4}{8}$?



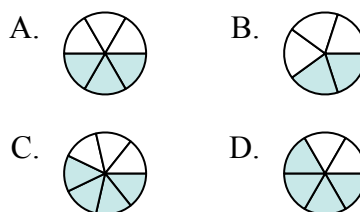
4) Какая из представленных ниже закрашенных фигур соответствует $\frac{3}{10}$?



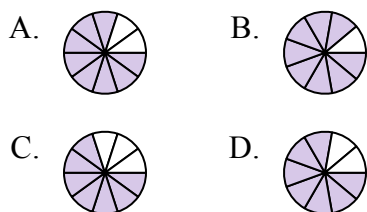
5) Какая из представленных ниже закрашенных фигур соответствует $\frac{5}{10}$?



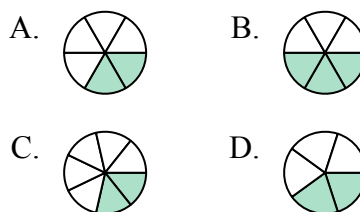
6) Какая из представленных ниже закрашенных фигур соответствует $\frac{3}{6}$?



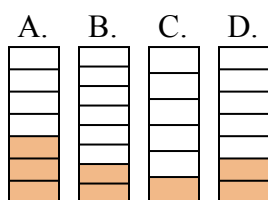
7) Какая из представленных ниже закрашенных фигур соответствует $\frac{8}{10}$?



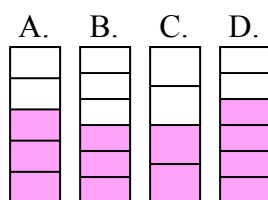
8) Какая из представленных ниже закрашенных фигур соответствует $\frac{2}{6}$?



9) Какая из представленных ниже закрашенных фигур соответствует $\frac{2}{7}$?



10) Какая из представленных ниже закрашенных фигур соответствует $\frac{3}{5}$?



1. **C**

2. **B**

3. **D**

4. **D**

5. **D**

6. **A**

7. **A**

8. **A**

9. **D**

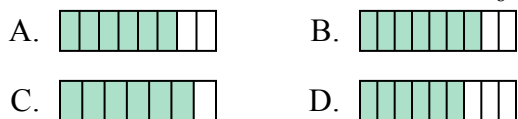
10. **A**



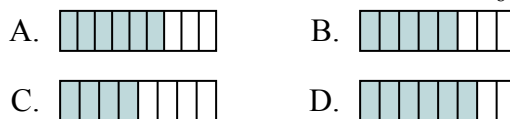
Определите под какой буквой находится правильный ответ.

ОТВЕТЫ

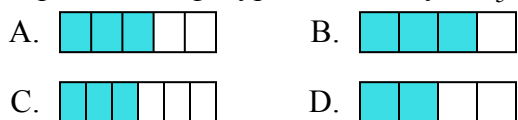
1) Какая из представленных ниже закрашенных фигур соответствует $\frac{6}{8}$?



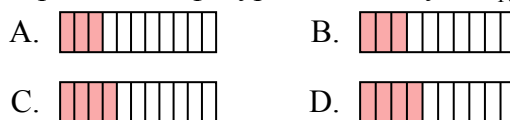
2) Какая из представленных ниже закрашенных фигур соответствует $\frac{5}{8}$?



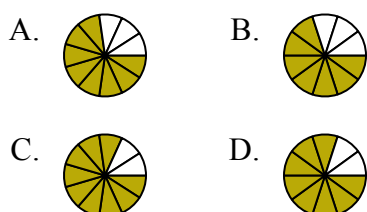
3) Какая из представленных ниже закрашенных фигур соответствует $\frac{3}{5}$?



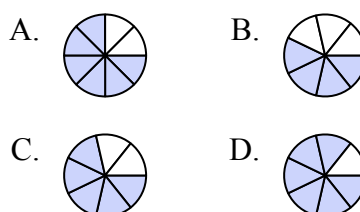
4) Какая из представленных ниже закрашенных фигур соответствует $\frac{3}{10}$?



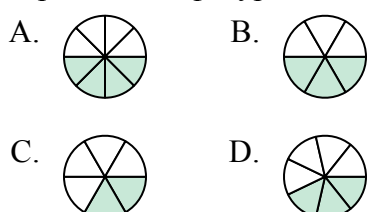
5) Какая из представленных ниже закрашенных фигур соответствует $\frac{8}{10}$?



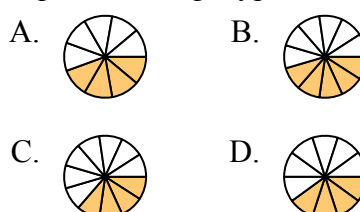
6) Какая из представленных ниже закрашенных фигур соответствует $\frac{5}{7}$?



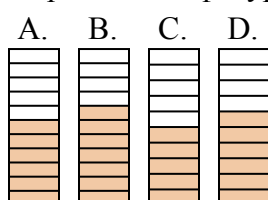
7) Какая из представленных ниже закрашенных фигур соответствует $\frac{3}{7}$?



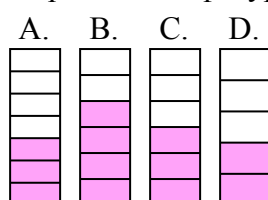
8) Какая из представленных ниже закрашенных фигур соответствует $\frac{4}{10}$?



9) Какая из представленных ниже закрашенных фигур соответствует $\frac{6}{10}$?



10) Какая из представленных ниже закрашенных фигур соответствует $\frac{3}{6}$?



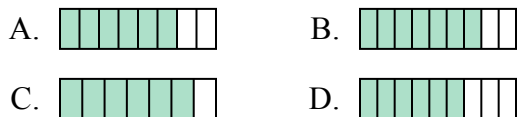
1. _____
2. _____
3. _____
4. _____
5. _____
6. _____
7. _____
8. _____
9. _____
10. _____



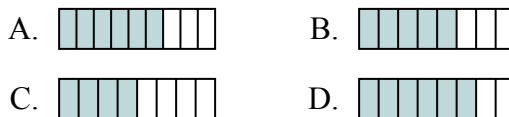
Определите под какой буквой находится правильный ответ.

ОТВЕТЫ

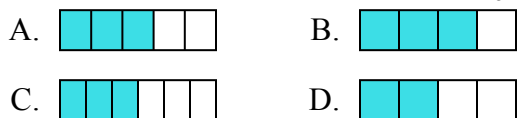
1) Какая из представленных ниже закрашенных фигур соответствует $\frac{6}{8}$?



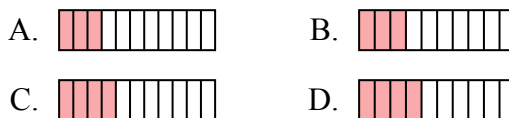
2) Какая из представленных ниже закрашенных фигур соответствует $\frac{5}{8}$?



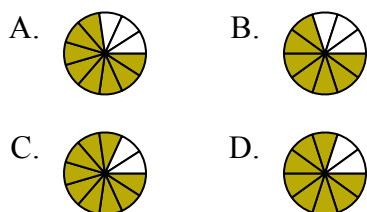
3) Какая из представленных ниже закрашенных фигур соответствует $\frac{3}{5}$?



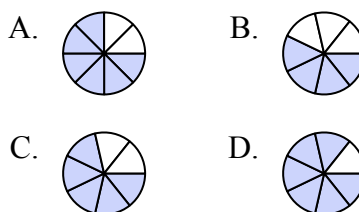
4) Какая из представленных ниже закрашенных фигур соответствует $\frac{3}{10}$?



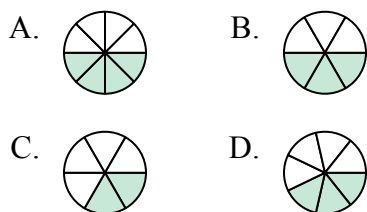
5) Какая из представленных ниже закрашенных фигур соответствует $\frac{8}{10}$?



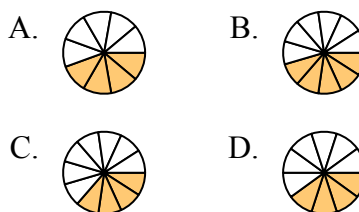
6) Какая из представленных ниже закрашенных фигур соответствует $\frac{5}{7}$?



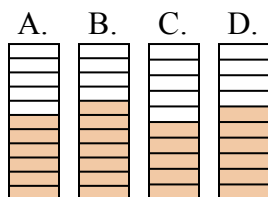
7) Какая из представленных ниже закрашенных фигур соответствует $\frac{3}{7}$?



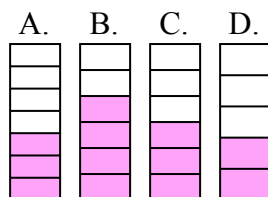
8) Какая из представленных ниже закрашенных фигур соответствует $\frac{4}{10}$?



9) Какая из представленных ниже закрашенных фигур соответствует $\frac{6}{10}$?



10) Какая из представленных ниже закрашенных фигур соответствует $\frac{3}{6}$?



1. **A**

2. **B**

3. **A**

4. **B**

5. **D**

6. **C**

7. **D**

8. **D**

9. **D**

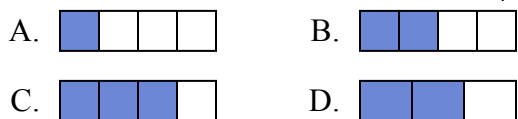
10. **C**



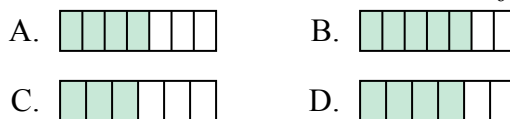
Определите под какой буквой находится правильный ответ.

ОТВЕТЫ

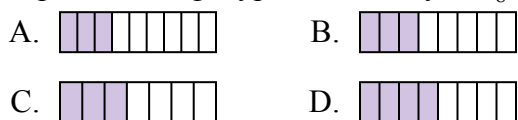
1) Какая из представленных ниже закрашенных фигур соответствует $\frac{2}{4}$?



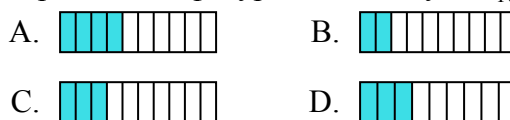
2) Какая из представленных ниже закрашенных фигур соответствует $\frac{4}{6}$?



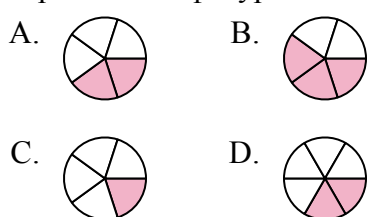
3) Какая из представленных ниже закрашенных фигур соответствует $\frac{3}{8}$?



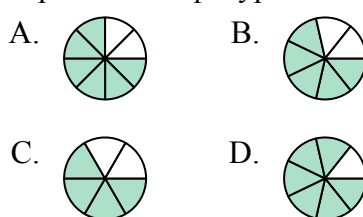
4) Какая из представленных ниже закрашенных фигур соответствует $\frac{3}{10}$?



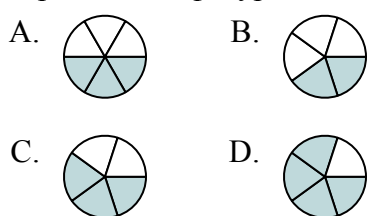
5) Какая из представленных ниже закрашенных фигур соответствует $\frac{2}{5}$?



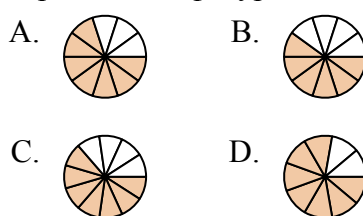
6) Какая из представленных ниже закрашенных фигур соответствует $\frac{5}{7}$?



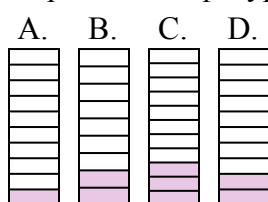
7) Какая из представленных ниже закрашенных фигур соответствует $\frac{3}{5}$?



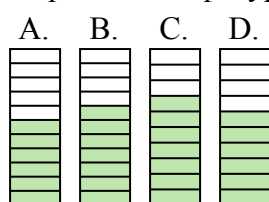
8) Какая из представленных ниже закрашенных фигур соответствует $\frac{7}{10}$?



9) Какая из представленных ниже закрашенных фигур соответствует $\frac{2}{10}$?



10) Какая из представленных ниже закрашенных фигур соответствует $\frac{6}{10}$?

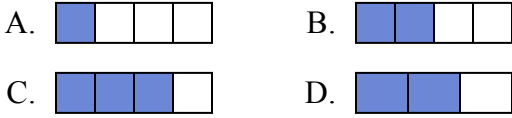


1. _____
2. _____
3. _____
4. _____
5. _____
6. _____
7. _____
8. _____
9. _____
10. _____

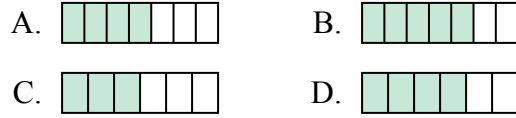


Определите под какой буквой находится правильный ответ.

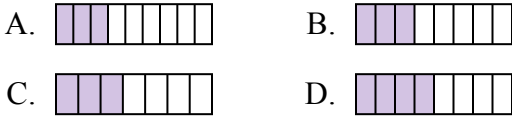
1) Какая из представленных ниже закрашенных фигур соответствует $\frac{2}{4}$?



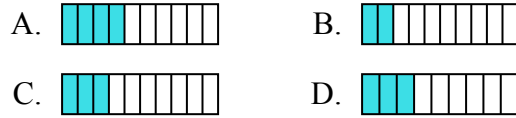
2) Какая из представленных ниже закрашенных фигур соответствует $\frac{4}{6}$?



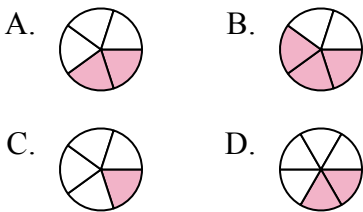
3) Какая из представленных ниже закрашенных фигур соответствует $\frac{3}{8}$?



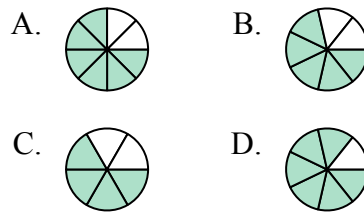
4) Какая из представленных ниже закрашенных фигур соответствует $\frac{3}{10}$?



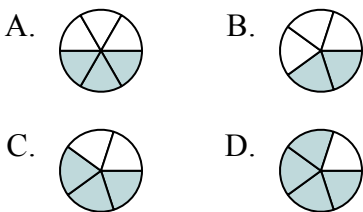
5) Какая из представленных ниже закрашенных фигур соответствует $\frac{2}{5}$?



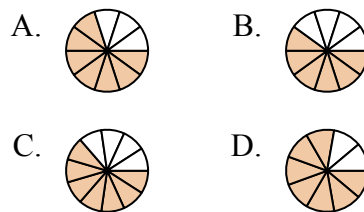
6) Какая из представленных ниже закрашенных фигур соответствует $\frac{5}{7}$?



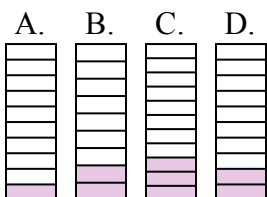
7) Какая из представленных ниже закрашенных фигур соответствует $\frac{3}{5}$?



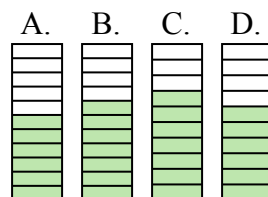
8) Какая из представленных ниже закрашенных фигур соответствует $\frac{7}{10}$?



9) Какая из представленных ниже закрашенных фигур соответствует $\frac{2}{10}$?



10) Какая из представленных ниже закрашенных фигур соответствует $\frac{6}{10}$?



ОТВЕТЫ

1. **B**
2. **D**
3. **B**
4. **C**
5. **A**
6. **B**
7. **C**
8. **A**
9. **D**
10. **D**



Определите под какой буквой находится правильный ответ.

ОТВЕТЫ

1) Какая из представленных ниже закрашенных фигур соответствует $\frac{2}{8}$?




2) Какая из представленных ниже закрашенных фигур соответствует $\frac{4}{10}$?



3) Какая из представленных ниже закрашенных фигур соответствует $\frac{4}{8}$?



4) Какая из представленных ниже закрашенных фигур соответствует $\frac{2}{10}$?



5) Какая из представленных ниже закрашенных фигур соответствует $\frac{2}{6}$?



6) Какая из представленных ниже закрашенных фигур соответствует $\frac{6}{8}$?



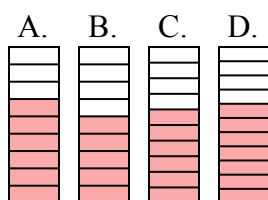
7) Какая из представленных ниже закрашенных фигур соответствует $\frac{3}{10}$?



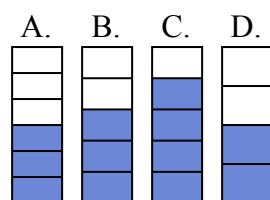
8) Какая из представленных ниже закрашенных фигур соответствует $\frac{3}{8}$?



9) Какая из представленных ниже закрашенных фигур соответствует $\frac{6}{10}$?



10) Какая из представленных ниже закрашенных фигур соответствует $\frac{3}{5}$?



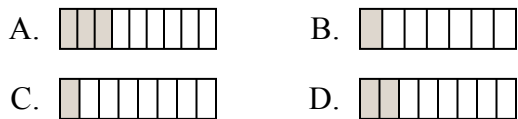
1. _____
2. _____
3. _____
4. _____
5. _____
6. _____
7. _____
8. _____
9. _____
10. _____



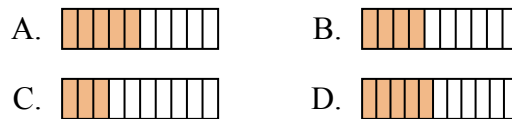
Определите под какой буквой находится правильный ответ.

ОТВЕТЫ

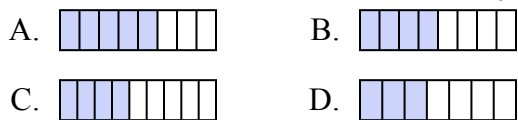
1) Какая из представленных ниже закрашенных фигур соответствует $\frac{2}{8}$?



2) Какая из представленных ниже закрашенных фигур соответствует $\frac{4}{10}$?



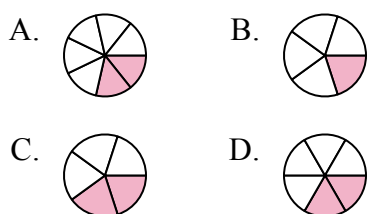
3) Какая из представленных ниже закрашенных фигур соответствует $\frac{4}{8}$?



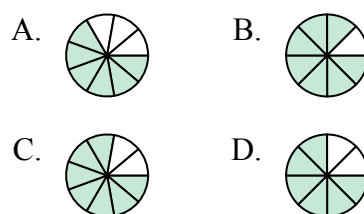
4) Какая из представленных ниже закрашенных фигур соответствует $\frac{2}{10}$?



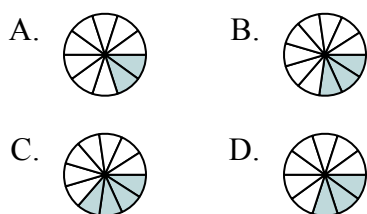
5) Какая из представленных ниже закрашенных фигур соответствует $\frac{2}{6}$?



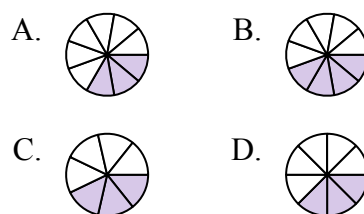
6) Какая из представленных ниже закрашенных фигур соответствует $\frac{6}{8}$?



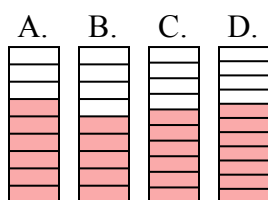
7) Какая из представленных ниже закрашенных фигур соответствует $\frac{3}{10}$?



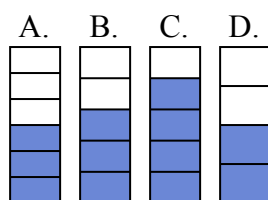
8) Какая из представленных ниже закрашенных фигур соответствует $\frac{3}{8}$?



9) Какая из представленных ниже закрашенных фигур соответствует $\frac{6}{10}$?



10) Какая из представленных ниже закрашенных фигур соответствует $\frac{3}{5}$?



1. **D**

2. **B**

3. **B**

4. **C**

5. **D**

6. **D**

7. **D**

8. **D**

9. **C**

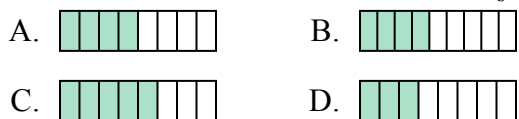
10. **B**



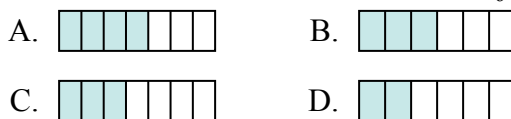
Определите под какой буквой находится правильный ответ.

ОТВЕТЫ

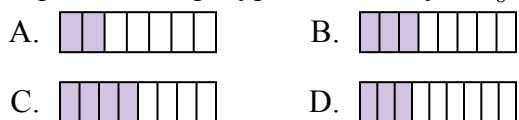
1) Какая из представленных ниже закрашенных фигур соответствует $\frac{4}{8}$?



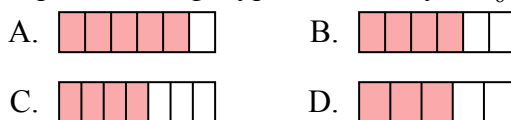
2) Какая из представленных ниже закрашенных фигур соответствует $\frac{3}{6}$?



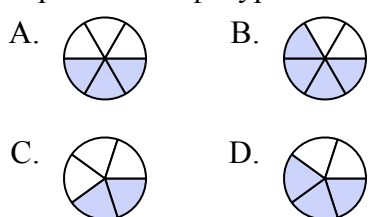
3) Какая из представленных ниже закрашенных фигур соответствует $\frac{3}{8}$?



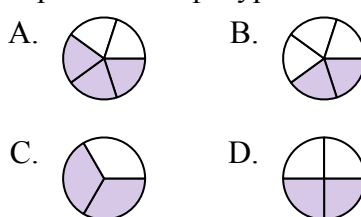
4) Какая из представленных ниже закрашенных фигур соответствует $\frac{4}{6}$?



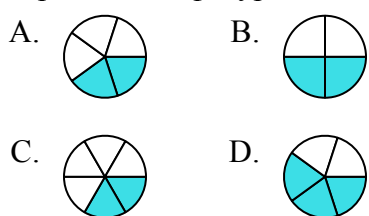
5) Какая из представленных ниже закрашенных фигур соответствует $\frac{3}{5}$?



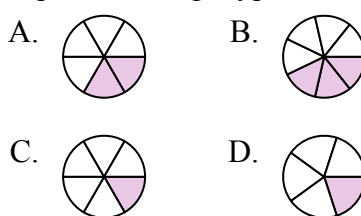
6) Какая из представленных ниже закрашенных фигур соответствует $\frac{2}{4}$?



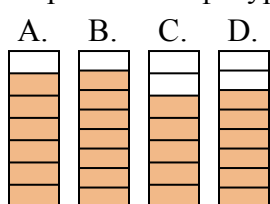
7) Какая из представленных ниже закрашенных фигур соответствует $\frac{2}{5}$?



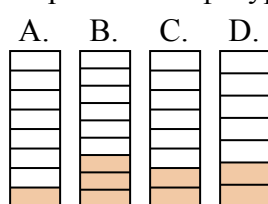
8) Какая из представленных ниже закрашенных фигур соответствует $\frac{2}{6}$?



9) Какая из представленных ниже закрашенных фигур соответствует $\frac{6}{8}$?



10) Какая из представленных ниже закрашенных фигур соответствует $\frac{2}{8}$?

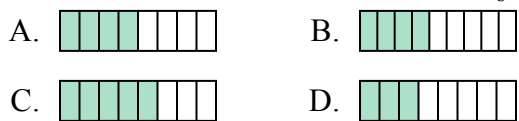


1. _____
2. _____
3. _____
4. _____
5. _____
6. _____
7. _____
8. _____
9. _____
10. _____

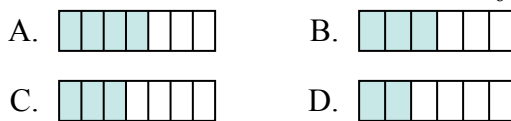


Определите под какой буквой находится правильный ответ.

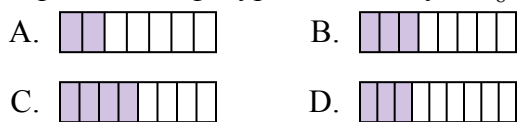
1) Какая из представленных ниже закрашенных фигур соответствует $\frac{4}{8}$?



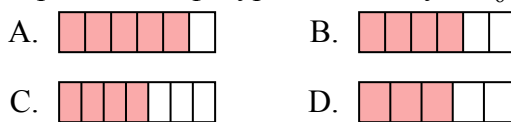
2) Какая из представленных ниже закрашенных фигур соответствует $\frac{3}{6}$?



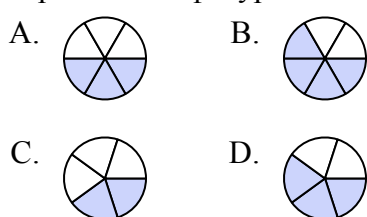
3) Какая из представленных ниже закрашенных фигур соответствует $\frac{3}{8}$?



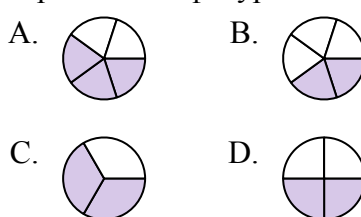
4) Какая из представленных ниже закрашенных фигур соответствует $\frac{4}{6}$?



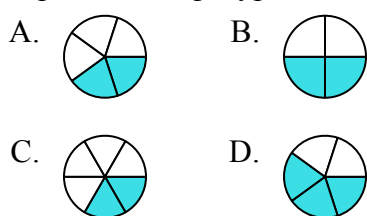
5) Какая из представленных ниже закрашенных фигур соответствует $\frac{3}{5}$?



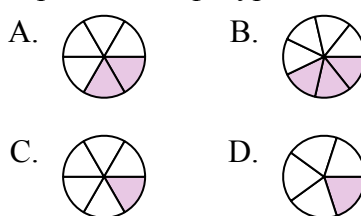
6) Какая из представленных ниже закрашенных фигур соответствует $\frac{2}{4}$?



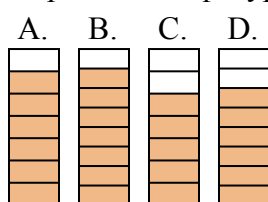
7) Какая из представленных ниже закрашенных фигур соответствует $\frac{2}{5}$?



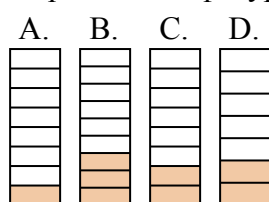
8) Какая из представленных ниже закрашенных фигур соответствует $\frac{2}{6}$?



9) Какая из представленных ниже закрашенных фигур соответствует $\frac{6}{8}$?



10) Какая из представленных ниже закрашенных фигур соответствует $\frac{2}{8}$?



ОТВЕТЫ

1. **A**

2. **B**

3. **B**

4. **B**

5. **D**

6. **D**

7. **A**

8. **A**

9. **D**

10. **C**



Определите под какой буквой находится правильный ответ.

ОТВЕТЫ

1) Какая из представленных ниже закрашенных фигур соответствует $\frac{4}{6}$?



2) Какая из представленных ниже закрашенных фигур соответствует $\frac{7}{10}$?



3) Какая из представленных ниже закрашенных фигур соответствует $\frac{2}{8}$?



4) Какая из представленных ниже закрашенных фигур соответствует $\frac{2}{4}$?



5) Какая из представленных ниже закрашенных фигур соответствует $\frac{4}{10}$?



6) Какая из представленных ниже закрашенных фигур соответствует $\frac{3}{5}$?



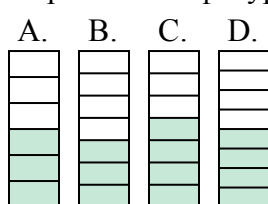
7) Какая из представленных ниже закрашенных фигур соответствует $\frac{6}{8}$?



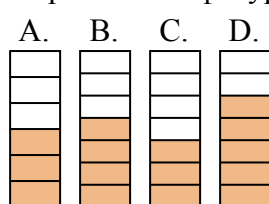
8) Какая из представленных ниже закрашенных фигур соответствует $\frac{5}{8}$?



9) Какая из представленных ниже закрашенных фигур соответствует $\frac{3}{7}$?



10) Какая из представленных ниже закрашенных фигур соответствует $\frac{4}{7}$?



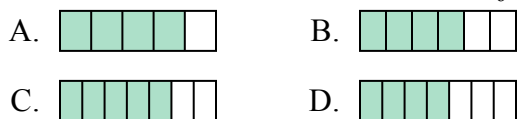
1. _____
2. _____
3. _____
4. _____
5. _____
6. _____
7. _____
8. _____
9. _____
10. _____



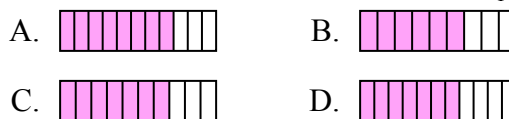
Определите под какой буквой находится правильный ответ.

ОТВЕТЫ

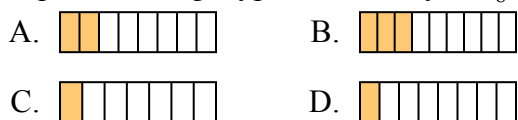
1) Какая из представленных ниже закрашенных фигур соответствует $\frac{4}{6}$?



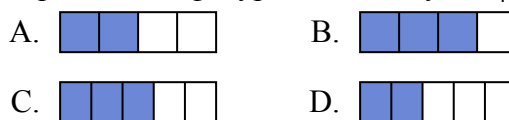
2) Какая из представленных ниже закрашенных фигур соответствует $\frac{7}{10}$?



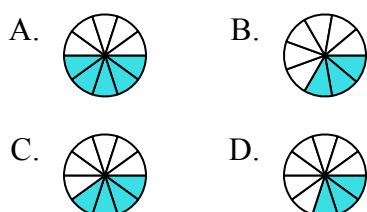
3) Какая из представленных ниже закрашенных фигур соответствует $\frac{2}{8}$?



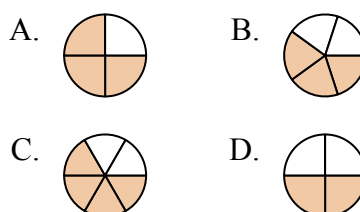
4) Какая из представленных ниже закрашенных фигур соответствует $\frac{2}{4}$?



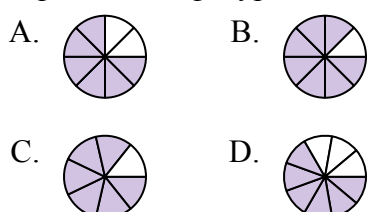
5) Какая из представленных ниже закрашенных фигур соответствует $\frac{4}{10}$?



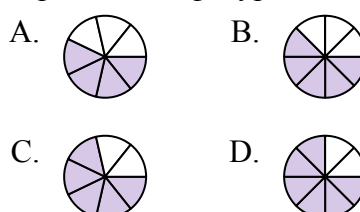
6) Какая из представленных ниже закрашенных фигур соответствует $\frac{3}{5}$?



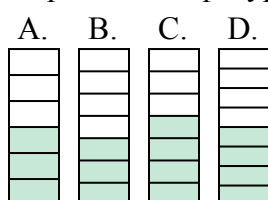
7) Какая из представленных ниже закрашенных фигур соответствует $\frac{6}{8}$?



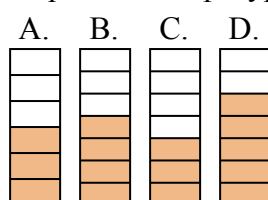
8) Какая из представленных ниже закрашенных фигур соответствует $\frac{5}{8}$?



9) Какая из представленных ниже закрашенных фигур соответствует $\frac{3}{7}$?



10) Какая из представленных ниже закрашенных фигур соответствует $\frac{4}{7}$?



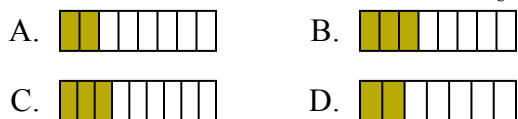
- 1. **B**
- 2. **C**
- 3. **A**
- 4. **A**
- 5. **C**
- 6. **B**
- 7. **A**
- 8. **B**
- 9. **B**
- 10. **B**



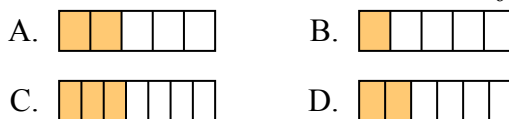
Определите под какой буквой находится правильный ответ.

ОТВЕТЫ

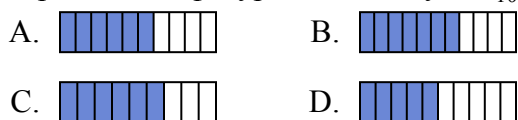
1) Какая из представленных ниже закрашенных фигур соответствует $\frac{3}{8}$?



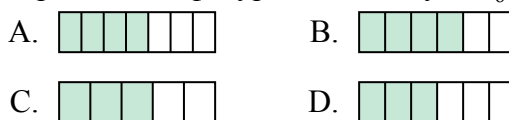
2) Какая из представленных ниже закрашенных фигур соответствует $\frac{2}{6}$?



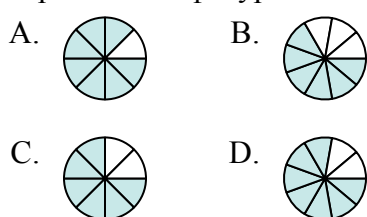
3) Какая из представленных ниже закрашенных фигур соответствует $\frac{6}{10}$?



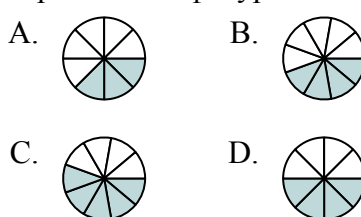
4) Какая из представленных ниже закрашенных фигур соответствует $\frac{4}{6}$?



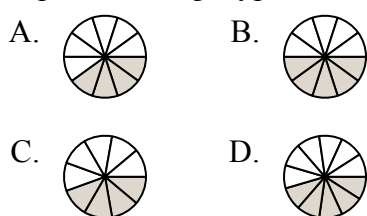
5) Какая из представленных ниже закрашенных фигур соответствует $\frac{6}{8}$?



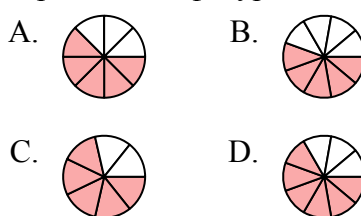
6) Какая из представленных ниже закрашенных фигур соответствует $\frac{4}{8}$?



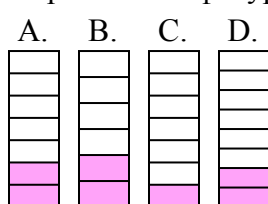
7) Какая из представленных ниже закрашенных фигур соответствует $\frac{4}{10}$?



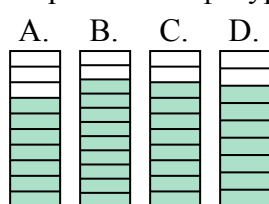
8) Какая из представленных ниже закрашенных фигур соответствует $\frac{5}{8}$?



9) Какая из представленных ниже закрашенных фигур соответствует $\frac{2}{7}$?



10) Какая из представленных ниже закрашенных фигур соответствует $\frac{8}{10}$?



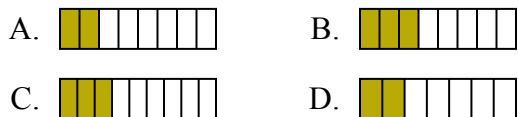
1. _____
2. _____
3. _____
4. _____
5. _____
6. _____
7. _____
8. _____
9. _____
10. _____



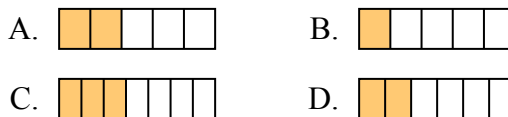
Определите под какой буквой находится правильный ответ.

ОТВЕТЫ

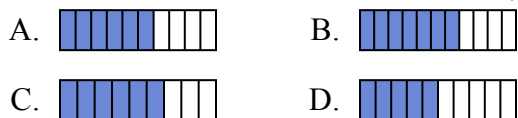
1) Какая из представленных ниже закрашенных фигур соответствует $\frac{3}{8}$?



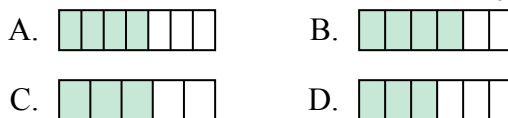
2) Какая из представленных ниже закрашенных фигур соответствует $\frac{2}{6}$?



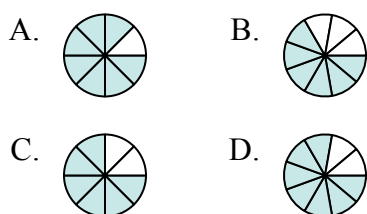
3) Какая из представленных ниже закрашенных фигур соответствует $\frac{6}{10}$?



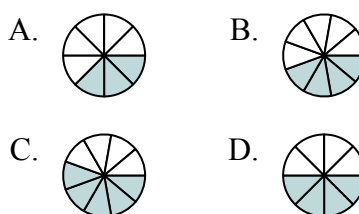
4) Какая из представленных ниже закрашенных фигур соответствует $\frac{4}{6}$?



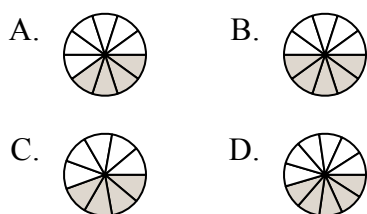
5) Какая из представленных ниже закрашенных фигур соответствует $\frac{6}{8}$?



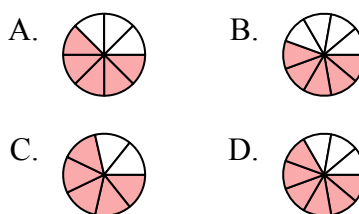
6) Какая из представленных ниже закрашенных фигур соответствует $\frac{4}{8}$?



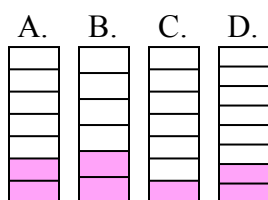
7) Какая из представленных ниже закрашенных фигур соответствует $\frac{4}{10}$?



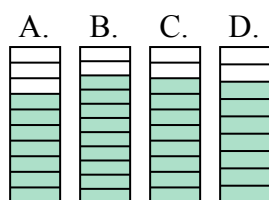
8) Какая из представленных ниже закрашенных фигур соответствует $\frac{5}{8}$?



9) Какая из представленных ниже закрашенных фигур соответствует $\frac{2}{7}$?



10) Какая из представленных ниже закрашенных фигур соответствует $\frac{8}{10}$?



1. В

2. Д

3. А

4. В

5. С

6. Д

7. А

8. А

9. А

10. С