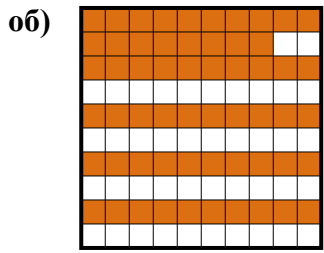




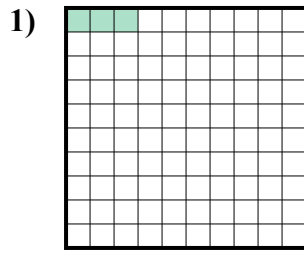


Определите значение в десятичной дроби, обычной и процентном эквиваленте.

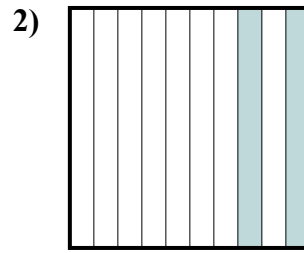
**ОТВЕТЫ**



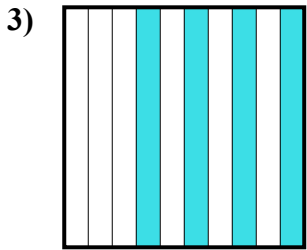
дроби  $\frac{58}{100}$   
 обычной  $0,58$   
 процентном  $58$



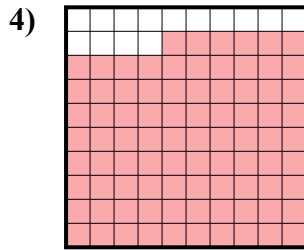
дроби  $\frac{3}{100}$   
 обычной  $0,03$   
 процентном  $3$



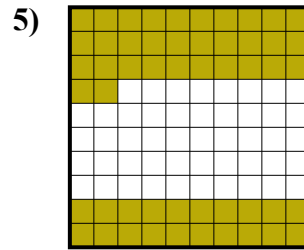
дроби  $\frac{2}{10}$   
 обычной  $0,2$   
 процентном  $20$



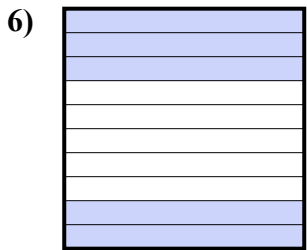
дроби  $\frac{4}{10}$   
 обычной  $0,4$   
 процентном  $40$



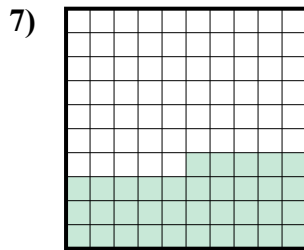
дроби  $\frac{86}{100}$   
 обычной  $0,86$   
 процентном  $86$



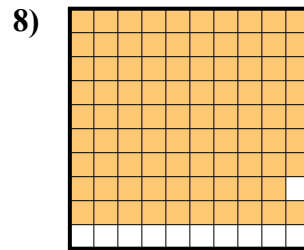
дроби  $\frac{52}{100}$   
 обычной  $0,52$   
 процентном  $52$



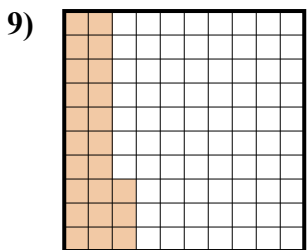
дроби  $\frac{5}{10}$   
 обычной  $0,5$   
 процентном  $50$



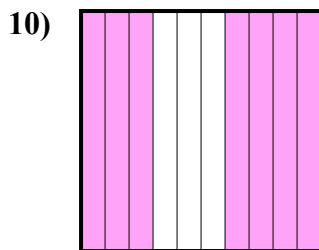
дроби  $\frac{35}{100}$   
 обычной  $0,35$   
 процентном  $35$



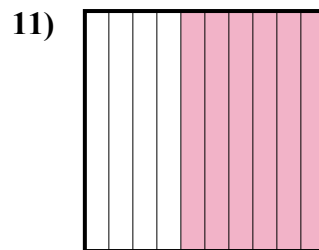
дроби  $\frac{89}{100}$   
 обычной  $0,89$   
 процентном  $89$



дроби  $\frac{23}{100}$   
 обычной  $0,23$   
 процентном  $23$



дроби  $\frac{7}{10}$   
 обычной  $0,7$   
 процентном  $70$



дроби  $\frac{6}{10}$   
 обычной  $0,6$   
 процентном  $60$

|     |                  |             |            |
|-----|------------------|-------------|------------|
| об. | $\frac{58}{100}$ | <b>0,58</b> | <b>58%</b> |
| 1.  | $\frac{3}{100}$  | <b>0,03</b> | <b>3%</b>  |
| 2.  | $\frac{2}{10}$   | <b>0,2</b>  | <b>20%</b> |
| 3.  | $\frac{4}{10}$   | <b>0,4</b>  | <b>40%</b> |
| 4.  | $\frac{86}{100}$ | <b>0,86</b> | <b>86%</b> |
| 5.  | $\frac{52}{100}$ | <b>0,52</b> | <b>52%</b> |
| 6.  | $\frac{5}{10}$   | <b>0,5</b>  | <b>50%</b> |
| 7.  | $\frac{35}{100}$ | <b>0,35</b> | <b>35%</b> |
| 8.  | $\frac{89}{100}$ | <b>0,89</b> | <b>89%</b> |
| 9.  | $\frac{23}{100}$ | <b>0,23</b> | <b>23%</b> |
| 10. | $\frac{7}{10}$   | <b>0,7</b>  | <b>70%</b> |
| 11. | $\frac{6}{10}$   | <b>0,6</b>  | <b>60%</b> |