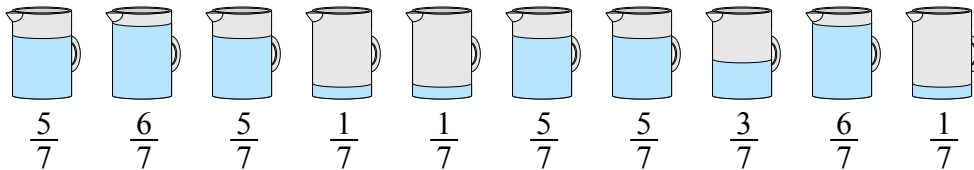




Решите каждую задачу.

ОТВЕТЫ

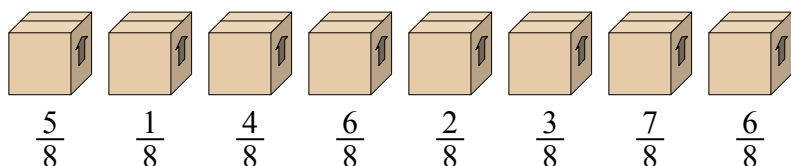
1) Кувшины ниже имеют различное количество воды.



Если бы Вы распределили воду по кувшинам поровну, то сколько бы воды получилось в каждом?

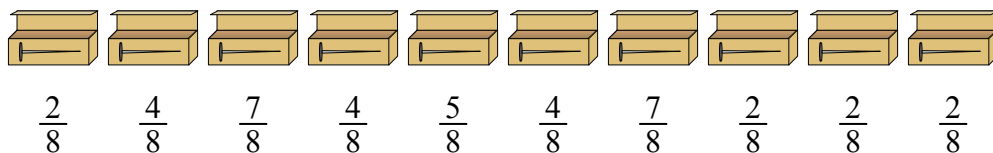
- 1. _____
- 2. _____
- 3. _____
- 4. _____
- 5. _____

2) Посмотрите на вес коробок, представленных ниже.



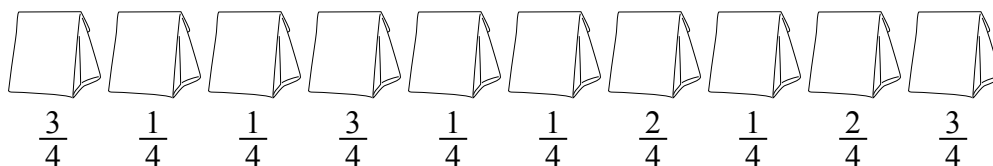
Если бы Вы распределяли содержимое коробок так, чтобы у них получился равный вес, то каков бы был вес каждой коробки?

3) У строителя было несколько коробок с гвоздями, которые были частично заполнены.




Если бы он разложил гвозди поровну в каждую коробку, то сколько гвоздей получилось бы в каждой коробке?

4) Мешочки с конфетами ниже являются дробями фунта.



Если бы Вы распределили конфеты поровну по мешочкам, то сколько получилось бы в каждом мешочке?

5) На вечеринке стаканчики были заполнены различным количеством газировки.

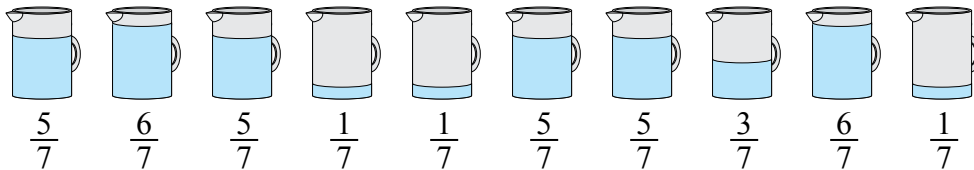


Если бы газировка была налита в стаканы равномерно, то сколько бы получилось в каждом стакане?



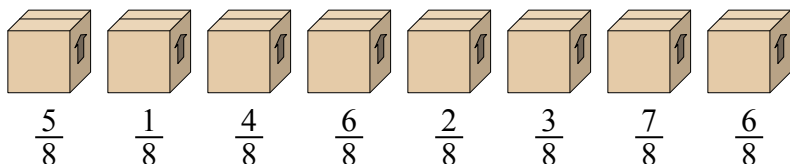
Решите каждую задачу.

- 1) Кувшины ниже имеют различное количество воды.



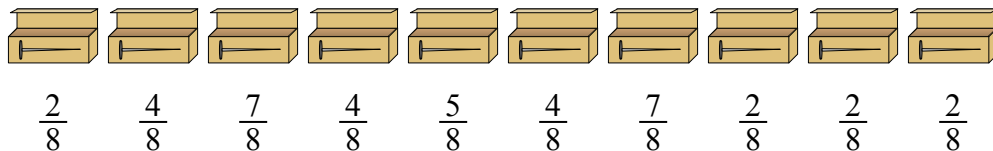
Если бы Вы распределили воду по кувшинам поровну, то сколько бы воды получилось в каждом?

- 2) Посмотрите на вес коробок, представленных ниже.



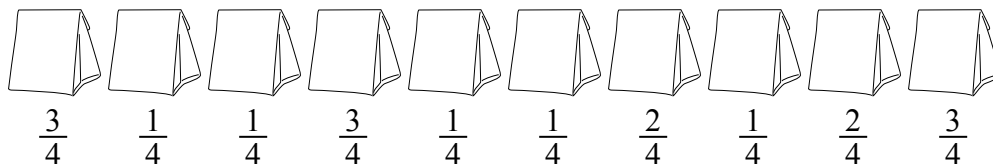
Если бы Вы распределяли содержимое коробок так, чтобы у них получился равный вес, то каков бы был вес каждой коробки?

- 3) У строителя было несколько коробок с гвоздями, которые были частично заполнены.




Если бы он разложил гвозди поровну в каждую коробку, то сколько гвоздей получилось бы в каждой коробке?

- 4) Мешочки с конфетами ниже являются дробями фунта.



Если бы Вы распределили конфеты поровну по мешочкам, то сколько получилось бы в каждом мешочке?

- 5) На вечеринке стаканчики были заполнены различным количеством газировки.



Если бы газировка была налита в стаканы равномерно, то сколько бы получилось в каждом стакане?

Ответы

1. $\frac{38}{70} = \frac{19}{35}$

2. $\frac{34}{64} = \frac{17}{32}$

3. $\frac{39}{80}$

4. $\frac{18}{40} = \frac{9}{20}$

5. $\frac{29}{56}$