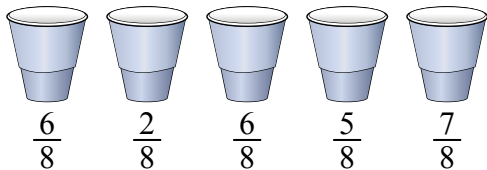




Решите каждую задачу.

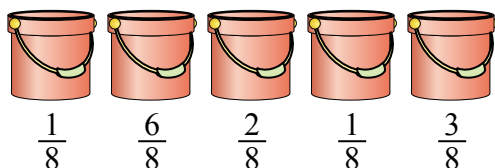
Ответы

- 1) На вечеринке стаканчики были заполнены различным количеством газировки.



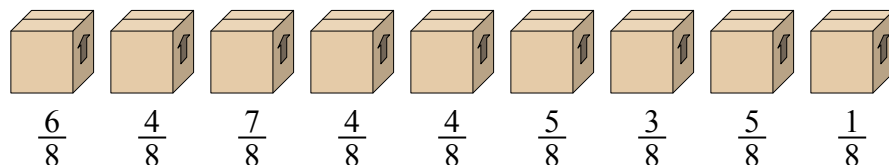
Если бы газировка была налита в стаканы равномерно, то сколько бы получилось в каждом стакане?

- 2) Ведра ниже заполнены песком.



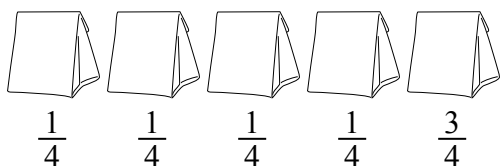
Если бы Вы распределяли песок поровну по ведрам, то какое количество песка было бы в каждом ведре?

- 3) Посмотрите на вес коробок, представленных ниже.



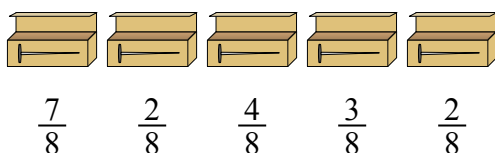
Если бы Вы распределяли содержимое коробок так, чтобы у них получился равный вес, то каков бы был вес каждой коробки?

- 4) Мешочки с конфетами ниже являются дробями фунта.



Если бы Вы распределили конфеты поровну по мешочкам, то сколько получилось бы в каждом мешочке?

- 5) У строителя было несколько коробок с гвоздями, которые были частично заполнены.



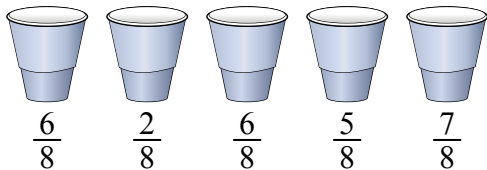
Если бы он разложил гвозди поровну в каждую коробку, то сколько гвоздей получилось бы в каждой коробке?

1. _____
 2. _____
 3. _____
 4. _____
 5. _____



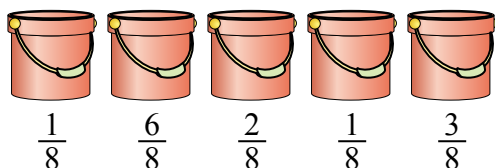
Решите каждую задачу.

- 1) На вечеринке стаканчики были заполнены различным количеством газировки.



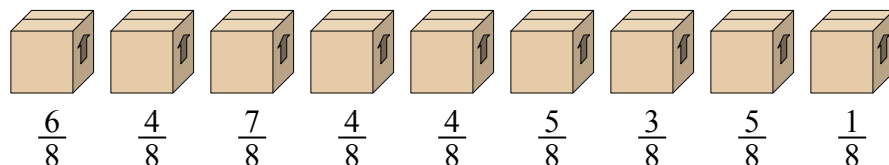
Если бы газировка была налита в стаканы равномерно, то сколько бы получилось в каждом стакане?

- 2) Ведро ниже заполнены песком.



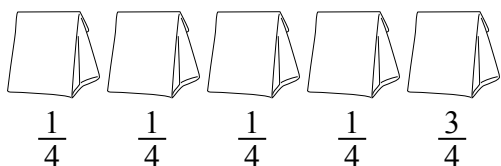
Если бы Вы распределяли песок поровну по ведрам, то какое количество песка было бы в каждом ведре?

- 3) Посмотрите на вес коробок, представленных ниже.



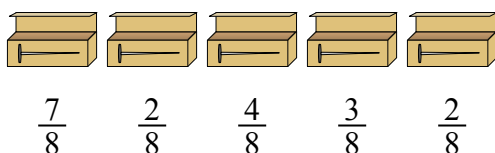
Если бы Вы распределяли содержимое коробок так, чтобы у них получился равный вес, то каков бы был вес каждой коробки?

- 4) Мешочки с конфетами ниже являются дробями фунта.



Если бы Вы распределили конфеты поровну по мешочкам, то сколько получилось бы в каждом мешочке?

- 5) У строителя было несколько коробок с гвоздями, которые были частично заполнены.



Если бы он разложил гвозди поровну в каждую коробку, то сколько гвоздей получилось бы в каждой коробке?

ОТВЕТЫ

1. $\frac{26}{40} = \frac{13}{20}$

2. $\frac{13}{40}$

3. $\frac{39}{72} = \frac{13}{24}$

4. $\frac{7}{20}$

5. $\frac{18}{40} = \frac{9}{20}$