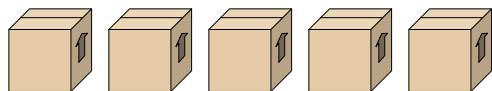




Решите каждую задачу.

**Отвeты**

1) *Посмотрите на вес коробок, представленных ниже.*



$\frac{6}{7}$     $\frac{6}{7}$     $\frac{1}{7}$     $\frac{6}{7}$     $\frac{4}{7}$

Если бы Вы распределяли содержимое коробок так, чтобы у них получился равный вес, то каков бы был вес каждой коробки?

1. \_\_\_\_\_

2. \_\_\_\_\_

3. \_\_\_\_\_

4. \_\_\_\_\_

5. \_\_\_\_\_

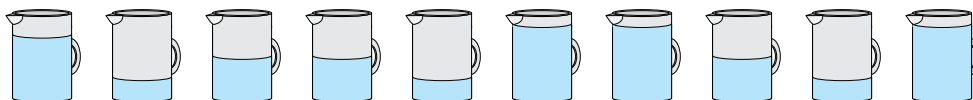
2) *Мешочки с конфетами ниже являются дробями фунта.*



$\frac{6}{8}$     $\frac{3}{8}$     $\frac{4}{8}$     $\frac{1}{8}$     $\frac{5}{8}$     $\frac{1}{8}$

Если бы Вы распределили конфеты поровну по мешочкам, то сколько получилось бы в каждом мешочке?

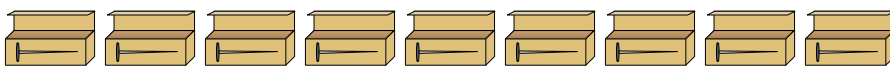
3) *Кувшины ниже имеют различное количество воды.*



$\frac{6}{8}$     $\frac{2}{8}$     $\frac{4}{8}$     $\frac{4}{8}$     $\frac{2}{8}$     $\frac{7}{8}$     $\frac{7}{8}$     $\frac{4}{8}$     $\frac{2}{8}$     $\frac{7}{8}$

Если бы Вы распределили воду по кувшинам поровну, то сколько бы воды получилось в каждом?

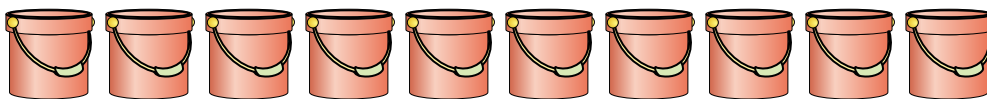
4) *У строителя было несколько коробок с гвоздями, которые были частично заполнены.*



$\frac{1}{8}$     $\frac{7}{8}$     $\frac{3}{8}$     $\frac{7}{8}$     $\frac{4}{8}$     $\frac{6}{8}$     $\frac{3}{8}$     $\frac{1}{8}$     $\frac{2}{8}$

Если бы он разложил гвозди поровну в каждую коробку, то сколько гвоздей получилось бы в каждой коробке?

5) *Ведра ниже заполнены песком.*



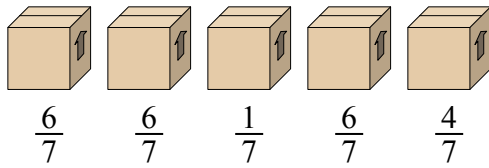
$\frac{2}{4}$     $\frac{1}{4}$     $\frac{1}{4}$     $\frac{2}{4}$     $\frac{2}{4}$     $\frac{3}{4}$     $\frac{1}{4}$     $\frac{1}{4}$     $\frac{3}{4}$     $\frac{3}{4}$

Если бы Вы распределяли песок поровну по ведрам, то какое количество песка было бы в каждом ведре?



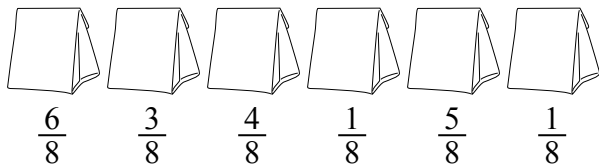
Решите каждую задачу.

1) *Посмотрите на вес коробок, представленных ниже.*



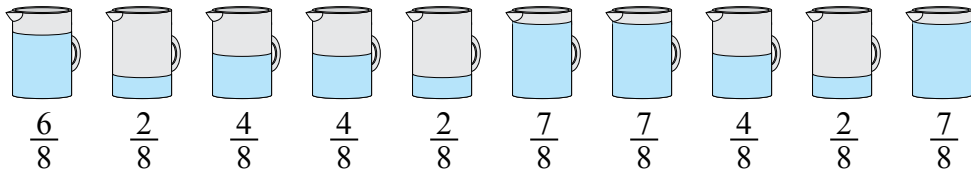
Если бы Вы распределяли содержимое коробок так, чтобы у них получился равный вес, то каков бы был вес каждой коробки?

2) *Мешочки с конфетами ниже являются дробями фунта.*



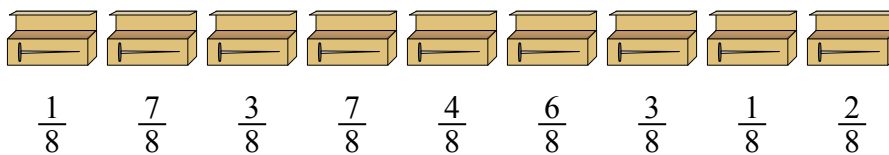
Если бы Вы распределили конфеты поровну по мешочкам, то сколько получилось бы в каждом мешочке?

3) *Кувшины ниже имеют различное количество воды.*



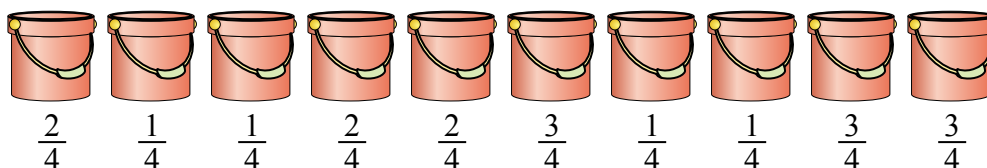
Если бы Вы распределили воду по кувшинам поровну, то сколько бы воды получилось в каждом?

4) *У строителя было несколько коробок с гвоздями, которые были частично заполнены.*



Если бы он разложил гвозди поровну в каждую коробку, то сколько гвоздей получилось бы в каждой коробке?

5) *Ведра ниже заполнены песком.*



Если бы Вы распределяли песок поровну по ведрам, то какое количество песка было бы в каждом ведре?

**Ответы**

1.  $\frac{23}{35}$

2.  $\frac{20}{48} = \frac{5}{12}$

3.  $\frac{45}{80} = \frac{9}{16}$

4.  $\frac{34}{72} = \frac{17}{36}$

5.  $\frac{19}{40}$