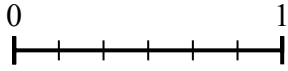
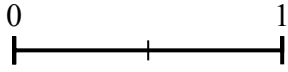


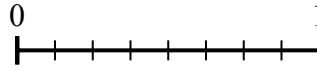
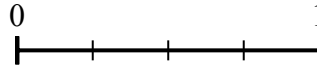


Используйте числовую прямую для решения задачи.


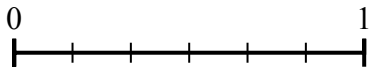
1) Используя данные числовые прямые, найдите эквивалент дроби {VAR}



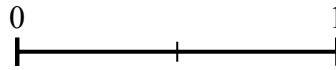
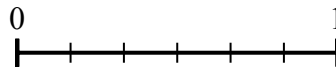
2) Используя данные числовые прямые, найдите эквивалент дроби {VAR}




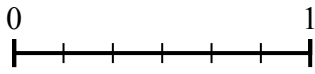
3) Используя данные числовые прямые, найдите эквивалент дроби {VAR}



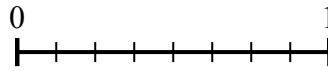
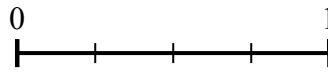
4) Используя данные числовые прямые, найдите эквивалент дроби {VAR}



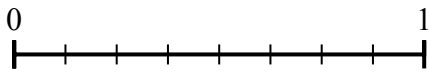
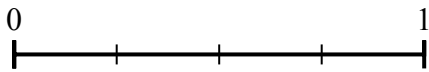
5) Используя данные числовые прямые, найдите эквивалент дроби {VAR}



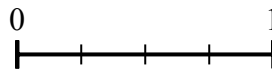
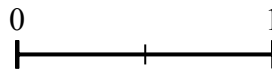
6) Используя данные числовые прямые, найдите эквивалент дроби {VAR}



7) Используя данные числовые прямые, найдите эквивалент дроби {VAR}



8) Используя данные числовые прямые, найдите эквивалент дроби {VAR}



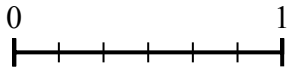
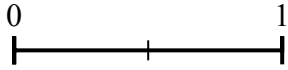
Ответы

1. _____
2. _____
3. _____
4. _____
5. _____
6. _____
7. _____
8. _____

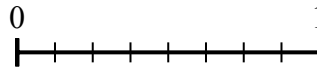
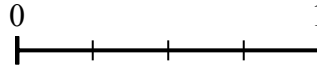


Используйте числовую прямую для решения задачи.


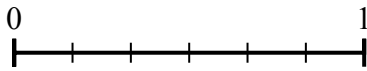
1) Используя данные числовые прямые, найдите эквивалент дроби {VAR}



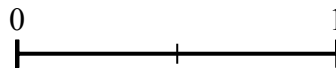
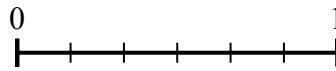
2) Используя данные числовые прямые, найдите эквивалент дроби {VAR}



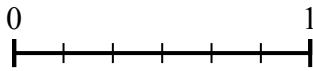
3) Используя данные числовые прямые, найдите эквивалент дроби {VAR}



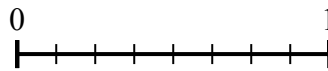
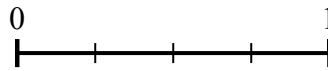
4) Используя данные числовые прямые, найдите эквивалент дроби {VAR}



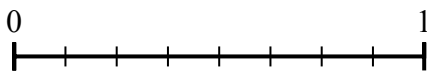
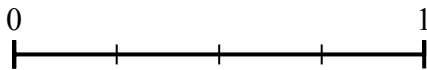
5) Используя данные числовые прямые, найдите эквивалент дроби {VAR}



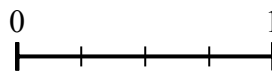
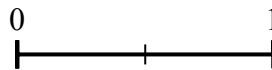
6) Используя данные числовые прямые, найдите эквивалент дроби {VAR}



7) Используя данные числовые прямые, найдите эквивалент дроби {VAR}



8) Используя данные числовые прямые, найдите эквивалент дроби {VAR}



Ответы

1. $\frac{6}{6}$

2. $\frac{6}{8}$

3. $\frac{3}{3}$

4. $\frac{0}{2}$

5. $\frac{1}{3}$

6. $\frac{2}{8}$

7. $\frac{4}{8}$

8. $\frac{4}{4}$