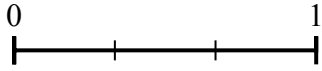
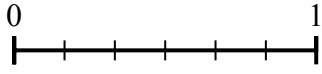


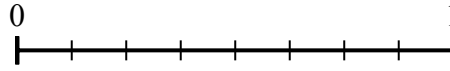
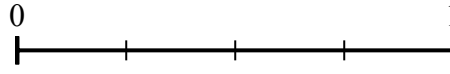


Используйте числовую прямую для решения задачи.

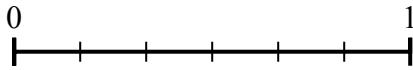
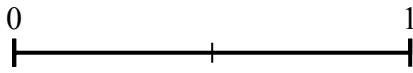
1) Используя данные числовые прямые, найдите эквивалент дроби {VAR}




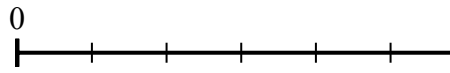
2) Используя данные числовые прямые, найдите эквивалент дроби {VAR}



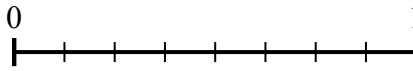
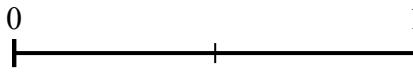
3) Используя данные числовые прямые, найдите эквивалент дроби {VAR}




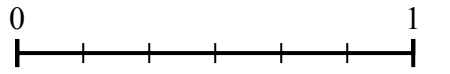
4) Используя данные числовые прямые, найдите эквивалент дроби {VAR}



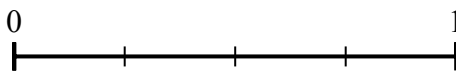
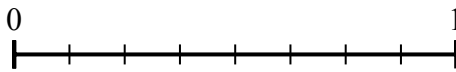
5) Используя данные числовые прямые, найдите эквивалент дроби {VAR}



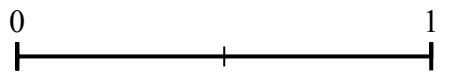
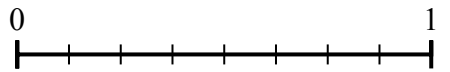
6) Используя данные числовые прямые, найдите эквивалент дроби {VAR}



7) Используя данные числовые прямые, найдите эквивалент дроби {VAR}



8) Используя данные числовые прямые, найдите эквивалент дроби {VAR}



Ответы

1. _____

2. _____

3. _____

4. _____

5. _____

6. _____

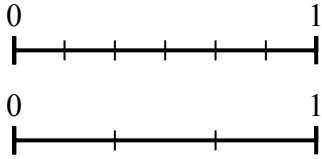
7. _____

8. _____

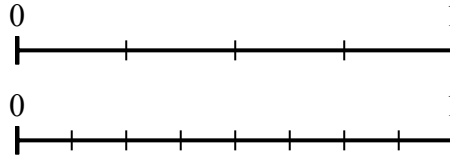


Используйте числовую прямую для решения задачи.

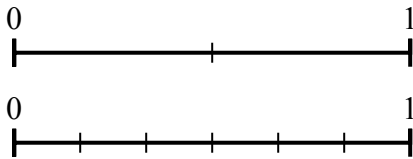
1) Используя данные числовые прямые, найдите эквивалент дроби {VAR}



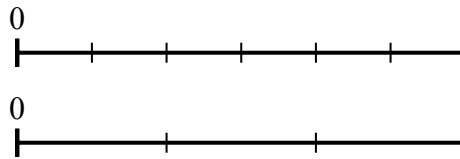
2) Используя данные числовые прямые, найдите эквивалент дроби {VAR}



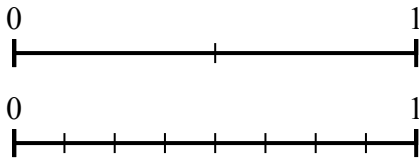
3) Используя данные числовые прямые, найдите эквивалент дроби {VAR}



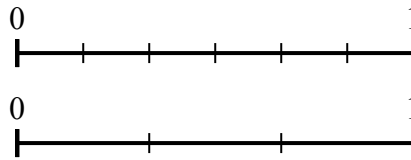
4) Используя данные числовые прямые, найдите эквивалент дроби {VAR}



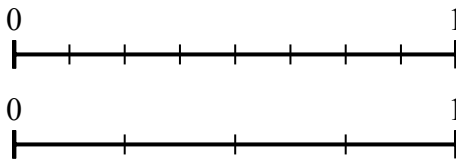
5) Используя данные числовые прямые, найдите эквивалент дроби {VAR}



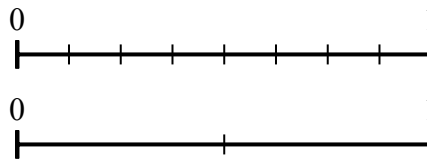
6) Используя данные числовые прямые, найдите эквивалент дроби {VAR}



7) Используя данные числовые прямые, найдите эквивалент дроби {VAR}



8) Используя данные числовые прямые, найдите эквивалент дроби {VAR}



Ответы

1. $\frac{3}{3}$
2. $\frac{2}{8}$
3. $\frac{0}{6}$
4. $\frac{1}{3}$
5. $\frac{8}{8}$
6. $\frac{2}{3}$
7. $\frac{4}{4}$
8. $\frac{1}{2}$