




Решите каждую задачу.


- об) Выразите луны в виде дроби от всего множества.




- 1) Выразите луны в виде дроби от всего множества.



- 2) Выразите сердца в виде дроби от всего множества.



- 3) Выразите треугольников(ка) в виде дроби от всего множества.



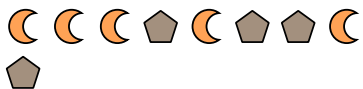
- 4) Выразите звезд(ы) в виде дроби от всего множества.



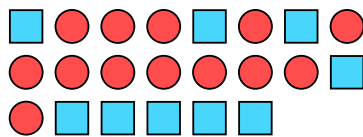
- 5) Выразите звезд(ы) в виде дроби от всего множества.



- 6) Выразите пятиугольников(ка) в виде дроби от всего множества.



- 7) Выразите кругов(га) в виде дроби от всего множества.



- 8) Выразите звезд(ы) в виде дроби от всего множества.



- 9) Выразите треугольников(ка) в виде дроби от всего множества.



- 10) Выразите звезд(ы) в виде дроби от всего множества.



- 11) Выразите звезд(ы) в виде дроби от всего множества.

**Ответы**

об.  $\frac{5}{15}$

1. \_\_\_\_\_

2. \_\_\_\_\_

3. \_\_\_\_\_

4. \_\_\_\_\_

5. \_\_\_\_\_

6. \_\_\_\_\_

7. \_\_\_\_\_

8. \_\_\_\_\_

9. \_\_\_\_\_

10. \_\_\_\_\_

11. \_\_\_\_\_




Решите каждую задачу.

- об) Выразите луны в виде дроби от всего множества.



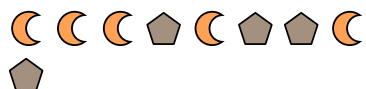
- 2) Выразите сердца в виде дроби от всего множества.



- 4) Выразите звезд(ы) в виде дроби от всего множества.



- 6) Выразите пятиугольников(ка) в виде дроби от всего множества.




- 8) Выразите звезд(ы) в виде дроби от всего множества.




- 10) Выразите звезд(ы) в виде дроби от всего множества.



- 1) Выразите луны в виде дроби от всего множества.



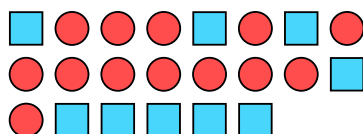
- 3) Выразите треугольников(ка) в виде дроби от всего множества.



- 5) Выразите звезд(ы) в виде дроби от всего множества.



- 7) Выразите кругов(га) в виде дроби от всего множества.



- 9) Выразите треугольников(ка) в виде дроби от всего множества.



- 11) Выразите звезд(ы) в виде дроби от всего множества.

**Ответы**

об.  $\frac{5}{15}$

1.  $\frac{14}{27}$

2.  $\frac{11}{18}$

3.  $\frac{14}{29}$

4.  $\frac{8}{11}$

5.  $\frac{2}{5}$

6.  $\frac{4}{9}$

7.  $\frac{13}{22}$

8.  $\frac{15}{22}$

9.  $\frac{10}{18}$

10.  $\frac{2}{6}$

11.  $\frac{2}{13}$