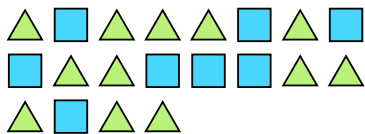





Решите каждую задачу.

- об) Выразите треугольников(ка) в виде дроби от всего множества.



- 1) Выразите звезд(ы) в виде дроби от всего множества.



- 2) Выразите луны в виде дроби от всего множества.




- 3) Выразите луны в виде дроби от всего множества.



- 4) Выразите звезд(ы) в виде дроби от всего множества.



- 5) Выразите треугольников(ка) в виде дроби от всего множества.




- 6) Выразите сердца в виде дроби от всего множества.



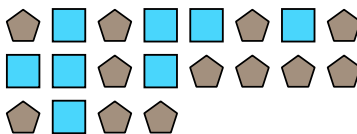
- 7) Выразите сердца в виде дроби от всего множества.



- 8) Выразите сердца в виде дроби от всего множества.




- 9) Выразите квадратов(та) в виде дроби от всего множества.



- 10) Выразите сердца в виде дроби от всего множества.



- 11) Выразите квадратов(та) в виде дроби от всего множества.

**Отвeты**об.  $\frac{12}{20}$ 

1. \_\_\_\_\_

2. \_\_\_\_\_

3. \_\_\_\_\_

4. \_\_\_\_\_

5. \_\_\_\_\_

6. \_\_\_\_\_

7. \_\_\_\_\_

8. \_\_\_\_\_

9. \_\_\_\_\_

10. \_\_\_\_\_

11. \_\_\_\_\_

