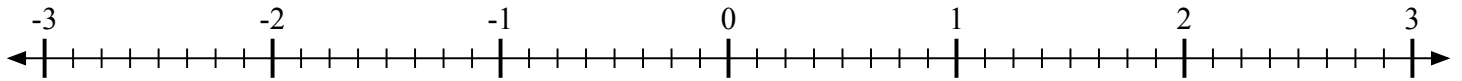





Отметьте каждое местоположение.

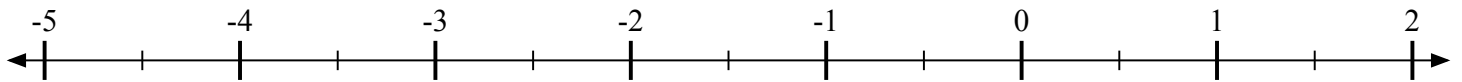
- 1) Отметьте положение
- $-2\frac{6}{8}$



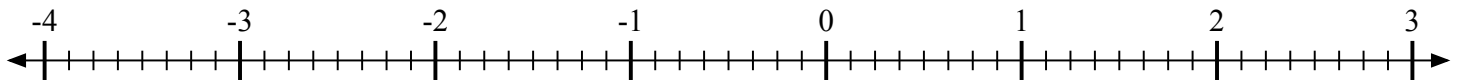
- 2) Отметьте положение
- $-1\frac{2}{3}$



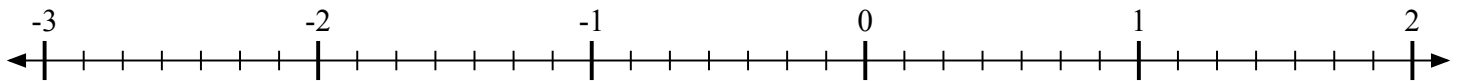
- 3) Отметьте положение
- $1\frac{1}{2}$



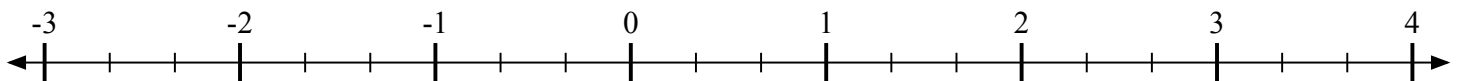
- 4) Отметьте положение
- $-3\frac{6}{8}$



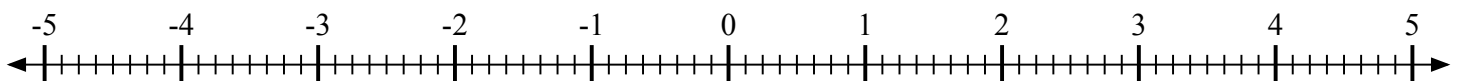
- 5) Отметьте положение
- $1\frac{5}{7}$



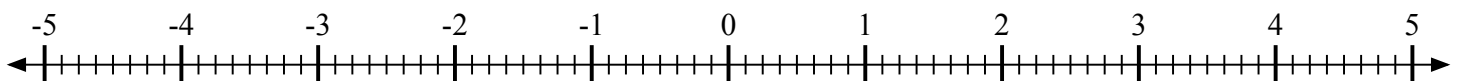
- 6) Отметьте положение
- $2\frac{2}{3}$



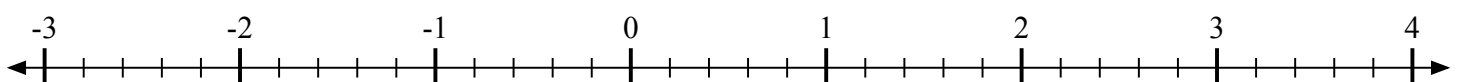
- 7) Отметьте положение
- $2\frac{3}{8}$



- 8) Отметьте положение
- $-2\frac{5}{8}$



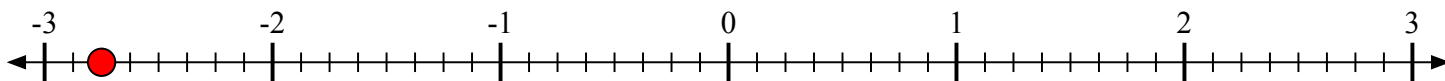
- 9) Отметьте положение
- $-2\frac{1}{5}$



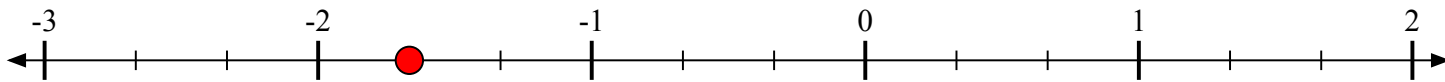


Отметьте каждое местоположение.

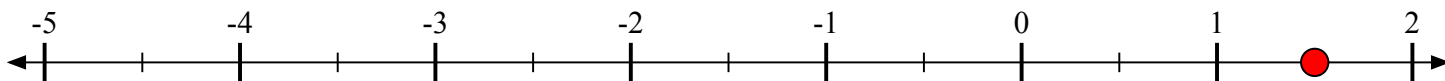
- 1) Отметьте положение
- $-2\frac{6}{8}$



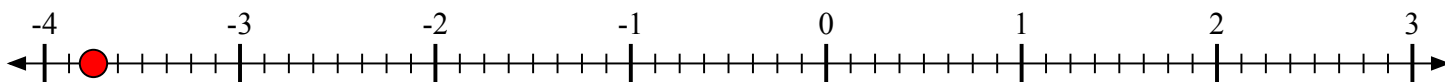
- 2) Отметьте положение
- $-1\frac{2}{3}$



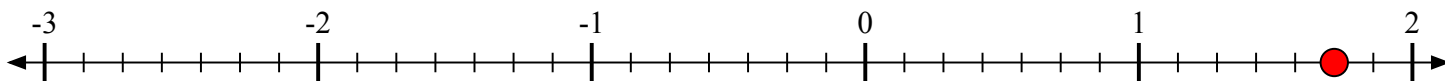
- 3) Отметьте положение
- $1\frac{1}{2}$



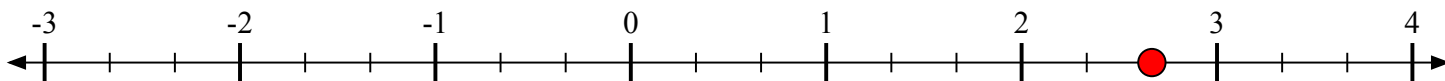
- 4) Отметьте положение
- $-3\frac{6}{8}$



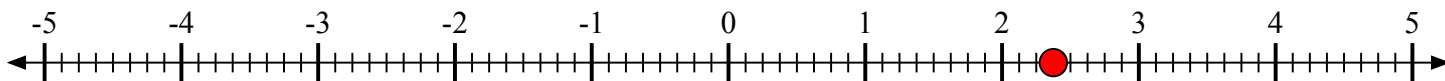
- 5) Отметьте положение
- $1\frac{5}{7}$



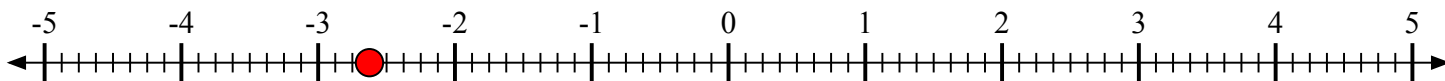
- 6) Отметьте положение
- $2\frac{2}{3}$



- 7) Отметьте положение
- $2\frac{3}{8}$



- 8) Отметьте положение
- $-2\frac{5}{8}$



- 9) Отметьте положение
- $-2\frac{1}{5}$

