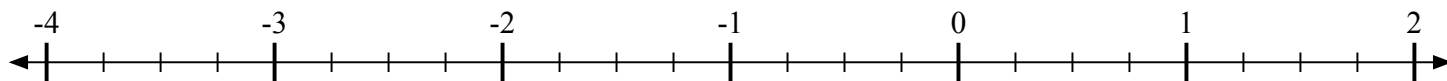


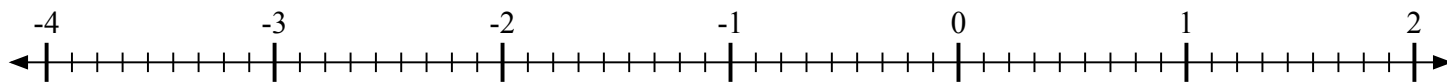


Отметьте каждое местоположение.

- 1) Отметьте положение
- $-1\frac{2}{4}$



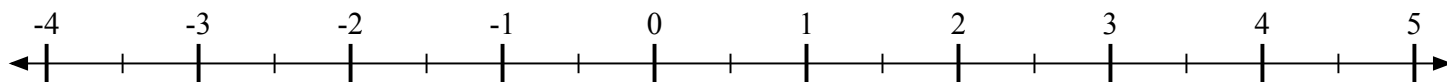
- 2) Отметьте положение
- $\frac{2}{9}$



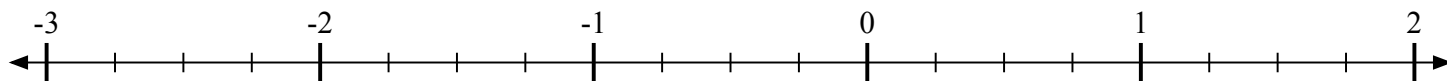
- 3) Отметьте положение
- $\frac{1}{2}$



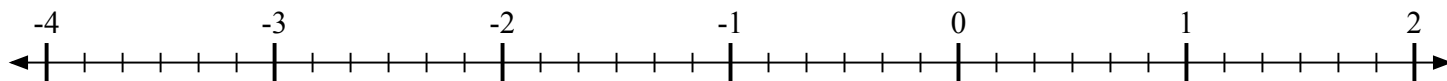
- 4) Отметьте положение
- $3\frac{1}{2}$



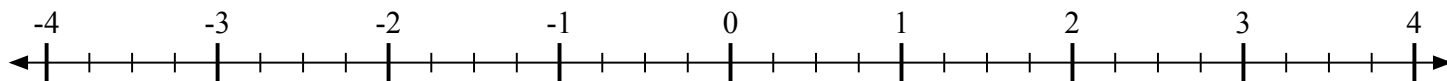
- 5) Отметьте положение
- $-1\frac{2}{4}$



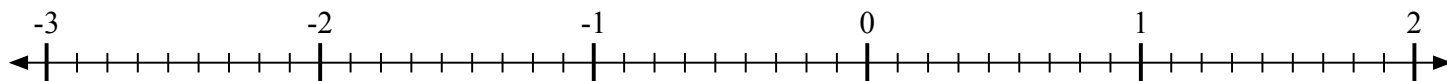
- 6) Отметьте положение
- $-3\frac{2}{6}$



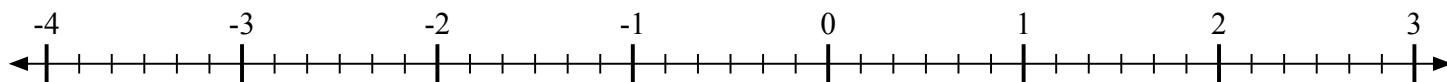
- 7) Отметьте положение
- $-2\frac{2}{4}$



- 8) Отметьте положение
- $\frac{8}{9}$



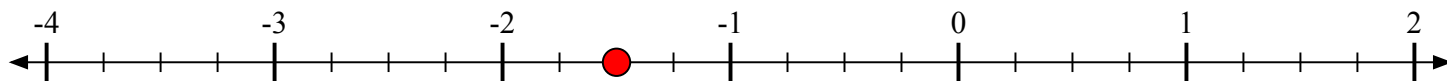
- 9) Отметьте положение
- $-2\frac{3}{6}$



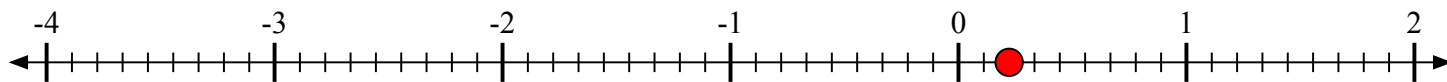


Отметьте каждое местоположение.

- 1) Отметьте положение
- $-1\frac{2}{4}$



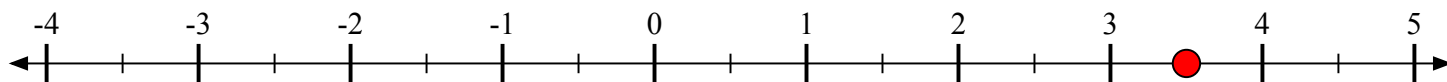
- 2) Отметьте положение
- $\frac{2}{9}$



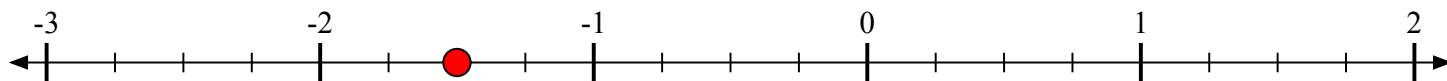
- 3) Отметьте положение
- $\frac{1}{2}$



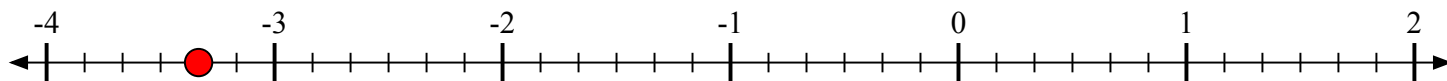
- 4) Отметьте положение
- $3\frac{1}{2}$



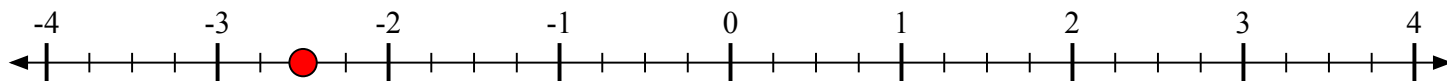
- 5) Отметьте положение
- $-1\frac{2}{4}$



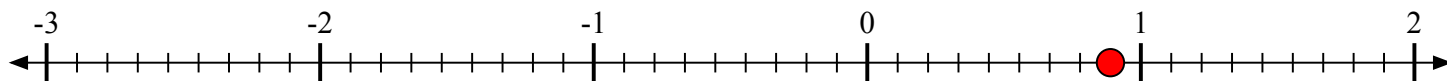
- 6) Отметьте положение
- $-3\frac{2}{6}$



- 7) Отметьте положение
- $-2\frac{2}{4}$



- 8) Отметьте положение
- $\frac{8}{9}$



- 9) Отметьте положение
- $-2\frac{3}{6}$

