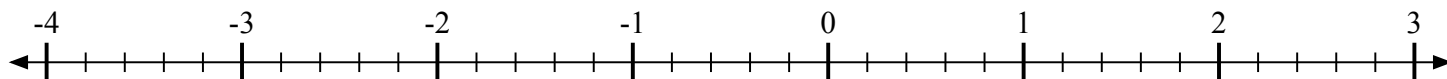


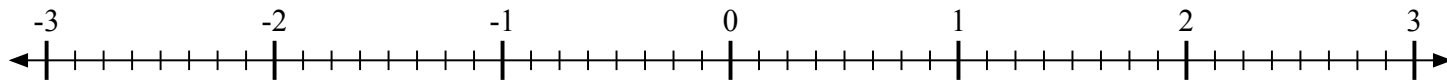


Отметьте каждое местоположение.

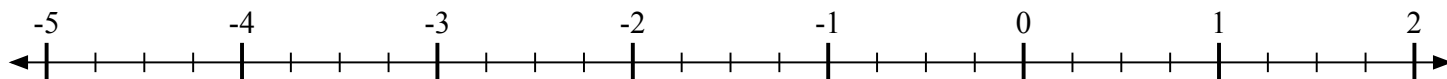
- 1) Отметьте положение
- $-3\frac{4}{5}$



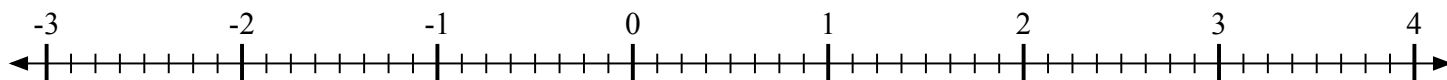
- 2) Отметьте положение
- $2\frac{6}{8}$



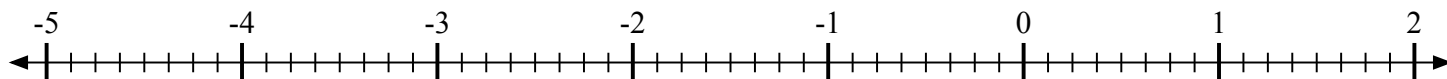
- 3) Отметьте положение
- $-4\frac{2}{4}$



- 4) Отметьте положение
- $1\frac{5}{8}$



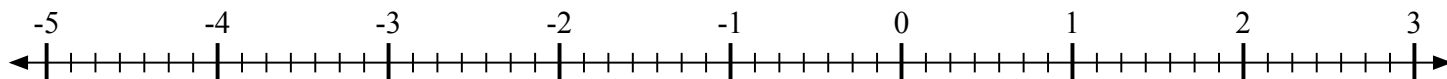
- 5) Отметьте положение
- $-2\frac{6}{8}$



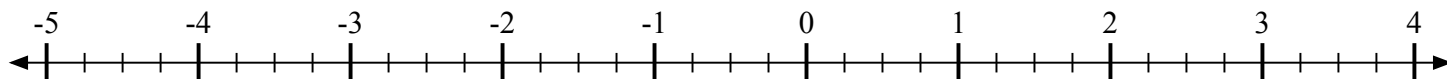
- 6) Отметьте положение
- $-1\frac{1}{3}$



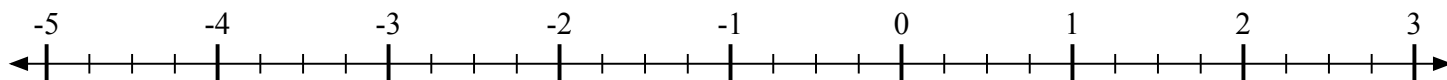
- 7) Отметьте положение
- $-3\frac{2}{7}$



- 8) Отметьте положение
- $3\frac{1}{4}$

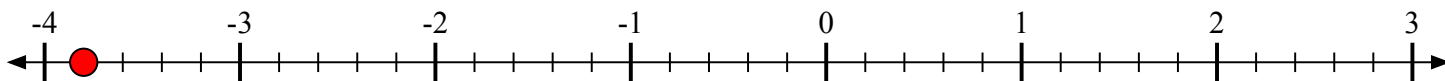
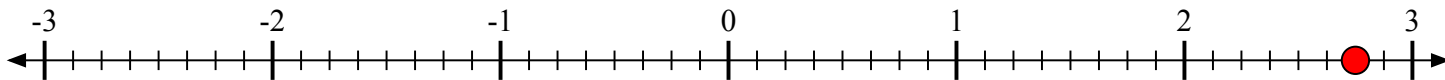
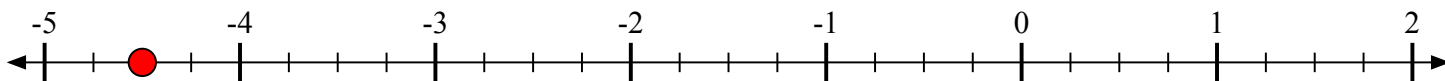
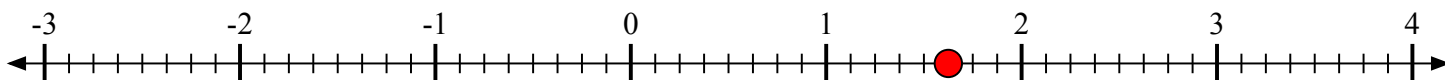
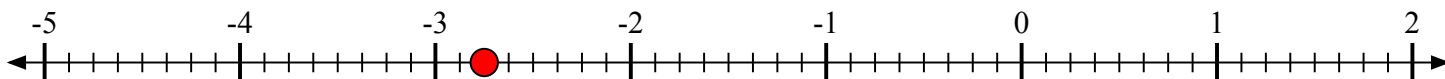
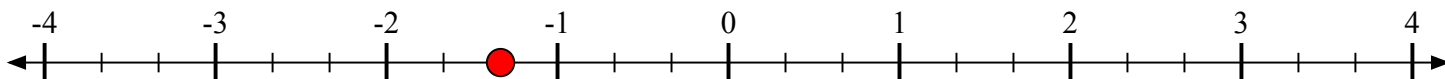
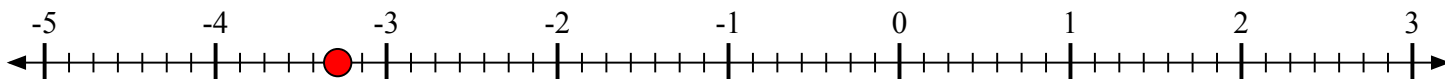
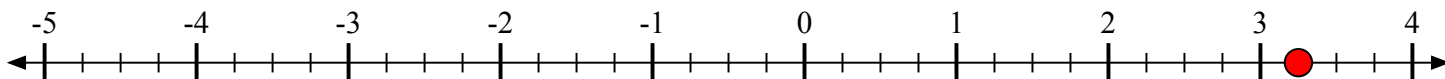


- 9) Отметьте положение
- $-3\frac{3}{4}$





Отметьте каждое местоположение.

1) Отметьте положение $-3\frac{4}{5}$ 2) Отметьте положение $2\frac{6}{8}$ 3) Отметьте положение $-4\frac{2}{4}$ 4) Отметьте положение $1\frac{5}{8}$ 5) Отметьте положение $-2\frac{6}{8}$ 6) Отметьте положение $-1\frac{1}{3}$ 7) Отметьте положение $-3\frac{2}{7}$ 8) Отметьте положение $3\frac{1}{4}$ 9) Отметьте положение $-3\frac{3}{4}$ 