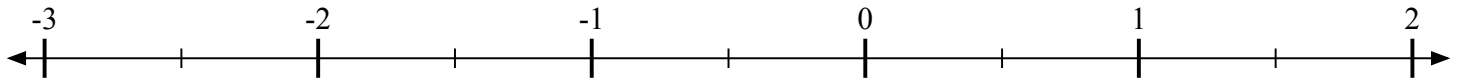
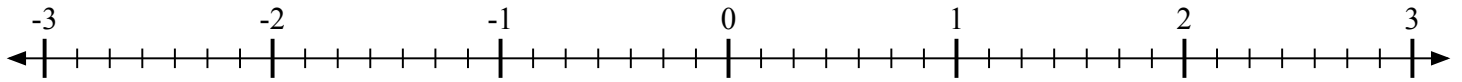
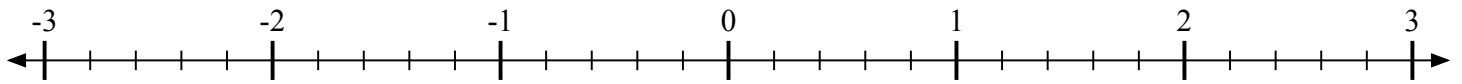
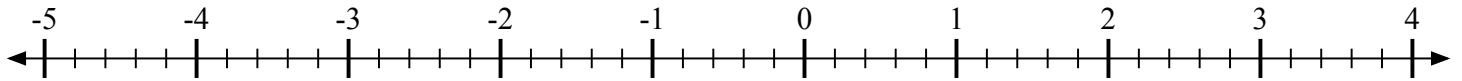
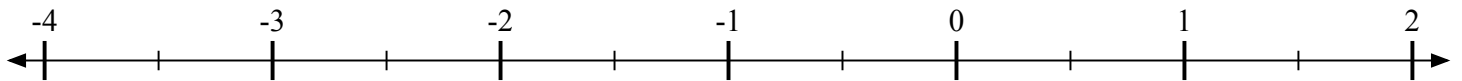
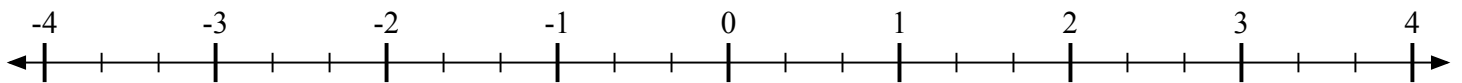
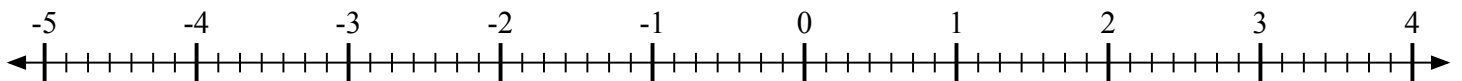
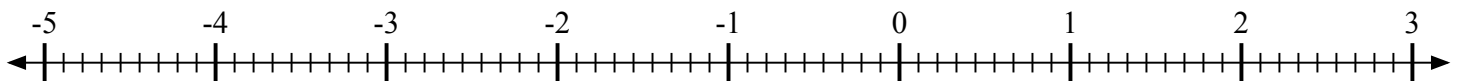
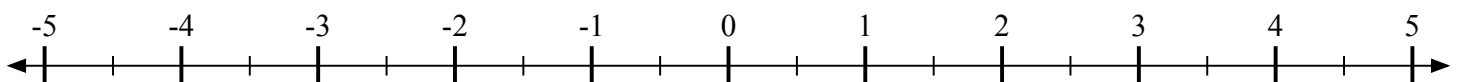


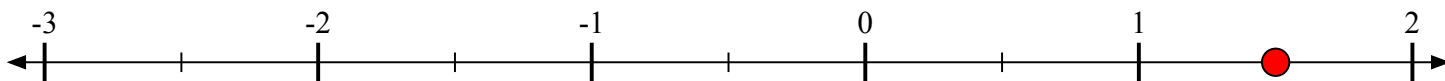
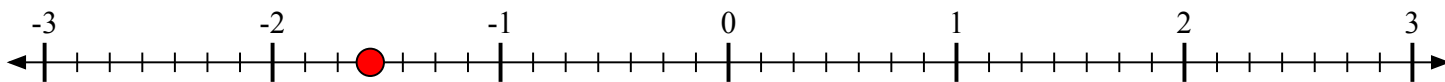
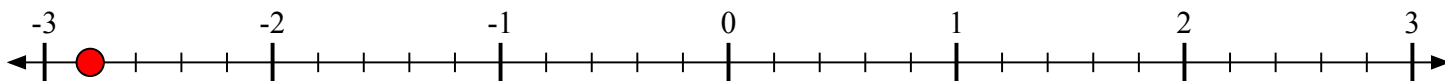
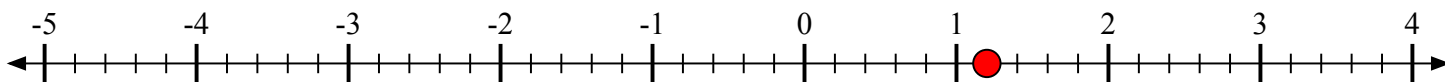
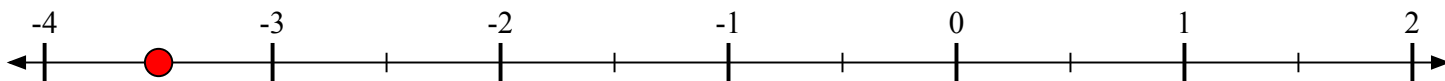
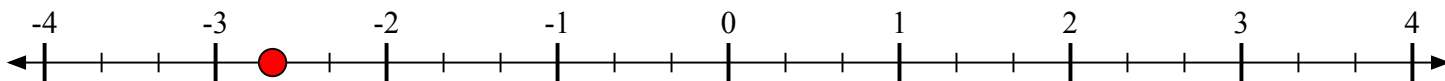
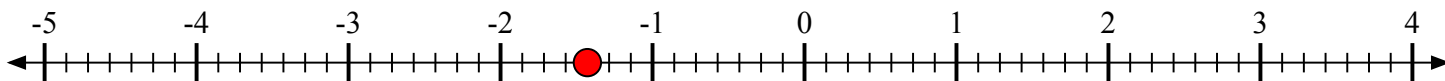
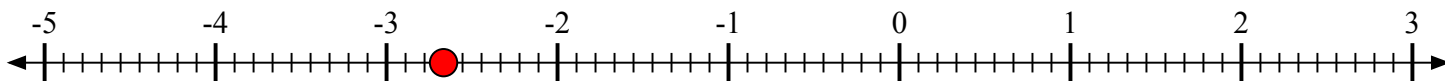


Отметьте каждое местоположение.

1) Отметьте положение $1\frac{1}{2}$ 2) Отметьте положение $-1\frac{4}{7}$ 3) Отметьте положение $-2\frac{4}{5}$ 4) Отметьте положение $1\frac{1}{5}$ 5) Отметьте положение $-3\frac{1}{2}$ 6) Отметьте положение $-2\frac{2}{3}$ 7) Отметьте положение $-1\frac{3}{7}$ 8) Отметьте положение $-2\frac{6}{9}$ 9) Отметьте положение $2\frac{1}{2}$ 



Отметьте каждое местоположение.

1) Отметьте положение $1\frac{1}{2}$ 2) Отметьте положение $-1\frac{4}{7}$ 3) Отметьте положение $-2\frac{4}{5}$ 4) Отметьте положение $1\frac{1}{5}$ 5) Отметьте положение $-3\frac{1}{2}$ 6) Отметьте положение $-2\frac{2}{3}$ 7) Отметьте положение $-1\frac{3}{7}$ 8) Отметьте положение $-2\frac{6}{9}$ 9) Отметьте положение $2\frac{1}{2}$ 