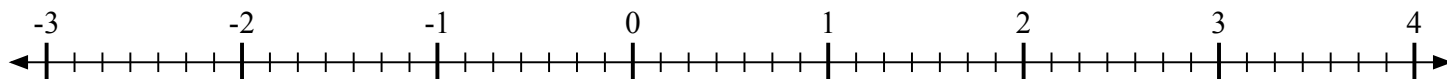
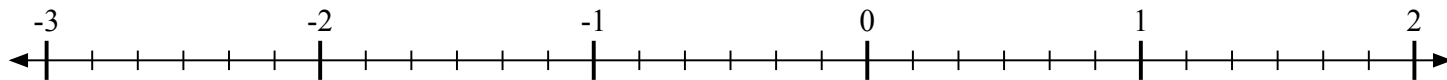
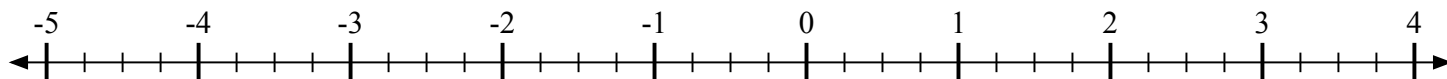
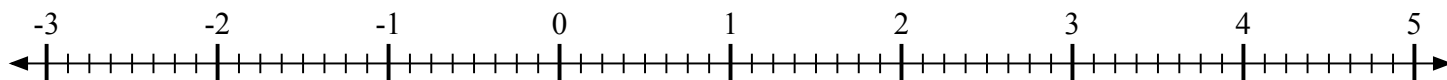
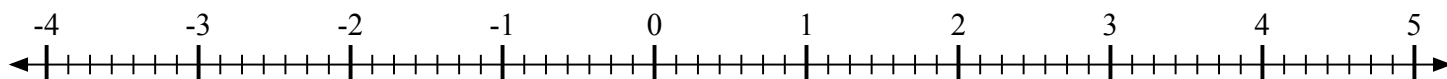
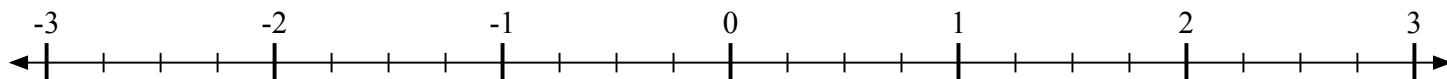
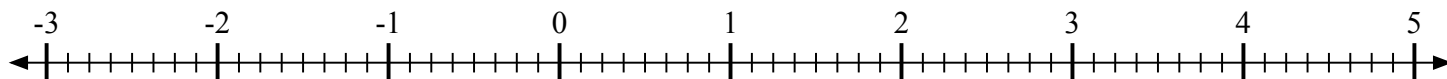
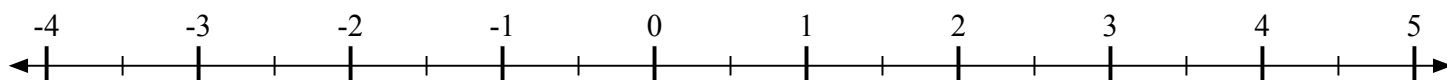


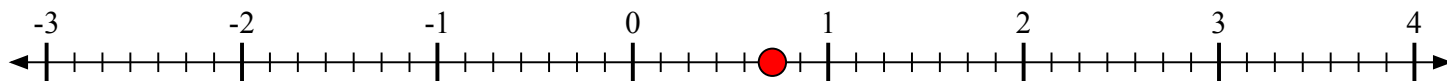
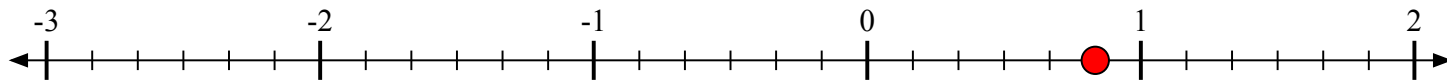
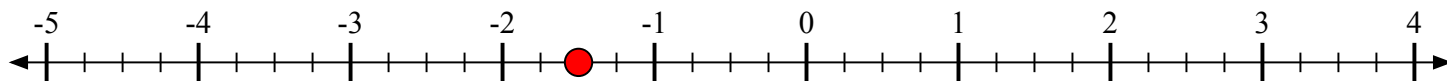
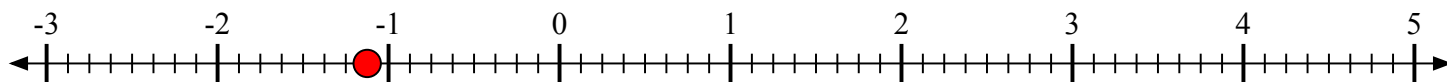
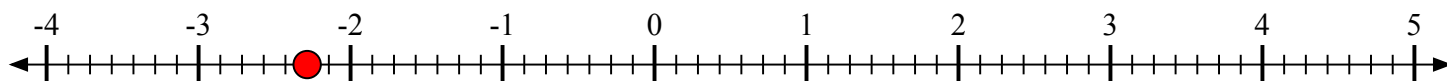
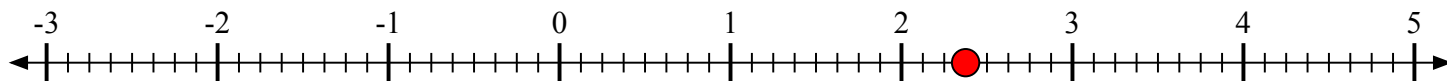


Отметьте каждое местоположение.

1) Отметьте положение $\frac{5}{7}$ 2) Отметьте положение $\frac{5}{6}$ 3) Отметьте положение $-1\frac{2}{4}$ 4) Отметьте положение $-1\frac{1}{8}$ 5) Отметьте положение $1\frac{1}{4}$ 6) Отметьте положение $-2\frac{2}{7}$ 7) Отметьте положение $1\frac{1}{4}$ 8) Отметьте положение $2\frac{3}{8}$ 9) Отметьте положение $\frac{1}{2}$ 



Отметьте каждое местоположение.

1) Отметьте положение $\frac{5}{7}$ 2) Отметьте положение $\frac{5}{6}$ 3) Отметьте положение $-1\frac{2}{4}$ 4) Отметьте положение $-1\frac{1}{8}$ 5) Отметьте положение $1\frac{1}{4}$ 6) Отметьте положение $-2\frac{2}{7}$ 7) Отметьте положение $1\frac{1}{4}$ 8) Отметьте положение $2\frac{3}{8}$ 9) Отметьте положение $\frac{1}{2}$ 