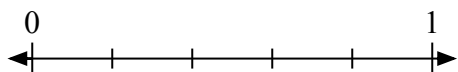


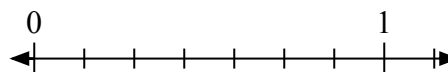


Решите каждую задачу.

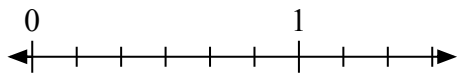
- 1) Запишите
- $\frac{2}{5}$
- целым числом.



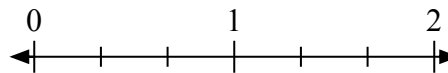
- 2) Запишите
- $\frac{1}{7}$
- целым числом.



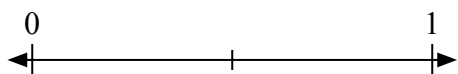
- 3) Запишите
- $\frac{1}{6}$
- целым числом.



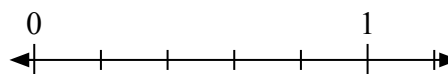
- 4) Запишите
- $\frac{2}{3}$
- целым числом.



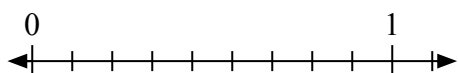
- 5) Запишите
- $\frac{1}{2}$
- целым числом.



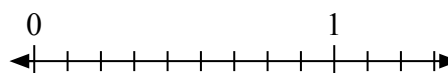
- 6) Запишите
- $\frac{0}{5}$
- целым числом.



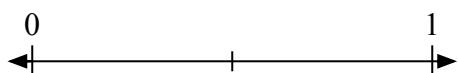
- 7) Запишите
- $\frac{0}{9}$
- целым числом.



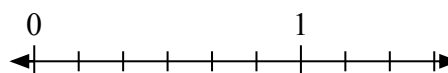
- 8) Запишите
- $\frac{5}{9}$
- целым числом.



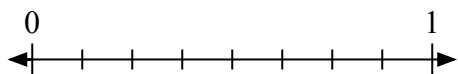
- 9) Запишите
- $\frac{0}{2}$
- целым числом.



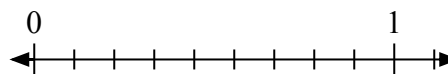
- 10) Запишите
- $\frac{3}{6}$
- целым числом.



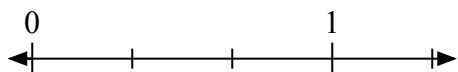
- 11) Запишите
- $\frac{4}{8}$
- целым числом.



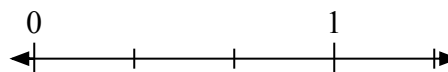
- 12) Запишите
- $\frac{3}{9}$
- целым числом.



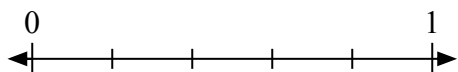
- 13) Запишите
- $\frac{3}{3}$
- целым числом.



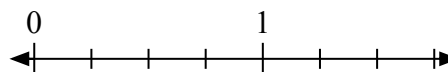
- 14) Запишите
- $\frac{1}{3}$
- целым числом.



- 15) Запишите
- $\frac{1}{5}$
- целым числом.

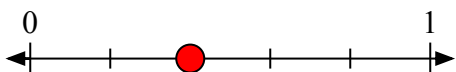
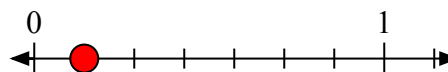
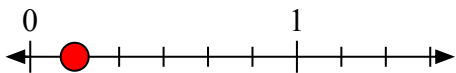
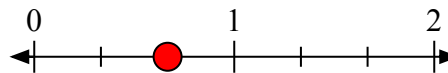
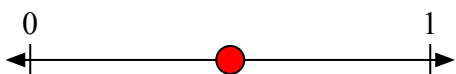
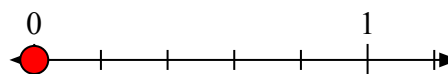
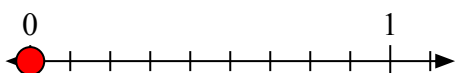
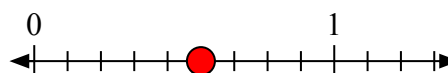
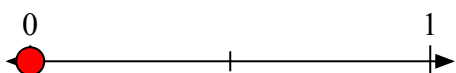
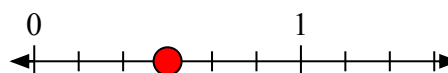
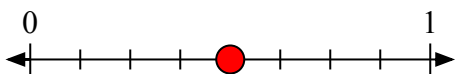
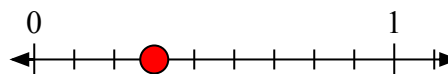
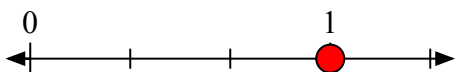
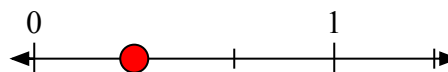



- 16) Запишите
- $\frac{4}{4}$
- целым числом.





Решите каждую задачу.

1) Запишите $\frac{2}{5}$ целым числом.2) Запишите $\frac{1}{7}$ целым числом.3) Запишите $\frac{1}{6}$ целым числом.4) Запишите $\frac{2}{3}$ целым числом.5) Запишите $\frac{1}{2}$ целым числом.6) Запишите $\frac{0}{5}$ целым числом.7) Запишите $\frac{0}{9}$ целым числом.8) Запишите $\frac{5}{9}$ целым числом.9) Запишите $\frac{0}{2}$ целым числом.10) Запишите $\frac{3}{6}$ целым числом.11) Запишите $\frac{4}{8}$ целым числом.12) Запишите $\frac{3}{9}$ целым числом.13) Запишите $\frac{3}{3}$ целым числом.14) Запишите $\frac{1}{3}$ целым числом.15) Запишите $\frac{1}{5}$ целым числом.16) Запишите $\frac{4}{4}$ целым числом.