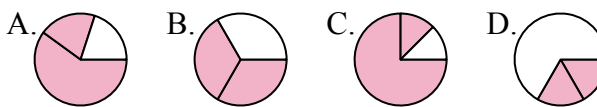




Определите под какой буквой находятся соответствующие дроби.

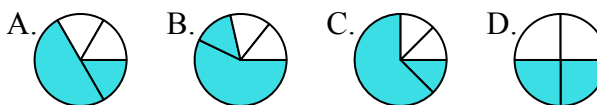
ОТВЕТЫ

1) Под каким вариантом правильно определен $\frac{2}{3}$?



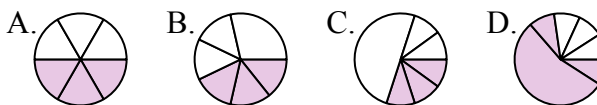
1. _____

2) Под каким вариантом правильно определен $\frac{2}{4}$?



2. _____

3) Под каким вариантом правильно определен $\frac{3}{6}$?



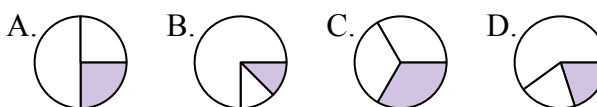
3. _____

4) Под каким вариантом правильно определен $\frac{6}{8}$?



4. _____

5) Под каким вариантом правильно определен $\frac{1}{3}$?



5. _____

6) Под каким вариантом правильно определен $\frac{3}{4}$?



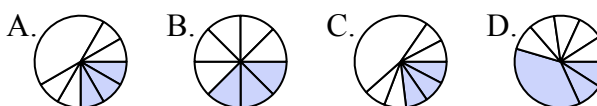
6. _____

7) Под каким вариантом правильно определен $\frac{2}{6}$?



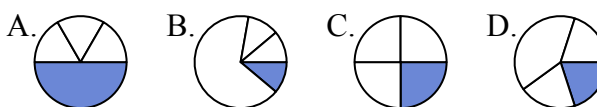
7. _____

8) Под каким вариантом правильно определен $\frac{3}{8}$?



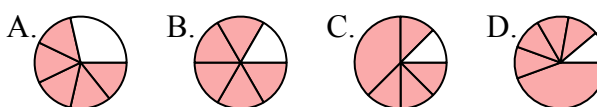
8. _____

9) Под каким вариантом правильно определен $\frac{1}{4}$?



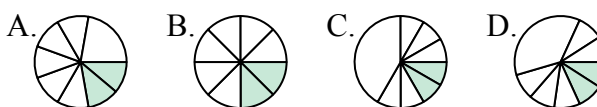
9. _____

10) Под каким вариантом правильно определен $\frac{5}{6}$?



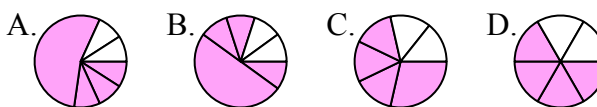
10. _____

11) Под каким вариантом правильно определен $\frac{2}{8}$?



11. _____

12) Под каким вариантом правильно определен $\frac{4}{6}$?



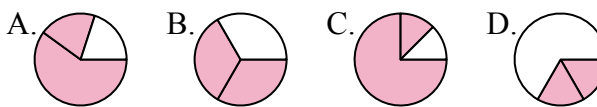
12. _____



Определите под какой буквой находятся соответствующие дроби.

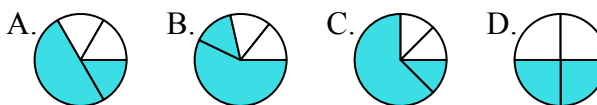
ОТВЕТЫ

1) Под каким вариантом правильно определен $\frac{2}{3}$?



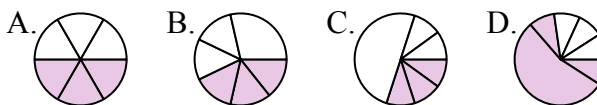
1. В

2) Под каким вариантом правильно определен $\frac{2}{4}$?



2. Д

3) Под каким вариантом правильно определен $\frac{3}{6}$?



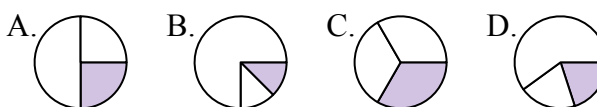
3. А

4) Под каким вариантом правильно определен $\frac{6}{8}$?



4. А

5) Под каким вариантом правильно определен $\frac{1}{3}$?



5. С

6) Под каким вариантом правильно определен $\frac{3}{4}$?



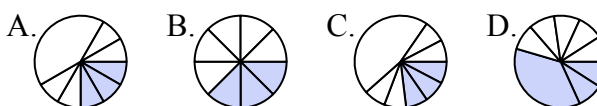
6. В

7) Под каким вариантом правильно определен $\frac{2}{6}$?



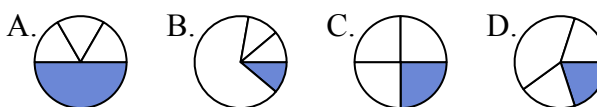
7. Д

8) Под каким вариантом правильно определен $\frac{3}{8}$?



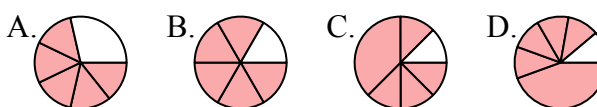
8. В

9) Под каким вариантом правильно определен $\frac{1}{4}$?



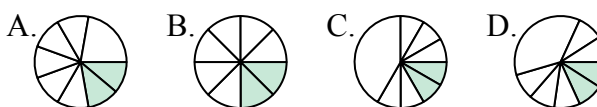
9. С

10) Под каким вариантом правильно определен $\frac{5}{6}$?



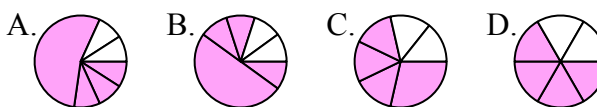
10. В

11) Под каким вариантом правильно определен $\frac{2}{8}$?



11. В

12) Под каким вариантом правильно определен $\frac{4}{6}$?



12. Д