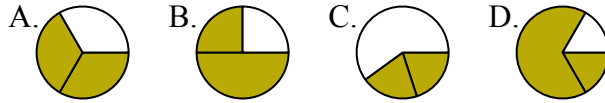




Определите под какой буквой находятся соответствующие дроби.

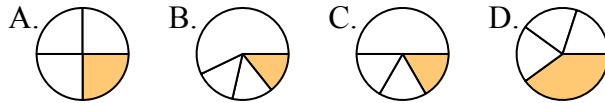
**ОТВЕТЫ**

1) Под каким вариантом правильно определен  $\frac{2}{3}$ ?



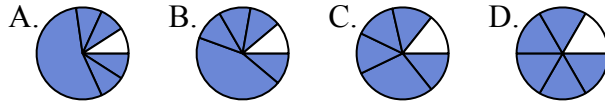
1. \_\_\_\_\_

2) Под каким вариантом правильно определен  $\frac{1}{4}$ ?



2. \_\_\_\_\_

3) Под каким вариантом правильно определен  $\frac{5}{6}$ ?



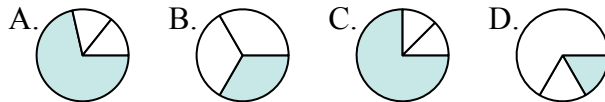
3. \_\_\_\_\_

4) Под каким вариантом правильно определен  $\frac{3}{8}$ ?



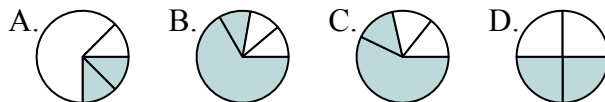
4. \_\_\_\_\_

5) Под каким вариантом правильно определен  $\frac{1}{3}$ ?



5. \_\_\_\_\_

6) Под каким вариантом правильно определен  $\frac{2}{4}$ ?



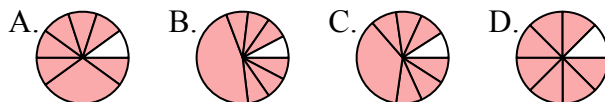
6. \_\_\_\_\_

7) Под каким вариантом правильно определен  $\frac{3}{6}$ ?



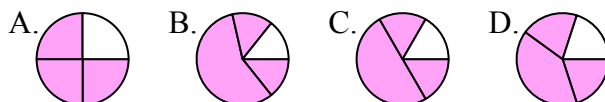
7. \_\_\_\_\_

8) Под каким вариантом правильно определен  $\frac{7}{8}$ ?



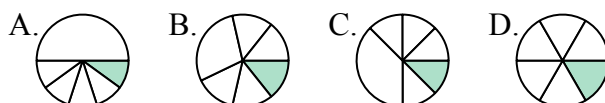
8. \_\_\_\_\_

9) Под каким вариантом правильно определен  $\frac{3}{4}$ ?



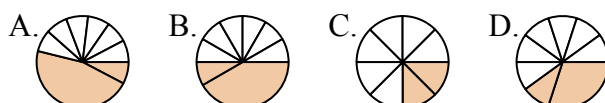
9. \_\_\_\_\_

10) Под каким вариантом правильно определен  $\frac{1}{6}$ ?



10. \_\_\_\_\_

11) Под каким вариантом правильно определен  $\frac{2}{8}$ ?



11. \_\_\_\_\_

12) Под каким вариантом правильно определен  $\frac{2}{6}$ ?



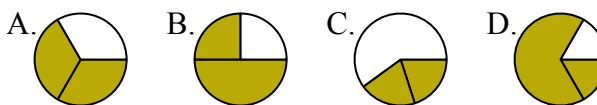
12. \_\_\_\_\_



Определите под какой буквой находятся соответствующие дроби.

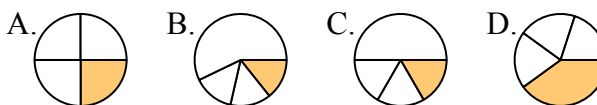
**ОТВЕТЫ**

1) Под каким вариантом правильно определен  $\frac{2}{3}$ ?



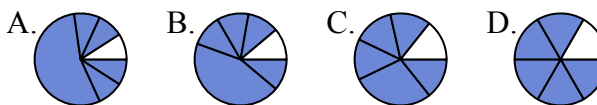
1.   **A**  

2) Под каким вариантом правильно определен  $\frac{1}{4}$ ?



2.   **A**  

3) Под каким вариантом правильно определен  $\frac{5}{6}$ ?



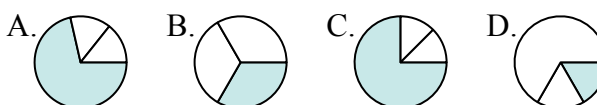
3.   **D**  

4) Под каким вариантом правильно определен  $\frac{3}{8}$ ?



4.   **D**  

5) Под каким вариантом правильно определен  $\frac{1}{3}$ ?



5.   **B**  

6) Под каким вариантом правильно определен  $\frac{2}{4}$ ?



6.   **D**  

7) Под каким вариантом правильно определен  $\frac{3}{6}$ ?



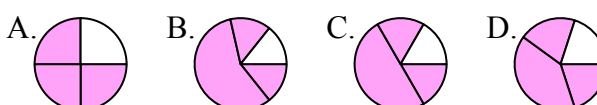
7.   **B**  

8) Под каким вариантом правильно определен  $\frac{7}{8}$ ?



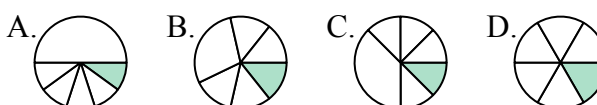
8.   **D**  

9) Под каким вариантом правильно определен  $\frac{3}{4}$ ?



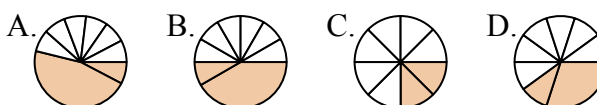
9.   **A**  

10) Под каким вариантом правильно определен  $\frac{1}{6}$ ?



10.   **D**  

11) Под каким вариантом правильно определен  $\frac{2}{8}$ ?



11.   **C**  

12) Под каким вариантом правильно определен  $\frac{2}{6}$ ?



12.   **A**