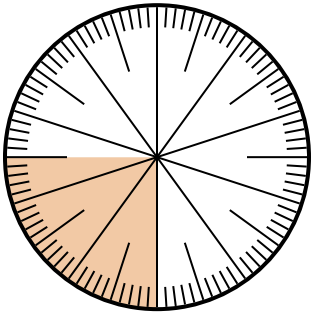




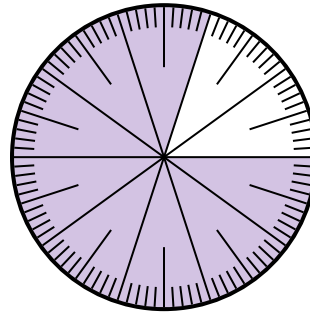
Решите каждую задачу.

- 1) Какой вариант соответствует затененной части числового колеса?



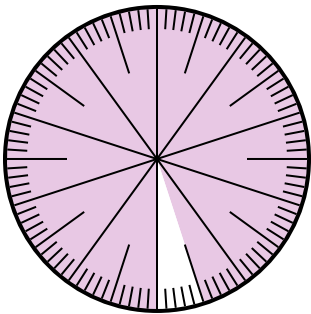
- A.  $\frac{25}{75}$       B.  $\frac{0.25}{100}$   
C.  $\frac{25}{100}$       D. 2,50

- 2) Какой вариант соответствует затененной части числового колеса?



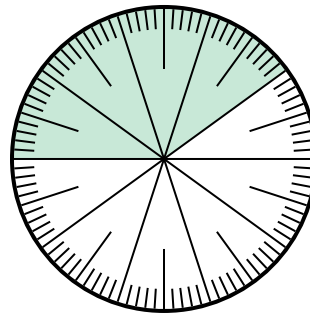
- A.  $\frac{8}{100}$       B. 0,080  
C.  $\frac{0.8}{100}$       D.  $\frac{80}{100}$

- 3) Какой вариант соответствует незатененной части числового колеса?



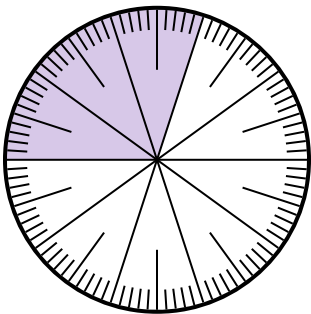
- A.  $\frac{5}{100}$       B. 0.5  
C.  $\frac{95}{5}$       D.  $\frac{5}{95}$

- 4) Какой вариант соответствует незатененной части числового колеса?



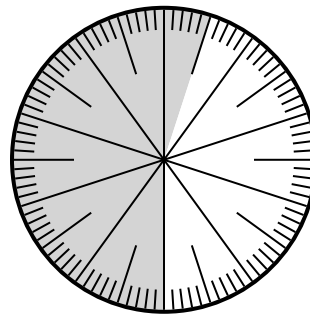
- A.  $\frac{0.6}{100}$       B. 0,60  
C.  $\frac{40}{60}$       D. 6,00

- 5) Какой вариант соответствует затененной части числового колеса?



- A. 3      B. 0,30  
C. 30      D.  $\frac{30}{70}$

- 6) Какой вариант соответствует затененной части числового колеса?



- A.  $\frac{55}{100}$       B. 45  
C. 5.5      D. 45,0

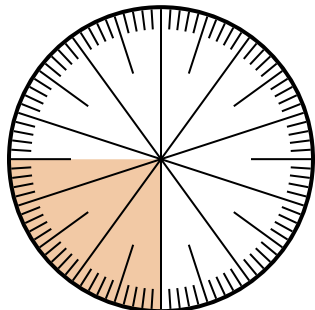
**ОТВЕТЫ**

1. \_\_\_\_\_  
2. \_\_\_\_\_  
3. \_\_\_\_\_  
4. \_\_\_\_\_  
5. \_\_\_\_\_  
6. \_\_\_\_\_



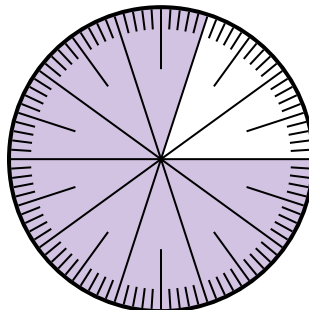
Решите каждую задачу.

1) Какой вариант соответствует затененной части числового колеса?



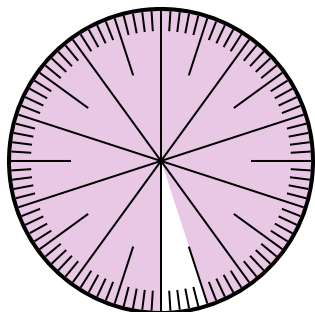
- A.  $\frac{25}{75}$       B.  $\frac{0.25}{100}$   
 C.  $\frac{25}{100}$       D. 2,50

2) Какой вариант соответствует затененной части числового колеса?



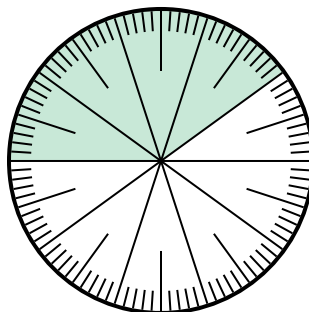
- A.  $\frac{8}{100}$       B. 0,080  
 C.  $\frac{0.8}{100}$       D.  $\frac{80}{100}$

3) Какой вариант соответствует незатененной части числового колеса?



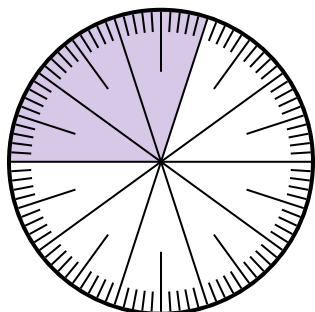
- A.  $\frac{5}{100}$       B. 0.5  
 C.  $\frac{95}{5}$       D.  $\frac{5}{95}$

4) Какой вариант соответствует незатененной части числового колеса?



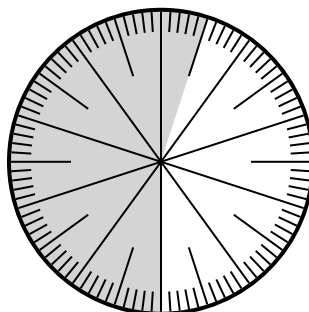
- A.  $\frac{0.6}{100}$       B. 0,60  
 C.  $\frac{40}{60}$       D. 6,00

5) Какой вариант соответствует затененной части числового колеса?



- A. 3      B. 0,30  
 C. 30      D.  $\frac{30}{70}$

6) Какой вариант соответствует затененной части числового колеса?



- A.  $\frac{55}{100}$       B. 45  
 C. 5.5      D. 45,0

**ОТВЕТЫ**

1.   **C**  

2.   **D**  

3.   **A**  

4.   **B**  

5.   **B**  

6.   **A**