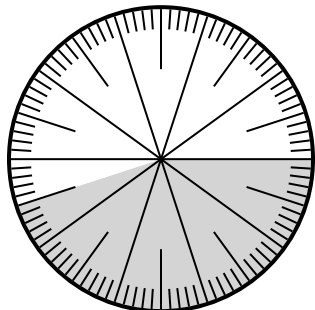




Решите каждую задачу.

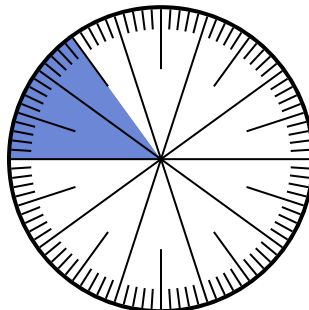
ОТВЕТЫ

1) Какой вариант соответствует незатененной части числового колеса?




- A. $\frac{55}{100}$ B. 5.5
C. 5,50 D. $\frac{0.55}{100}$

2) Какой вариант соответствует незатененной части числового колеса?



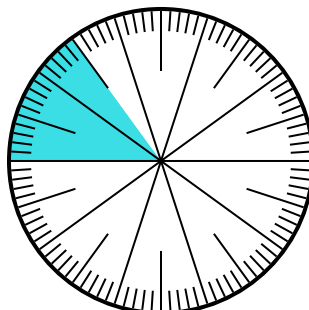
- A. $\frac{15}{85}$ B. 0,85
C. 85 D. $\frac{85}{15}$

3) Какой вариант соответствует затененной части числового колеса?



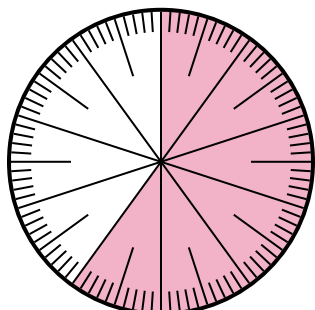
- A. $\frac{0.1}{100}$ B. 0,0010
C. 0,1 D. 1,00

4) Какой вариант соответствует затененной части числового колеса?



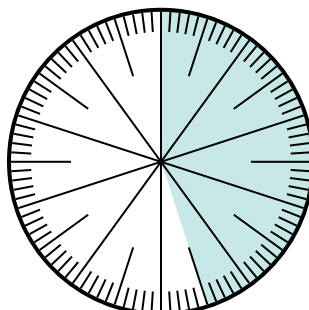
- A. 8,50 B. 0,015
C. 0,15 D. 15

5) Какой вариант соответствует затененной части числового колеса?



- A. $\frac{60}{100}$ B. 6,00
C. 0,0060 D. 60,0

6) Какой вариант соответствует затененной части числового колеса?



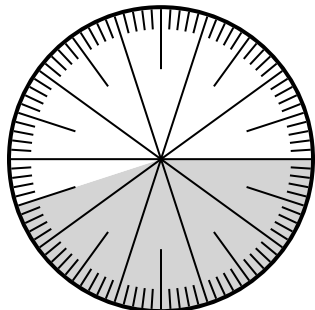
- A. $\frac{4.5}{100}$ B. $\frac{0.45}{100}$
C. $\frac{45}{100}$ D. $\frac{45}{55}$

1. _____
2. _____
3. _____
4. _____
5. _____
6. _____



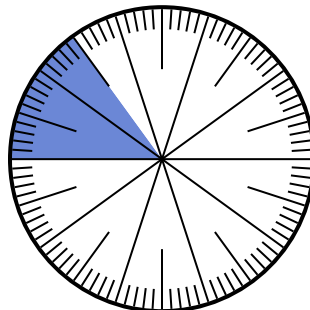
Решите каждую задачу.

1) Какой вариант соответствует незатененной части числового колеса?



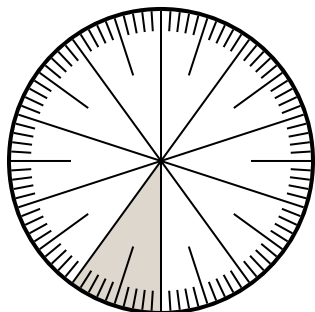
- A. $\frac{55}{100}$ B. 5.5
C. 5,50 D. $\frac{0.55}{100}$

2) Какой вариант соответствует незатененной части числового колеса?



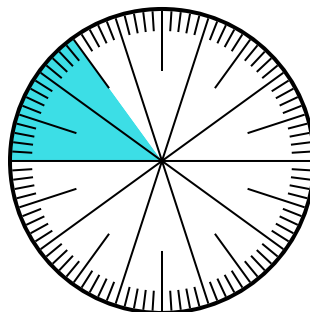
- A. $\frac{15}{85}$ B. 0,85
C. 85 D. $\frac{85}{15}$

3) Какой вариант соответствует затененной части числового колеса?



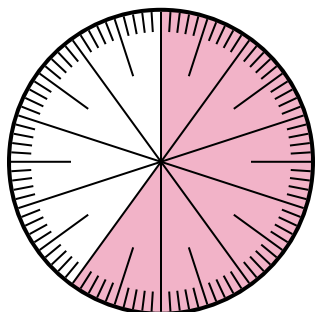
- A. $\frac{0.1}{100}$ B. 0,0010
C. 0,1 D. 1,00

4) Какой вариант соответствует затененной части числового колеса?



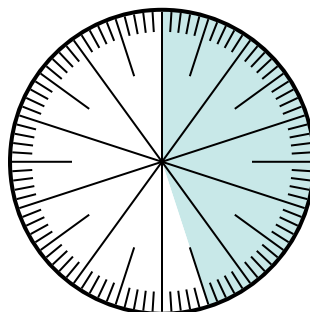
- A. 8,50 B. 0,015
C. 0,15 D. 15

5) Какой вариант соответствует затененной части числового колеса?



- A. $\frac{60}{100}$ B. 6,00
C. 0,0060 D. 60,0

6) Какой вариант соответствует затененной части числового колеса?



- A. $\frac{4.5}{100}$ B. $\frac{0.45}{100}$
C. $\frac{45}{100}$ D. $\frac{45}{55}$

ОТВЕТЫ

1. **A**

2. **B**

3. **C**

4. **C**

5. **A**

6. **C**