




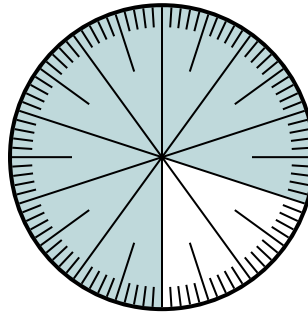
Решите каждую задачу.

- 1) Какой вариант соответствует затененной части числового колеса?



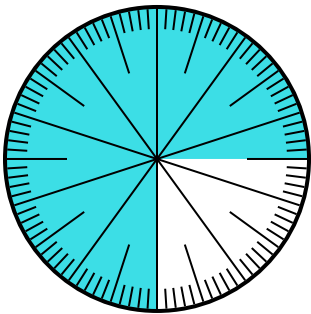
- A. 0,85                      B. 8.5  
C. 85                          D. 0,085

- 2) Какой вариант соответствует незатененной части числового колеса?



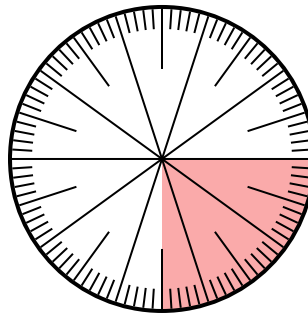
- A.  $\frac{2}{100}$                       B.  $\frac{20}{100}$   
C.  $\frac{2,00}{100}$                   D.  $\frac{80}{20}$

- 3) Какой вариант соответствует незатененной части числового колеса?



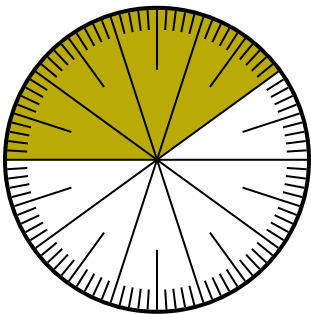
- A. 0,025                      B. 0,25  
C. 0,0075                      D. 2,50

- 4) Какой вариант соответствует затененной части числового колеса?



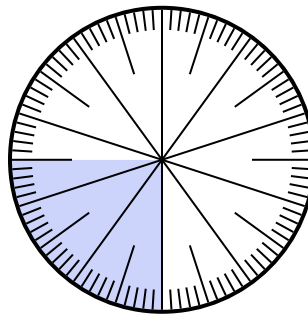
- A.  $\frac{0,25}{100}$                       B.  $\frac{25}{100}$   
C. 0,025                      D. 25

- 5) Какой вариант соответствует затененной части числового колеса?



- A.  $\frac{40}{60}$                       B.  $\frac{60}{40}$   
C.  $\frac{40}{100}$                       D.  $\frac{4}{100}$

- 6) Какой вариант соответствует затененной части числового колеса?



- A. 0,0075                      B.  $\frac{2,50}{100}$   
C. 0,025                      D. 0,25

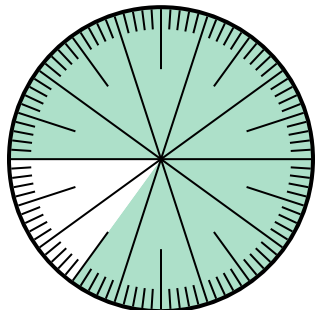
**ОТВЕТЫ**

1. \_\_\_\_\_  
2. \_\_\_\_\_  
3. \_\_\_\_\_  
4. \_\_\_\_\_  
5. \_\_\_\_\_  
6. \_\_\_\_\_



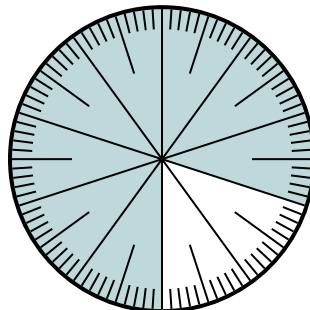
Решите каждую задачу.

1) Какой вариант соответствует затененной части числового колеса?



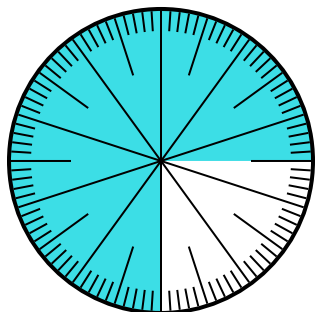
- A. 0,85      B. 8.5  
C. 85      D. 0,085

2) Какой вариант соответствует незатененной части числового колеса?



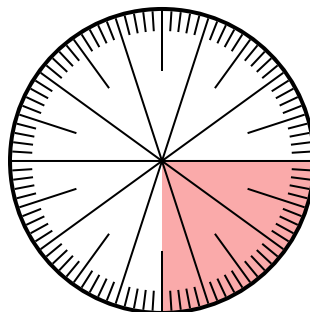
- A.  $\frac{2}{100}$       B.  $\frac{20}{100}$   
C.  $\frac{2,00}{100}$       D.  $\frac{80}{20}$

3) Какой вариант соответствует незатененной части числового колеса?



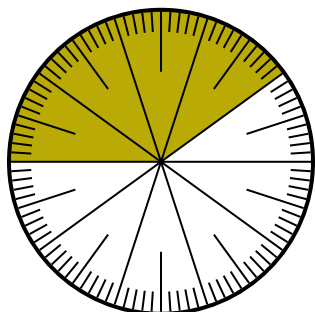
- A. 0,025      B. 0,25  
C. 0,0075      D. 2,50

4) Какой вариант соответствует затененной части числового колеса?



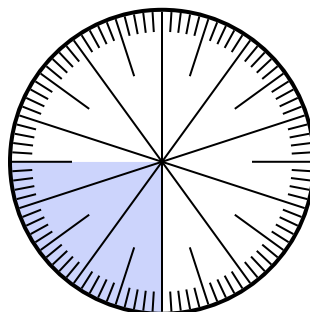
- A.  $\frac{0,25}{100}$       B.  $\frac{25}{100}$   
C. 0,025      D. 25

5) Какой вариант соответствует затененной части числового колеса?



- A.  $\frac{40}{60}$       B.  $\frac{60}{40}$   
C.  $\frac{40}{100}$       D.  $\frac{4}{100}$

6) Какой вариант соответствует затененной части числового колеса?



- A. 0,0075      B.  $\frac{2,50}{100}$   
C. 0,025      D. 0,25

**ОТВЕТЫ**

1.   **A**  

2.   **B**  

3.   **B**  

4.   **B**  

5.   **C**  

6.   **D**