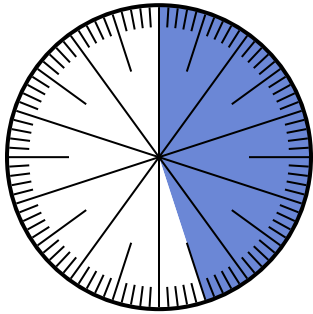




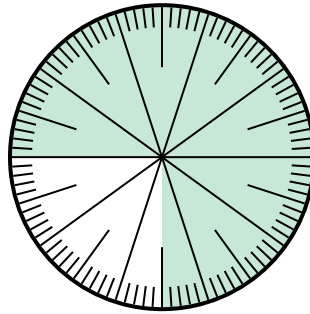
Решите каждую задачу.

1) Какой вариант соответствует затененной части числового колеса?



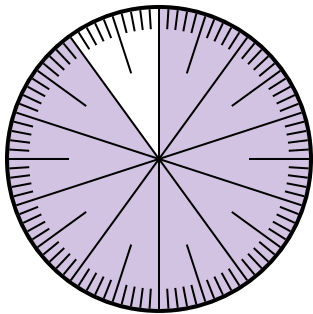
- A.  $\frac{45}{100}$       B.  $\frac{55}{45}$   
 C.  $\frac{45}{55}$       D.  $\frac{4.5}{100}$

2) Какой вариант соответствует затененной части числового колеса?



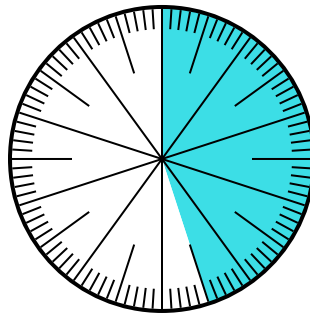
- A.  $\frac{0.75}{100}$       B. 0,75  
 C.  $\frac{7,50}{100}$       D.  $\frac{7.5}{100}$

3) Какой вариант соответствует затененной части числового колеса?



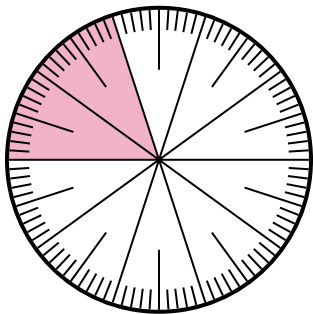
- A. 90      B. 0,090  
 C.  $\frac{90}{100}$       D.  $\frac{9}{100}$

4) Какой вариант соответствует незатененной части числового колеса?



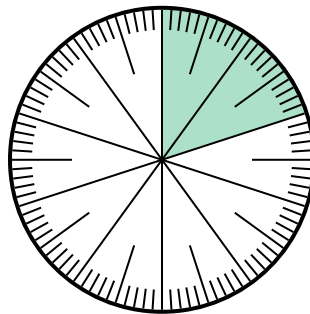
- A. 5.5      B. 55  
 C.  $\frac{5.5}{100}$       D.  $\frac{55}{100}$

5) Какой вариант соответствует незатененной части числового колеса?



- A.  $\frac{20}{80}$       B. 0,80  
 C.  $\frac{8}{100}$       D. 8

6) Какой вариант соответствует незатененной части числового колеса?



- A. 80      B. 8  
 C.  $\frac{0.8}{100}$       D.  $\frac{80}{100}$

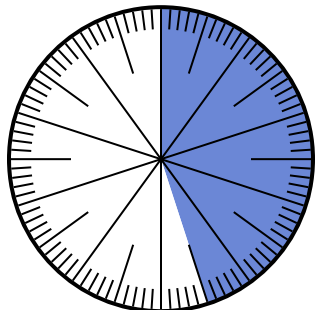
**ОТВЕТЫ**

1. \_\_\_\_\_  
 2. \_\_\_\_\_  
 3. \_\_\_\_\_  
 4. \_\_\_\_\_  
 5. \_\_\_\_\_  
 6. \_\_\_\_\_



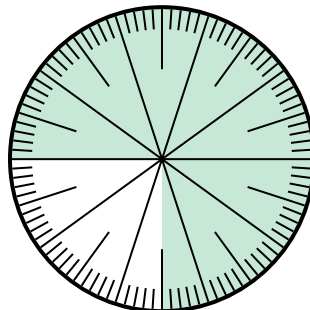
Решите каждую задачу.

1) Какой вариант соответствует затененной части числового колеса?



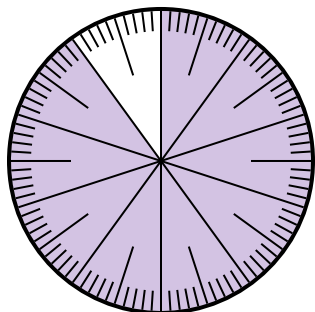
- A.  $\frac{45}{100}$       B.  $\frac{55}{45}$   
 C.  $\frac{45}{55}$       D.  $\frac{4.5}{100}$

2) Какой вариант соответствует затененной части числового колеса?



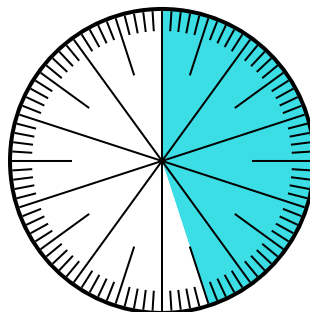
- A.  $\frac{0.75}{100}$       B. 0,75  
 C.  $\frac{7,50}{100}$       D.  $\frac{7.5}{100}$

3) Какой вариант соответствует затененной части числового колеса?



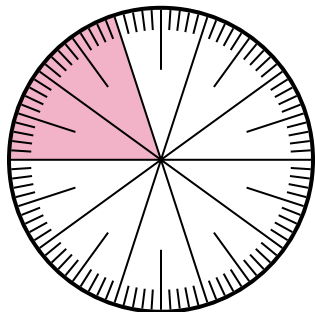
- A. 90      B. 0,090  
 C.  $\frac{90}{100}$       D.  $\frac{9}{100}$

4) Какой вариант соответствует незатененной части числового колеса?



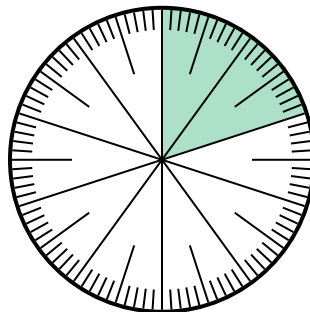
- A. 5.5      B. 55  
 C.  $\frac{5.5}{100}$       D.  $\frac{55}{100}$

5) Какой вариант соответствует незатененной части числового колеса?



- A.  $\frac{20}{80}$       B. 0,80  
 C.  $\frac{8}{100}$       D. 8

6) Какой вариант соответствует незатененной части числового колеса?



- A. 80      B. 8  
 C.  $\frac{0.8}{100}$       D.  $\frac{80}{100}$

**ОТВЕТЫ**

1.   **A**  

2.   **B**  

3.   **C**  

4.   **D**  

5.   **B**  

6.   **D**