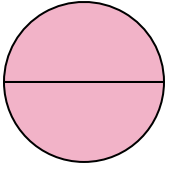




Определите под какой буквой находятся соответствующие дроби.


ОТВЕТЫ

1)



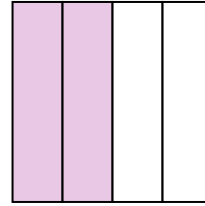
- A. две половинки
- B. одна четверть
- C. две четверти

2)



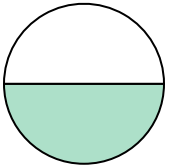
- A. одна половина
- B. три четверти
- C. две половинки

3)



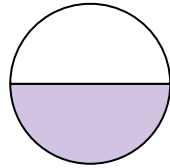
- A. две четверти
- B. одна четвертая
- C. три четверти

4)



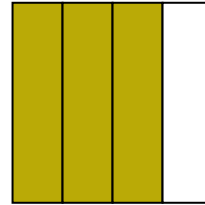
- A. две четверти
- B. три четверти
- C. одна половина

5)



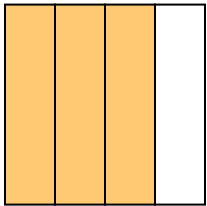
- A. три четверти
- B. одна половина
- C. две четверти

6)



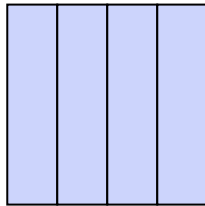
- A. одна четвертая
- B. две четверти
- C. три четверти

7)



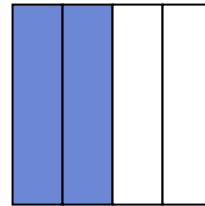
- A. две четверти
- B. четыре четверти
- C. три четверти

8)



- A. две четверти
- B. одна половина
- C. четыре четверти

9)

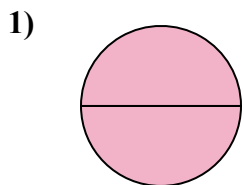


- A. две половинки
- B. две четверти
- C. одна четвертая


- 1. _____
- 2. _____
- 3. _____
- 4. _____
- 5. _____
- 6. _____
- 7. _____
- 8. _____
- 9. _____



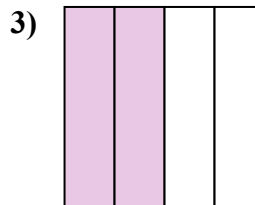
Определите под какой буквой находятся соответствующие дроби.



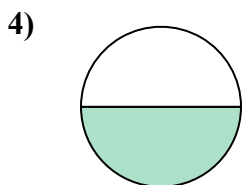
- A. две половинки
- B. одна четверть
- C. две четверти



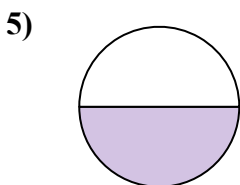
- A. одна половина
- B. три четверти
- C. две половинки



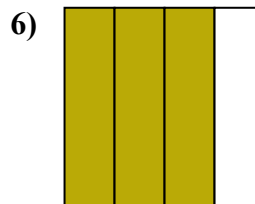
- A. две четверти
- B. одна четвертая
- C. три четверти



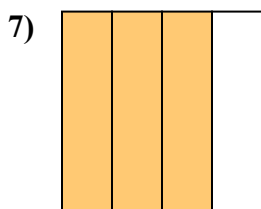
- A. две четверти
- B. три четверти
- C. одна половина



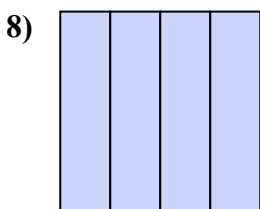
- A. три четверти
- B. одна половина
- C. две четверти



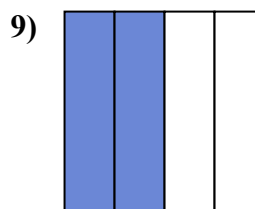
- A. одна четвертая
- B. две четверти
- C. три четверти



- A. две четверти
- B. четыре четверти
- C. три четверти



- A. две четверти
- B. одна половина
- C. четыре четверти



- A. две половинки
- B. две четверти
- C. одна четвертая

ОТВЕТЫ

1. **A**

2. **C**

3. **A**

4. **C**

5. **B**

6. **C**

7. **C**

8. **C**

9. **B**