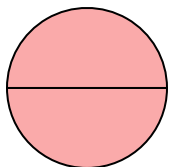




Определите под какой буквой находятся соответствующие дроби.


ОТВЕТЫ

1)



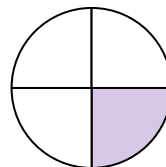
- A. одна половина
- B. две четверти
- C. две половинки

2)



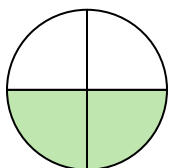
- A. две четверти
- B. три четверти
- C. одна половина

3)




- A. две четверти
- B. одна четверть
- C. одна половина

4)



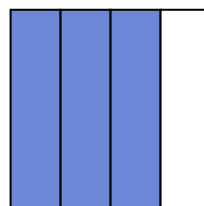
- A. три четверти
- B. две четверти
- C. одна половина

5)



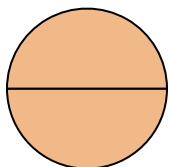
- A. одна половина
- B. три четверти
- C. одна четвертая

6)



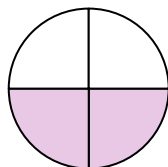
- A. одна половина
- B. три четверти
- C. четыре четверти

7)



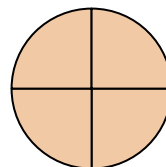
- A. две четверти
- B. две половинки
- C. одна половина

8)



- A. две четверти
- B. одна половина
- C. три четверти

9)



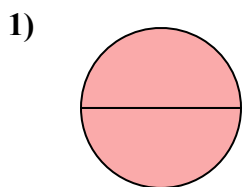
- A. три четверти
- B. две половинки
- C. три четверти

- 1. _____
- 2. _____
- 3. _____
- 4. _____
- 5. _____
- 6. _____
- 7. _____
- 8. _____
- 9. _____

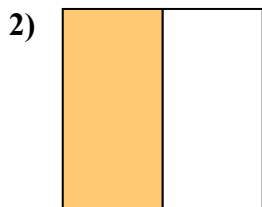


Определите под какой буквой находятся соответствующие дроби.

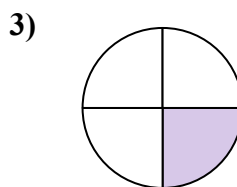
ОТВЕТЫ



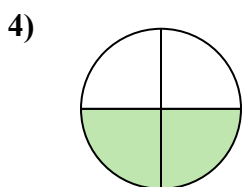
- A. одна половина
- B. две четверти
- C. две половинки



- A. две четверти
- B. три четверти
- C. одна половина



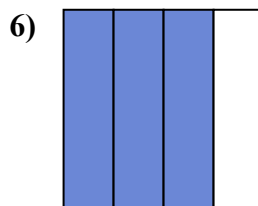
- A. две четверти
- B. одна четверть
- C. одна половина



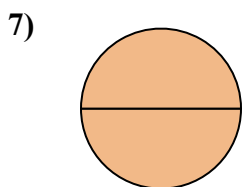
- A. три четверти
- B. две четверти
- C. одна половина



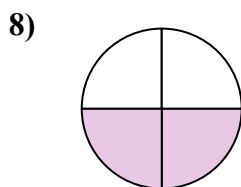
- A. одна половина
- B. три четверти
- C. одна четвертая



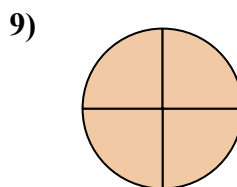
- A. одна половина
- B. три четверти
- C. четыре четверти



- A. две четверти
- B. две половинки
- C. одна половина



- A. две четверти
- B. одна половина
- C. три четверти



- A. три четверти
- B. две половинки
- C. три четверти

1. **C**

2. **C**

3. **B**

4. **B**

5. **A**

6. **B**

7. **B**

8. **A**

9. **C**