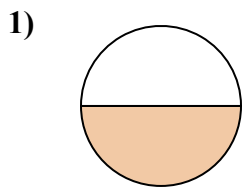


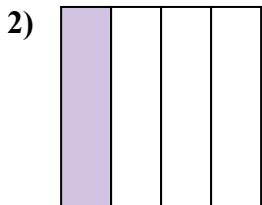


Определите под какой буквой находятся соответствующие дроби.

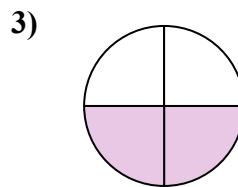
ОТВЕТЫ



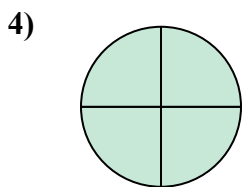
- A. три четверти
- B. одна половина
- C. две четверти



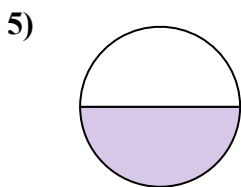
- A. одна четверть
- B. три четверти
- C. две половинки



- A. одна четвертая
- B. одна половина
- C. две четверти



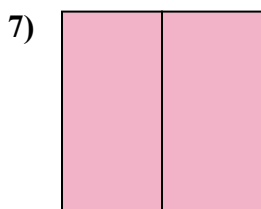
- A. две половинки
- B. три четверти
- C. три четверти




- A. одна половина
- B. две четверти
- C. три четверти



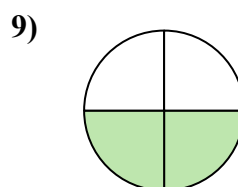
- A. две половинки
- B. одна четвертая
- C. две четверти



- A. одна половина
- B. две половинки
- C. одна четвертая



- A. одна четверть
- B. три четверти
- C. две половинки

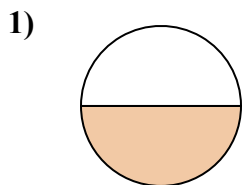


- A. две четверти
- B. одна четверть
- C. одна половина

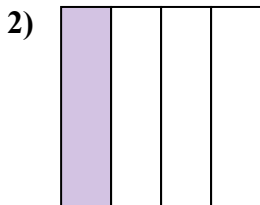
- 1. _____
- 2. _____
- 3. _____
- 4. _____
- 5. _____
- 6. _____
- 7. _____
- 8. _____
- 9. _____



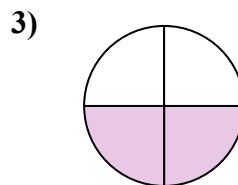
Определите под какой буквой находятся соответствующие дроби.



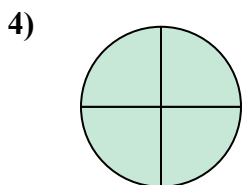
- A. три четверти
- B. одна половина
- C. две четверти



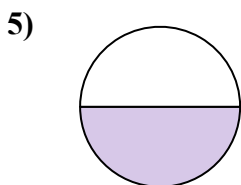
- A. одна четверть
- B. три четверти
- C. две половинки



- A. одна четвертая
- B. одна половина
- C. две четверти




- A. две половинки
- B. три четверти
- C. три четверти



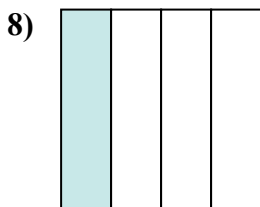
- A. одна половина
- B. две четверти
- C. три четверти



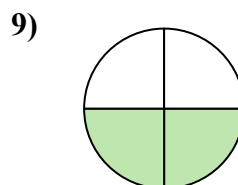
- A. две половинки
- B. одна четвертая
- C. две четверти



- A. одна половина
- B. две половинки
- C. одна четвертая



- A. одна четверть
- B. три четверти
- C. две половинки



- A. две четверти
- B. одна четверть
- C. одна половина

ОТВЕТЫ

1. **B**

2. **A**

3. **C**

4. **B**

5. **A**

6. **A**

7. **B**

8. **A**

9. **A**