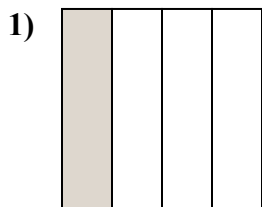


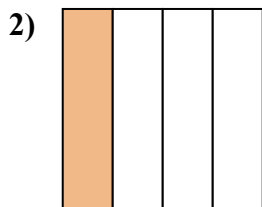


Определите под какой буквой находятся соответствующие дроби.

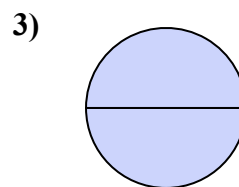
ОТВЕТЫ



- A. одна четвертая
- B. три четверти
- C. одна половина



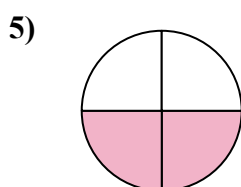
- A. одна половина
- B. одна четвертая
- C. две половинки



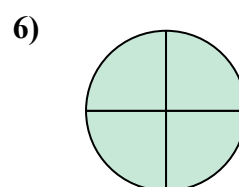
- A. одна половина
- B. одна четвертая
- C. две половинки



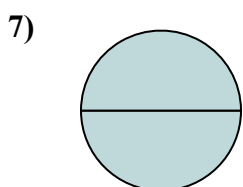
- A. две половинки
- B. три четверти
- C. одна половина



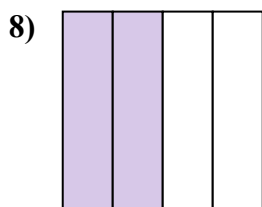
- A. две четверти
- B. три четверти
- C. две половинки



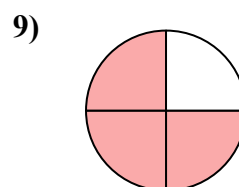
- A. две четверти
- B. три четверти
- C. одна половина



- A. одна четверть
- B. две половинки
- C. три четверти



- A. четыре четверти
- B. две четверти
- C. две половинки



- A. две половинки
- B. три четверти
- C. две четверти

1. _____

2. _____

3. _____

4. _____

5. _____

6. _____

7. _____

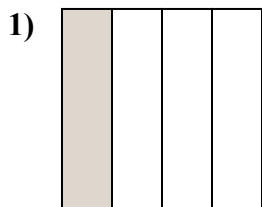
8. _____

9. _____

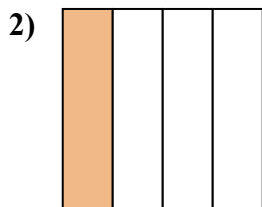


Определите под какой буквой находятся соответствующие дроби.

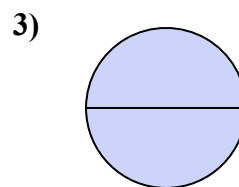
ОТВЕТЫ



- A. одна четвертая
- B. три четверти
- C. одна половина



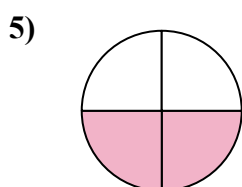
- A. одна половина
- B. одна четвертая
- C. две половинки



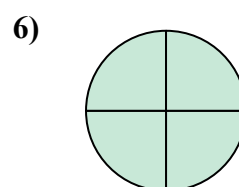
- A. одна половина
- B. одна четвертая
- C. две половинки



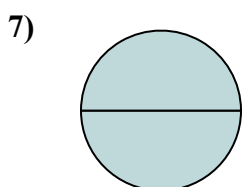
- A. две половинки
- B. три четверти
- C. одна половина



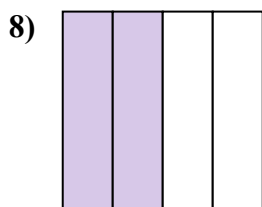
- A. две четверти
- B. три четверти
- C. две половинки



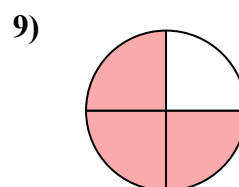
- A. две четверти
- B. три четверти
- C. одна половина



- A. одна четверть
- B. две половинки
- C. три четверти



- A. четыре четверти
- B. две четверти
- C. две половинки



- A. две половинки
- B. три четверти
- C. две четверти

1. **A**

2. **B**

3. **C**

4. **C**

5. **A**

6. **B**

7. **B**

8. **B**

9. **B**