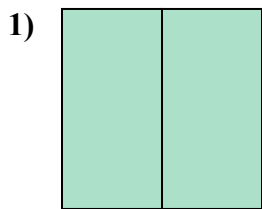


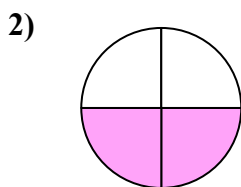


Определите под какой буквой находятся соответствующие дроби.

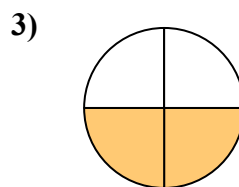
ОТВЕТЫ



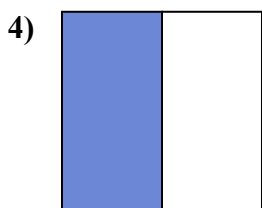
- A. две половинки
- B. одна четвертая
- C. одна половина



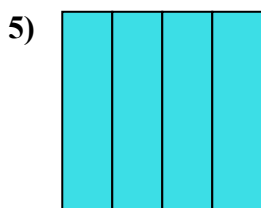
- A. две четверти
- B. две половинки
- C. одна половина



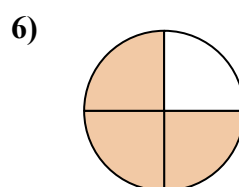
- A. две четверти
- B. две половинки
- C. одна четверть



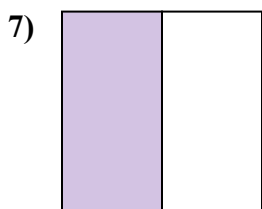
- A. три четверти
- B. одна половина
- C. три четверти



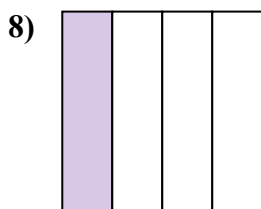
- A. две четверти
- B. четыре четверти
- C. две половинки



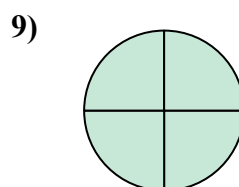
- A. три четверти
- B. четыре четверти
- C. одна четверть



- A. три четверти
- B. три четверти
- C. одна половина



- A. две четверти
- B. три четверти
- C. одна четвертая



- A. три четверти
- B. две половинки
- C. три четверти

1. _____

2. _____

3. _____

4. _____

5. _____

6. _____


7. _____

8. _____

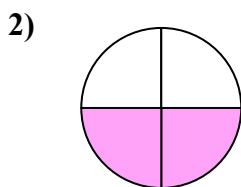
9. _____



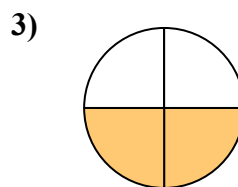
Определите под какой буквой находятся соответствующие дроби.




- A. две половинки
- B. одна четвертая
- C. одна половина



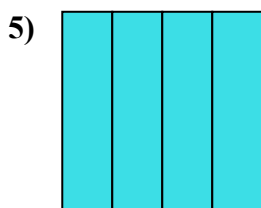
- A. две четверти
- B. две половинки
- C. одна половина



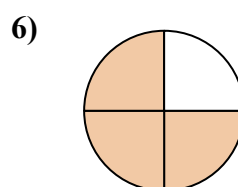
- A. две четверти
- B. две половинки
- C. одна четверть



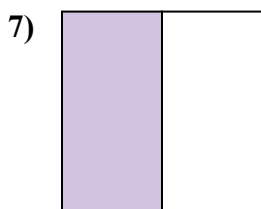
- A. три четверти
- B. одна половина
- C. три четверти



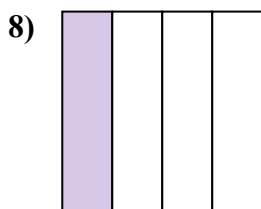
- A. две четверти
- B. четыре четверти
- C. две половинки



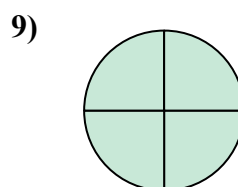
- A. три четверти
- B. четыре четверти
- C. одна четверть



- A. три четверти
- B. три четверти
- C. одна половина



- A. две четверти
- B. три четверти
- C. одна четвертая



- A. три четверти
- B. две половинки
- C. три четверти

ОТВЕТЫ

1. **A**

2. **A**

3. **A**

4. **B**

5. **B**

6. **A**

7. **C**

8. **C**

9. **C**