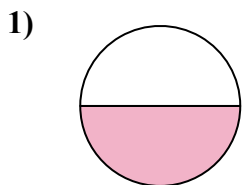





Определите под какой буквой находятся соответствующие дроби.

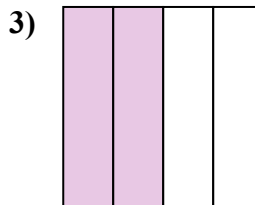
ОТВЕТЫ



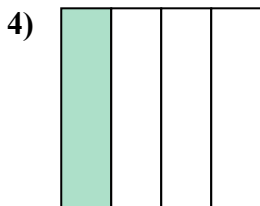
- A. одна половина
- B. две половинки
- C. одна четвертая



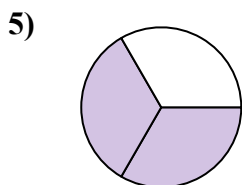
- A. три четверти
- B. одна четверть
- C. две половинки



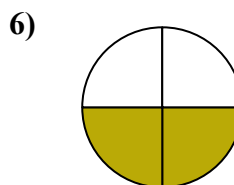
- A. две четверти
- B. одна половина
- C. три четверти



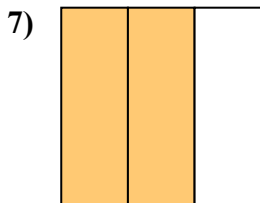
- A. три четверти
- B. одна четвертая
- C. две половинки



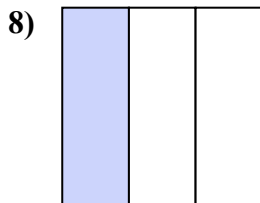
- A. три четверти
- B. две третьих
- C. две четверти



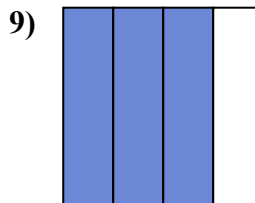
- A. три четверти
- B. две четверти
- C. три четверти



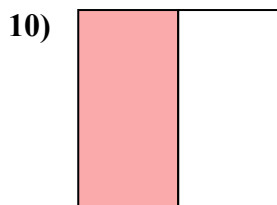
- A. одна четверть
- B. четыре четверти
- C. две третьих



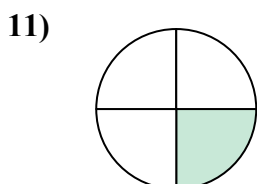
- A. три четверти
- B. одна треть
- C. две половинки



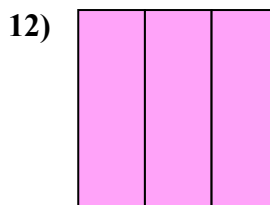
- A. три четверти
- B. три четверти
- C. две четверти



- A. две половинки
- B. одна четверть
- C. одна половина



- A. три четверти
- B. одна половина
- C. одна четверть



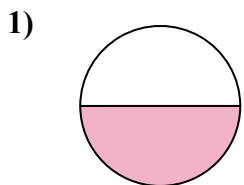
- A. три трети
- B. две половинки
- C. одна четверть

- 1. _____
- 2. _____
- 3. _____
- 4. _____
- 5. _____
- 6. _____
- 7. _____
- 8. _____
- 9. _____
- 10. _____
- 11. _____
- 12. _____




Определите под какой буквой находятся соответствующие дроби.

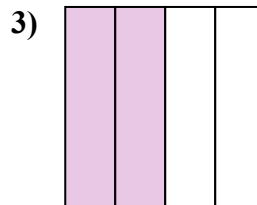
ОТВЕТЫ




- A. одна половина
- B. две половинки
- C. одна четвертая



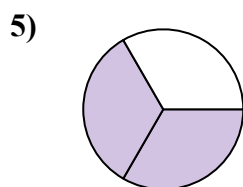
- A. три четверти
- B. одна четверть
- C. две половинки



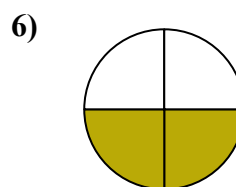
- A. две четверти
- B. одна половина
- C. три четверти



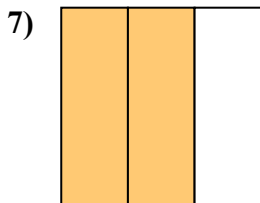
- A. три четверти
- B. одна четвертая
- C. две половинки



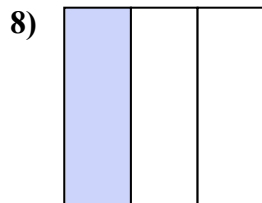
- A. три четверти
- B. две третьих
- C. две четверти



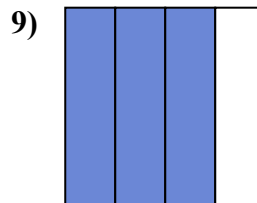
- A. три четверти
- B. две четверти
- C. три четверти



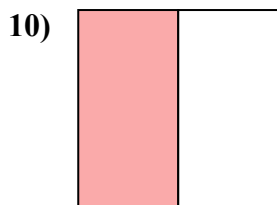
- A. одна четверть
- B. четыре четверти
- C. две третьих



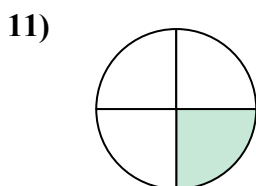
- A. три четверти
- B. одна треть
- C. две половинки



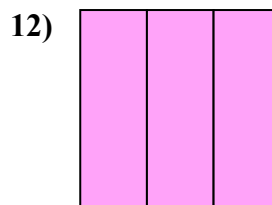
- A. три четверти
- B. три четверти
- C. две четверти



- A. две половинки
- B. одна четверть
- C. одна половина



- A. три четверти
- B. одна половина
- C. одна четверть



- A. три трети
- B. две половинки
- C. одна четверть

1. **A**

2. **C**

3. **A**

4. **B**

5. **B**

6. **B**

7. **C**

8. **B**

9. **B**

10. **C**

11. **C**

12. **A**