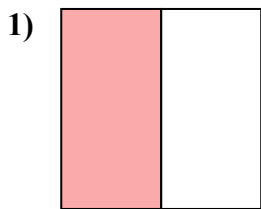


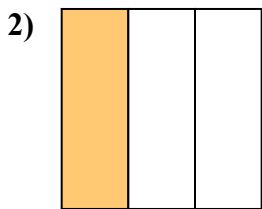


Определите под какой буквой находятся соответствующие дроби.

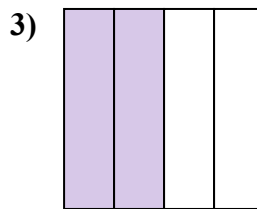
ОТВЕТЫ



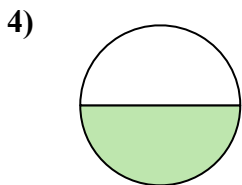
- A. одна половина
- B. одна четверть
- C. две четверти



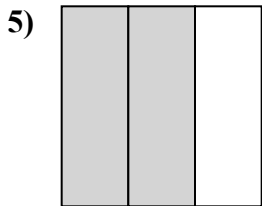
- A. одна четвертая
- B. одна треть
- C. две половинки



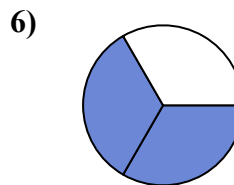
- A. две половинки
- B. две четверти
- C. три четверти



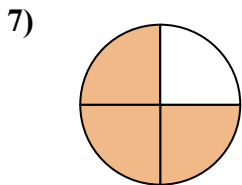
- A. одна половина
- B. четыре четверти
- C. три четверти



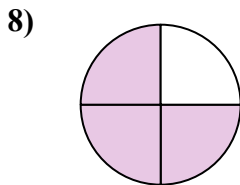
- A. две третьих
- B. две четверти
- C. четыре четверти



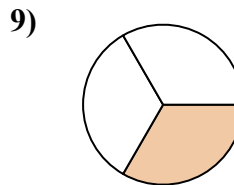
- A. две третьих
- B. две половинки
- C. одна четверть



- A. три четверти
- B. одна четверть
- C. три четверти



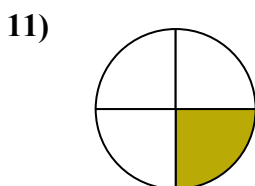
- A. три четверти
- B. две половинки
- C. четыре четверти



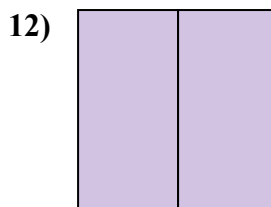
- A. одна треть
- B. две четверти
- C. три четверти



- A. одна четверть
- B. три трети
- C. две четверти



- A. одна четвертая
- B. три четверти
- C. две половинки



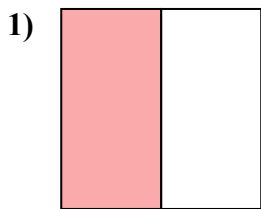
- A. три четверти
- B. две четверти
- C. две половинки

- 1. _____
- 2. _____
- 3. _____
- 4. _____
- 5. _____
- 6. _____
- 7. _____
- 8. _____
- 9. _____
- 10. _____
- 11. _____
- 12. _____

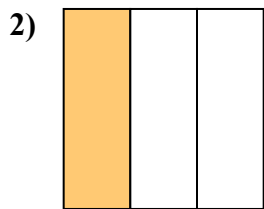


Определите под какой буквой находятся соответствующие дроби.

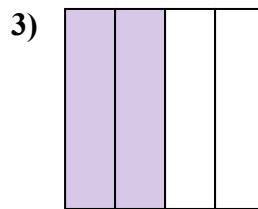
ОТВЕТЫ



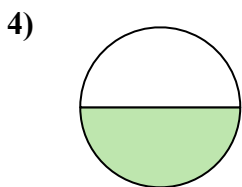
- A. одна половина
- B. одна четверть
- C. две четверти



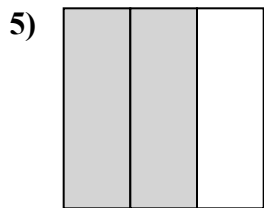
- A. одна четвертая
- B. одна треть
- C. две половинки



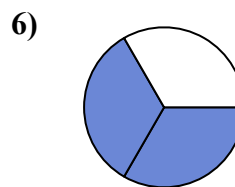
- A. две половинки
- B. две четверти
- C. три четверти



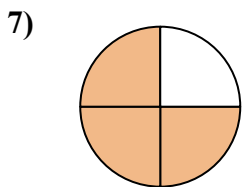
- A. одна половина
- B. четыре четверти
- C. три четверти



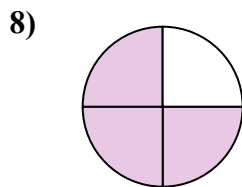
- A. две третьих
- B. две четверти
- C. четыре четверти



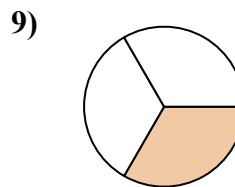
- A. две третьих
- B. две половинки
- C. одна четверть



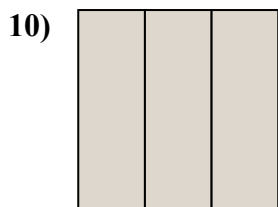
- A. три четверти
- B. одна четверть
- C. три четверти



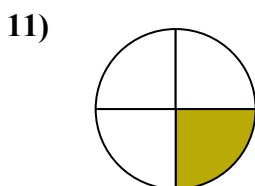
- A. три четверти
- B. две половинки
- C. четыре четверти



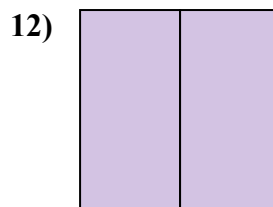
- A. одна треть
- B. две четверти
- C. три четверти



- A. одна четверть
- B. три трети
- C. две четверти



- A. одна четвертая
- B. три четверти
- C. две половинки



- A. три четверти
- B. две четверти
- C. две половинки

1. **A**

2. **B**

3. **B**

4. **A**

5. **A**

6. **A**

7. **C**

8. **A**

9. **A**

10. **B**

11. **A**

12. **C**