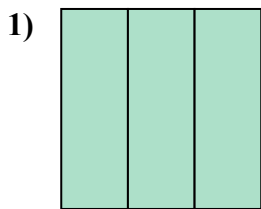


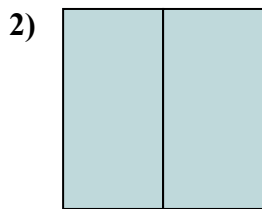


Определите под какой буквой находятся соответствующие дроби.

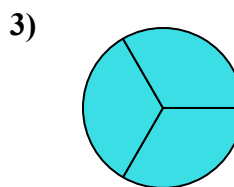
**ОТВЕТЫ**



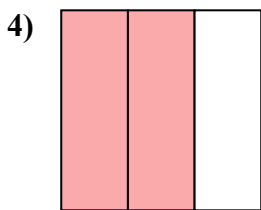
- A. три четверти
- B. три трети
- C. две половинки



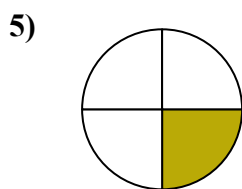
- A. три четверти
- B. две половинки
- C. две четверти



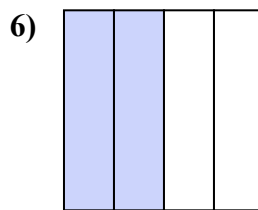
- A. три четверти
- B. две четверти
- C. три трети



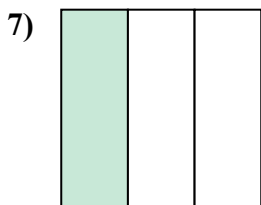
- A. две третьих
- B. четыре четверти
- C. одна четвертая



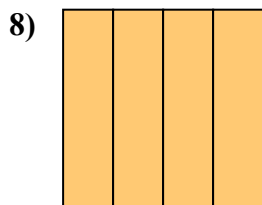
- A. две четверти
- B. одна четверть
- C. две половинки



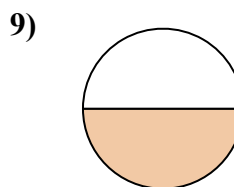
- A. одна четверть
- B. одна половина
- C. две четверти



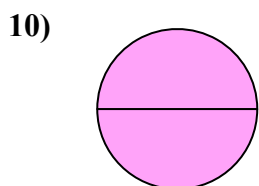
- A. четыре четверти
- B. одна треть
- C. одна четверть



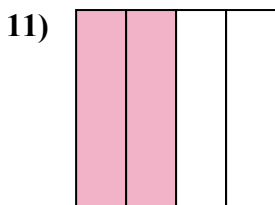
- A. четыре четверти
- B. одна половина
- C. две половинки



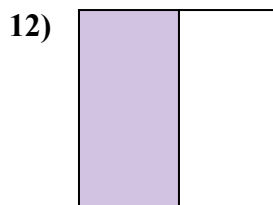
- A. одна четвертая
- B. две половинки
- C. одна половина



- A. четыре четверти
- B. две половинки
- C. три четверти



- A. две четверти
- B. одна четверть
- C. три четверти



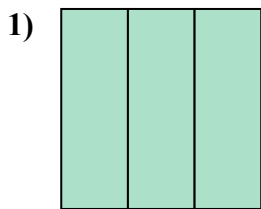
- A. три четверти
- B. одна половина
- C. три четверти

- 1. \_\_\_\_\_
- 2. \_\_\_\_\_
- 3. \_\_\_\_\_
- 4. \_\_\_\_\_
- 5. \_\_\_\_\_
- 6. \_\_\_\_\_
- 7. \_\_\_\_\_
- 8. \_\_\_\_\_
- 9. \_\_\_\_\_
- 10. \_\_\_\_\_
- 11. \_\_\_\_\_
- 12. \_\_\_\_\_

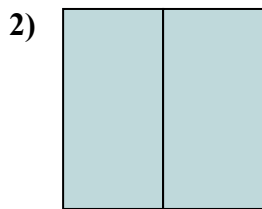


Определите под какой буквой находятся соответствующие дроби.

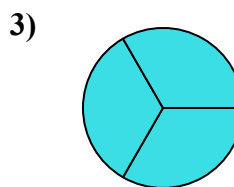
**ОТВЕТЫ**



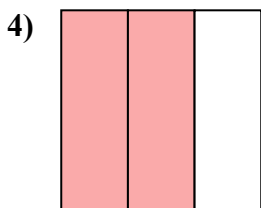
- A. три четверти
- B. три трети
- C. две половинки



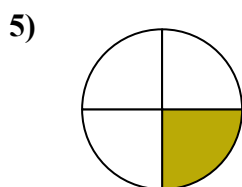
- A. три четверти
- B. две половинки
- C. две четверти



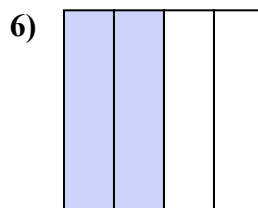
- A. три четверти
- B. две четверти
- C. три трети



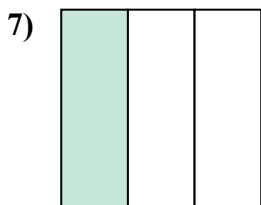
- A. две третьих
- B. четыре четверти
- C. одна четвертая



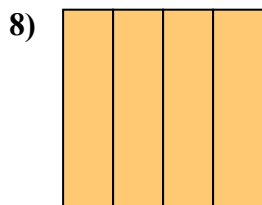
- A. две четверти
- B. одна четверть
- C. две половинки



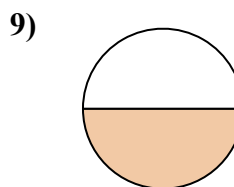
- A. одна четверть
- B. одна половина
- C. две четверти



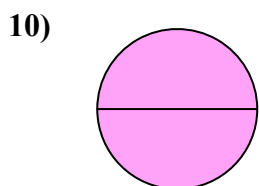
- A. четыре четверти
- B. одна треть
- C. одна четверть



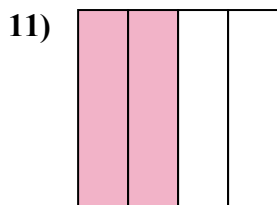
- A. четыре четверти
- B. одна половина
- C. две половинки



- A. одна четвертая
- B. две половинки
- C. одна половина



- A. четыре четверти
- B. две половинки
- C. три четверти



- A. две четверти
- B. одна четверть
- C. три четверти



- A. три четверти
- B. одна половина
- C. три четверти

- 1. В
- 2. В
- 3. С
- 4. А
- 5. В
- 6. С
- 7. В
- 8. А
- 9. С
- 10. В
- 11. А
- 12. В