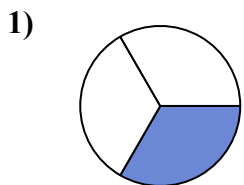


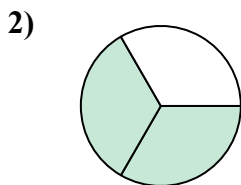


Определите под какой буквой находятся соответствующие дроби.

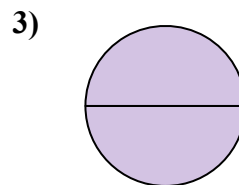
ОТВЕТЫ



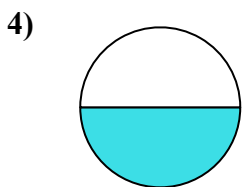
- A. четыре четверти
- B. одна четверть
- C. одна треть



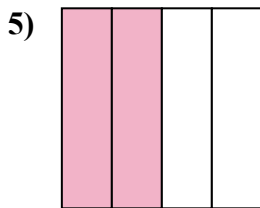
- A. две третьих
- B. одна половина
- C. одна четверть



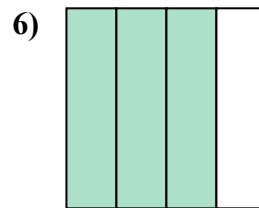
- A. одна четвертая
- B. две четверти
- C. две половинки



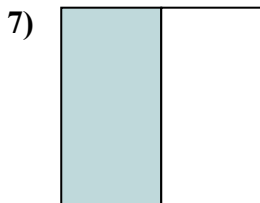
- A. одна половина
- B. четыре четверти
- C. три четверти



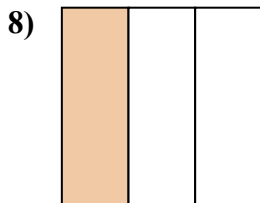
- A. четыре четверти
- B. две половинки
- C. две четверти



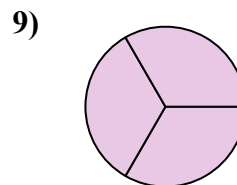
- A. одна четвертая
- B. четыре четверти
- C. три четверти



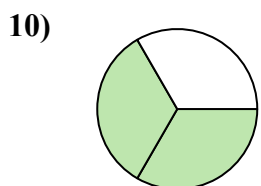
- A. две четверти
- B. две половинки
- C. одна половина



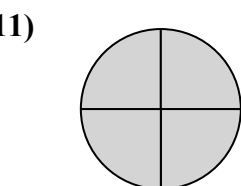
- A. две четверти
- B. одна треть
- C. три четверти



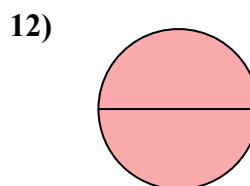
- A. три трети
- B. одна половина
- C. три четверти



- A. три четверти
- B. две третьих
- C. три четверти



- A. одна четвертая
- B. четыре четверти
- C. одна половина



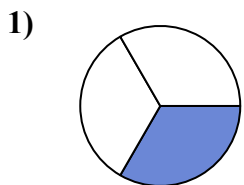
- A. две половинки
- B. две четверти
- C. три четверти

- 1. _____
- 2. _____
- 3. _____
- 4. _____
- 5. _____
- 6. _____
- 7. _____
- 8. _____
- 9. _____
- 10. _____
- 11. _____
- 12. _____

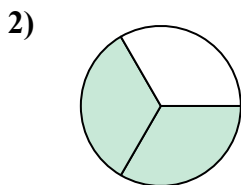


Определите под какой буквой находятся соответствующие дроби.

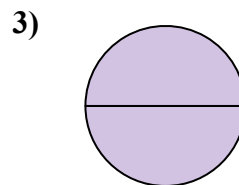
ОТВЕТЫ



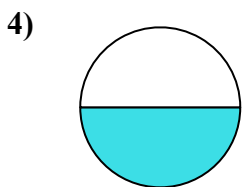
- A. четыре четверти
- B. одна четверть
- C. одна треть



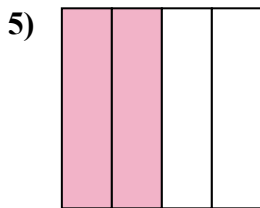
- A. две третьих
- B. одна половина
- C. одна четверть



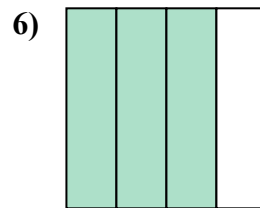
- A. одна четвертая
- B. две четверти
- C. две половинки



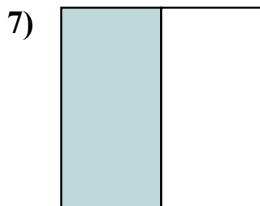
- A. одна половина
- B. четыре четверти
- C. три четверти



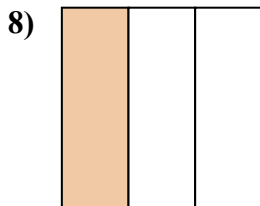
- A. четыре четверти
- B. две половинки
- C. две четверти



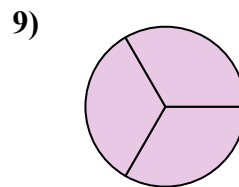
- A. одна четвертая
- B. четыре четверти
- C. три четверти



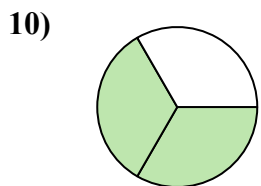
- A. две четверти
- B. две половинки
- C. одна половина



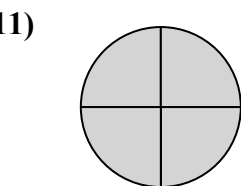
- A. две четверти
- B. одна треть
- C. три четверти



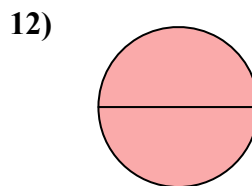
- A. три трети
- B. одна половина
- C. три четверти



- A. три четверти
- B. две третьих
- C. три четверти



- A. одна четвертая
- B. четыре четверти
- C. одна половина



- A. две половинки
- B. две четверти
- C. три четверти

- 1. C
- 2. A
- 3. C
- 4. A
- 5. C
- 6. C
- 7. C
- 8. B
- 9. A
- 10. B
- 11. B
- 12. A