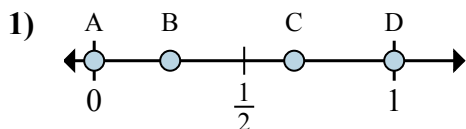


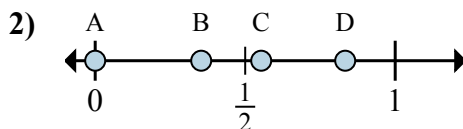


Определите под какой буквой находится правильный ответ по положению дроби на цифровой прямой.

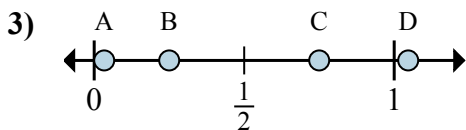
ОТВЕТЫ



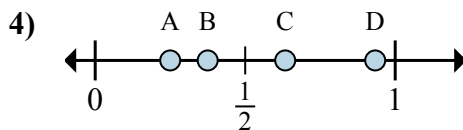
- a. Какая буква наиболее точно показывает $\frac{0}{3}$
- b. Какая буква наиболее точно показывает $\frac{2}{3}$



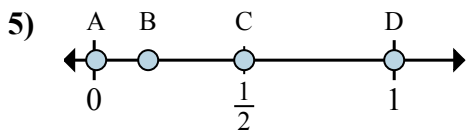
- a. Какая буква наиболее точно показывает $\frac{0}{6}$
- b. Какая буква наиболее точно показывает $\frac{5}{6}$



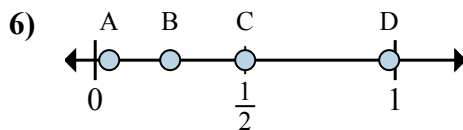
- a. Какая буква наиболее точно показывает $\frac{3}{4}$
- b. Какая буква наиболее точно показывает $\frac{1}{4}$



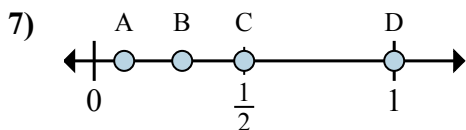
- a. Какая буква наиболее точно показывает $\frac{2}{8}$
- b. Какая буква наиболее точно показывает $\frac{3}{8}$



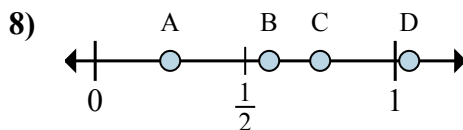
- a. Какая буква наиболее точно показывает $\frac{2}{4}$
- b. Какая буква наиболее точно показывает $\frac{4}{4}$



- a. Какая буква наиболее точно показывает $\frac{1}{4}$
- b. Какая буква наиболее точно показывает $\frac{2}{4}$



- a. Какая буква наиболее точно показывает $\frac{1}{2}$
- b. Какая буква наиболее точно показывает $\frac{2}{2}$



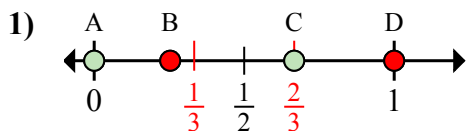
- a. Какая буква наиболее точно показывает $\frac{1}{4}$
- b. Какая буква наиболее точно показывает $\frac{3}{4}$

- 1. _____
- 2. _____
- 3. _____
- 4. _____
- 5. _____
- 6. _____
- 7. _____
- 8. _____

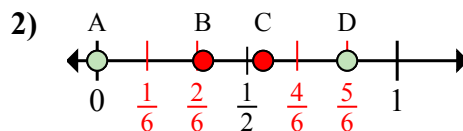


Определите под какой буквой находится правильный ответ по положению дроби на цифровой прямой.

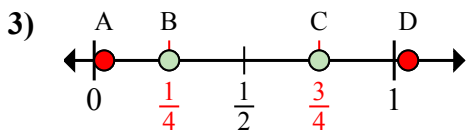
ОТВЕТЫ



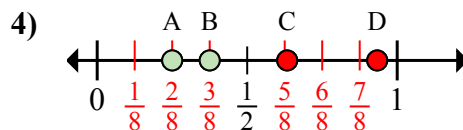
- a. Какая буква наиболее точно показывает $\frac{0}{3}$
- b. Какая буква наиболее точно показывает $\frac{2}{3}$



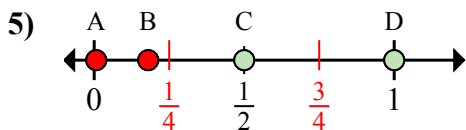
- a. Какая буква наиболее точно показывает $\frac{0}{6}$
- b. Какая буква наиболее точно показывает $\frac{5}{6}$



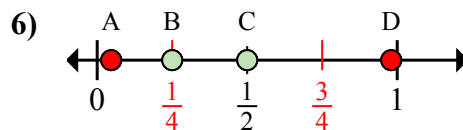
- a. Какая буква наиболее точно показывает $\frac{3}{4}$
- b. Какая буква наиболее точно показывает $\frac{1}{4}$



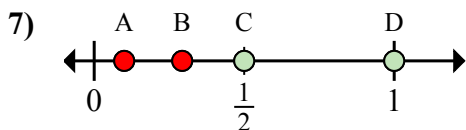
- a. Какая буква наиболее точно показывает $\frac{2}{8}$
- b. Какая буква наиболее точно показывает $\frac{3}{8}$



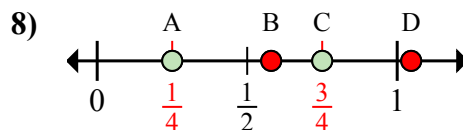
- a. Какая буква наиболее точно показывает $\frac{2}{4}$
- b. Какая буква наиболее точно показывает $\frac{4}{4}$



- a. Какая буква наиболее точно показывает $\frac{1}{4}$
- b. Какая буква наиболее точно показывает $\frac{2}{4}$



- a. Какая буква наиболее точно показывает $\frac{1}{2}$
- b. Какая буква наиболее точно показывает $\frac{2}{2}$



- a. Какая буква наиболее точно показывает $\frac{1}{4}$
- b. Какая буква наиболее точно показывает $\frac{3}{4}$

- 1. A C
- 2. A D
- 3. C B
- 4. A B
- 5. C D
- 6. B C
- 7. C D
- 8. A C